

## 2) Plans de jeu du déclarant (Match/4)

### Plan de jeu 1

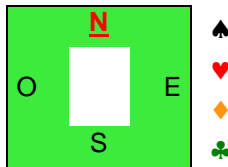
♠ RD105  
♥ AV108  
♦ D92  
♣ 76

Contrat : 3SA

Joué par Sud

Entame : 4♣

♠  
♥  
♦  
♣ 4



♠ AV2  
♥ D94  
♦ AV106  
♣ RD5

Sur le 4♣ et votre 6, Est monte du Valet.  
Quel est votre plan de jeu ?

### Plan de jeu 2

♠ 76  
♥ AD1054  
♦ AD4  
♣ 764

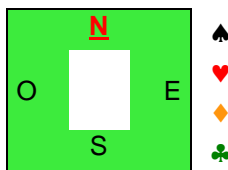
Contrat : 3SA

Joué par Sud

Entame : 3♠

Est monte du 10 sur le 3 de pique.

♠ 3  
♥  
♦  
♣



♠ RD5  
♥ R9  
♦ R73  
♣ AV1053

Quel est votre plan de jeu ?

### Plan de jeu 3

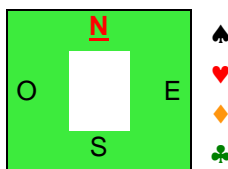
♠ 984  
♥ DV63  
♦ 854  
♣ AD2

Contrat : 3SA

Joué par Sud

Entame : 6♠

♠ 6  
♥  
♦  
♣



♠ AD5  
♥ A84  
♦ A974  
♣ R94

Quel est votre plan de jeu ?