

Cours 3^{ème} année

Compte des points du déclarant

(Corrigé exercices de la maison)

♠ 9 7 3

♥ R V 2


♦ A D 8 3

♣ V 9 4

Après la séquence :

Sud	Ouest	Nord	Est
1SA	passé	3SA	fin

Ouest entame du 2 de Pique



♠ A 8 4

♥ 8 7 6 3

♦ 9 5

♣ 8 6 3 2

1. Combien de points H en Est ?

4 points H

2. Combien de point H au mort ?

11 points H

3. Combien de points H connus en Sud ?

15 à 17 points H

4. Combien de points pouvez-vous déduire en Ouest ?

8 à 10 points H

♠ R 8 5

♥ 10 7 2


♦ A R 5 4

♣ 9 8 3

Après la séquence :

Sud	Ouest	Nord	Est
1SA	passé	3SA	fin

Ouest entame du Roi de Cœur



♠ A 9 4

♥ 8 4

♦ D 10 6 3

♣ V 6 4 2

1. Combien de points H en Est ?

7 points H

1. Combien de point H au mort ?

10 points H

2. Combien de points H connus en Sud ?

15 à 17 points H

3. Combien de points pouvez-vous déduire en Ouest ?

6 à 8 points H

Conclusion :

Ouest possède Roi, Dame, Valet à Cœur (6 points)


Il peut encore avoir une dame ou deux valets au maximum

DONNE

Donneur : Sud

♠ V 6
♥ A D V 7
♦ R V 5
♣ D 7 4 2

♠ 10 9 8 4 2
♥ 4 3
♦ A 4 3
♣ R V 10



Sud	Ouest	Nord	Est
panse	panse	1♣	panse
1♥	panse	2♥	panse
4♥	fin		

- Vous êtes en Ouest et vous entamez du 10 de Pique. Nord joue le Valet, couvert par le Roi d'Est pris par l'As de Sud
- Sud joue Cœur pour le Valet du mort. Il encaisse l'As de Cœur.
- Il joue le 5 de Carreau pour sa Dame que vous prenez de l'As

1. Combien de points le déclarant a-t-il montré ?

2. Quel est le maximum de points dans la main de Sud ?

3. Qui a l'As de Trèfle ?

4. Que rejouez-vous ?

♠	V 6
♥	A D V 7
♦	R V 5
♣	D 7 4 2

♠	10 9 8 4 2
♥	4 3
♦	A 4 3
♣	R V 10

	N	
O		E
	S	

Sud	Ouest	Nord	Est
		1 ♣	
1 ♥		2 ♥	
4 ♥			

- Vous êtes en Ouest et vous entamez du 10 de Pique. Nord joue le Valet, couvert par le Roi d'Est pris par l'As de Sud
- Sud joue Cœur pour le Valet du mort. Il encaisse l'As de Cœur.
- Il joue le 5 de Carreau pour sa Dame que vous prenez de l'As

1. Combien de points le déclarant a-t-il montré ?

Pique : As et Dame (Est aurait fourni)

Cœur : Roi (car Est l'aurait joué)

Carreau : On a vu la Dame

Total = 11

2. Quel est le maximum de points dans la main de Sud ?

Sud a passé d'entrée, il a au maximum 11 points

3. Qui a l'As de Trèfle ?

Pas Sud, donc, Est a l'As de trèfle

4. Que rejouez-vous ?

Le Roi de Trèfle suivi du Valet pour réaliser 3 levées dans cette couleur

Cours 3^{ème} année

Redemande de l'ouvreur avec un unicolore mineur

Les mains unicolore mineur

Main unicolore : la couleur la plus longue possède **au moins 6 cartes**

*La grande différence avec l'unicolore majeur :
L'ouverture en mineur ne garantit que 3 cartes*

*Comment annoncer votre unicolore ?
En répétant votre couleur*

Les mains unicolore mineur



Vous annoncez votre unicolore mineur en répétant votre ouverture





Comment annoncer votre force ?

- ***Sans saut : de 13 à 16 points HL***
- ***Avec saut de 17 à 19 points***





Exercice

Quelle est votre seconde enchère en Sud, après le début de séquence ?





Nord	Sud
	1 
1 	?

Donne 1	
	3
	D 6 3
	R V 8
	A D 7 6 5 2

2 


Donne 2	
	D 4 3
	8 5
	D V 9
	A R 10 6 5

1SA

Donne 3	
	R D 3
	V 8
	A V
	R D 10 9 7 2

3 

*6 cartes à Trèfle
14HL*

*Main régulière 5332
13HL
Si Nord répète Pique , il
promettra 5 cartes à *

*6 cartes à Trèfle
18HL*

La préférence des contrats à jouer

Vous avez ouvert en mineur et répété votre couleur

Quel contrat préférez-vous jouer ?

L'objectif du joueur qui ouvre avec un unicolore mineur :

Jouer le contrat de 3SA

Si vous devez vous contenter d'une partielle, ce sera à l'atout dans votre mineure

Quelle est votre 2^{ème} enchère en Nord après le début de séquence ?

Sud	Nord
1 ♣	1 ♠
2 ♣	?

Donne 1	
♠	A V 6 3 2
♥	R 4 2
♦	8 5 3
♣	7 6

pas

Force de votre main : 9 HL
Force du camp : 22-25HL
Pas de manche, on n'améliore pas une partielle

Sud	Nord
1 ♦	1 ♥
2 ♦	?



Donne 2	
♠	A V 5 2
♥	D V 9 4
♦	V 2
♣	R V 3





3SA

Force de votre main : 13 HL
Jeu régulier et arrêts autres couleurs
Force du camp : 26-29HL



Exercice




Quelle est votre 2^{ème} enchère en Nord après le début de séquence ?





Sud	Nord
1 	1 
3 	?

Donne 3	
	A V 7 6 5
	V 8 4 2
	8 7
	9 5

pas

*Force de votre main : 7 HL
Force du camp : 25-27HLD
Pas de manche. Après 1  , 3 
serait forcing. Pas d'arrêt carreau*




Sud	Nord
1 	1 
2 	?





Donne 4	
	A V 8 5 3
	R D 5
	7 6
	10 8 5

2SA

*Force de votre main : 11 HL ou 11HLD
Jeu régulier
Force du camp : 24-27HL
Proposition de manche à Sans Atout*

Quelle est votre 2^{ème} enchère en Nord après le début de séquence ?

Sud	Nord
1 	1 
3 	?

Donne 5	
	R D 6
	D V 7 3
	V 6
	10 9 8 5

3SA






Force de votre main : 9 HL

Jeu régulier

Force du camp : 26-28HL

Assez pour la manche à Sans Atout

Un commentaire sur la main 4

Sud	Nord
1 	1 
2 	?
Donne 4	
	A V 8 5 3
	R D 5
	7 6
	10 8 5

2SA


En répondant 2SA, Nord ne dénie pas 5 cartes à Pique.

Si Sud, l'ouvreur, possède 3 cartes à Pique et qu'il accepte de jouer la manche

Il peut proposer 3 

Nord comprendra que Sud a :

- 6 cartes à Carreau
- 3 cartes à Pique

Sud est d'accord pour jouer 3SA ou 4 
et c'est Nord qui décide selon son jeu

En résumé,

Après une ouverture en mineure et un changement de palier au niveau de 1 :

Si l'ouvreur répète sa couleur sans saut, le répondant

- *Passe avec moins de 10 points HL*
- *Propose la manche à 2SA avec 10-11 points HL*
- *Impose la manche à 3SA avec 12-14 points HL*

Si l'ouvreur répète sa couleur avec saut, le répondant

- *Passe avec moins de 8 points HL*
- *Impose la manche à 3SA à partir de 8 points HL*

Le répondant fait une enchère à 1SA

Sur une ouverture de 1♣ :

- **Promet 8-10 points HL**
- **une main régulière, sans 4 cartes dans une majeure**

Sur une ouverture de 1♦ :

- **Promet 6-10 points HL, sans 4 cartes dans une majeure**
- **ne garantit pas une main régulière**

(le répondant peut-être unicolore Trèfle mais n'a pas les points pour répondre au palier de 2)

Exemple	
♠	D 6 3
♥	V 6 5
♦	2
♣	A 10 9 7 6 2

Sud	Nord
	1♦
1SA	

Le répondant fait une enchère à 2SA

L'enchère garantit :

- **Une main régulière**
- **11 à 12 points H**
- **Pas de majeure 4ème**

2^{ème} enchère de l'ouvreur :

- **3SA avec un minimum de 14 points HL**
- **Répète sa mineure au palier de 3 avec moins de 14 points**

La répétition est une enchère d'arrêt indiquant que la manche ne peut être envisagée

Le répondant fait une enchère à 3SA

L'enchère garantit :


- Une main régulière
- 13 à 14 points HL
- Pas de majeure 4ème





2^{ème} enchère de l'ouvreur :


- Passer
- Annoncer le chelem dans sa mineure


Exercice





Quelle est votre 2^{ème} enchère en Sud après le début de séquence ?


Sud	Nord
1 	1SA
?	

Donne 1	
	6
	D 7 3
	R V 4
	A D 7 6 5 2

2 

Sud	Nord
1 	1SA
?	

Donne 2	
	D 3
	R 10 5
	A D V 8 6 4
	A 9


3 





*Les adversaires ont un minimum de 9 cartes à Pique
Mieux vaut indiquer vos 6 cartes à Trèfle. Votre partenaire saura quoi décider*

La manche est envisageable à SA si votre partenaire est maximum de son enchère (8-10 points H)

Exercice


Quelle est votre 2^{ème} enchère en Sud après le début de séquence ?





Sud	Nord
1 	2SA
?	

Donne 3	
	A 9
	D V 2
	6 4
	A D 10 8 6 2

3SA

*Force de votre main : 15 HL
Force du camp : 26-27HLD
Les points pour la manche à SA*

Sud	Nord
1 	3SA
?	?


Donne 4	
	V 6
	D 7 2
	A D V 8 5 2
	D 2





passe


*Force de votre main : 14 HL
Force plancher du camp : 27HL
Sans doute le meilleur contrat à jouer*

Exercice

Quelle est votre 2^{ème} enchère en Sud après le début de séquence ?

Sud	Nord
1 	3SA
?	

Donne 5	
	A 7 6
	A 9 5
	2
	A R D 8 5 3

6 

Force de votre main : 19 HL

Fit à Trèfle

Force du camp : 33HLD minimum

♠ A R D 9

♥ 8 4 2

♦ R 7 3


♣ V 5 2

♠ 10 8 7

♥ V 9 7 6 5

♦ D 10 8

♣ R 3



♠ V 5 4 2

♥ 10 3

♦ 5 2

♣ A D 10 6 4

♠ 6 3

♥ A R D

♦ A V 9 6 4

♣ 9 8 7

Sud	Ouest	Nord	Est
1♦	Passe	1♠	Passe
1SA	Passe	3SA	Fin

Par le 10 de Est, Ouest comprend que As, Roi et Dame de cœur sont en Sud. Sud cherche à affranchir Carreau et tenter l'impasse à la Dame.

Ouest ne peut rien espérer à Cœur, Pique et Carreau. Il joue le Roi de Trèfle puis petit Trèfle pour son partenaire qui fera ainsi réaliser 5 plis à trèfle pour son camp.

Entame : 6 de Cœur

♠ 7
 ♥ A 9 2
 ♦ A R 8 6 4
 ♣ 8 7 5 3

♠ D V 10 8 4
 ♥ 8
 ♦ V 7 5 2
 ♣ A D 2

N
 O E
 S

♠ 6 3
 ♥ R D 10 7 5 4 3
 ♦ 10
 ♣ R 9 4

♠ A R 9 5 2
 ♥ V 6
 ♦ D 9 3
 ♣ V 10 6

Sud	Ouest	Nord	Est
3♥	Passe	4♥	Fin

Sur l'entame, Est sait que le déclarant ne perdra qu'une levée à Pique. La chute du contrat ne peut survenir que par une contre-attaque à trèfle.

Il prend l'entame et joue Valet de trèfle.

Le Roi est traversé et la défense encaissera 4 plis pour un de chute.

Entame : Dame de Pique

	♠ 9 7 3											
	♥ A V 10 8											
	♦ A V											
	♣ V 10 6 4											
♠ D V 10 8 4	<table style="margin: auto; border-collapse: collapse;"> <tr><td></td><td style="text-align: center;">N</td><td></td></tr> <tr><td style="text-align: center;">O</td><td></td><td style="text-align: center;">E</td></tr> <tr><td></td><td style="text-align: center;">S</td><td></td></tr> </table>		N		O		E		S		♠ A R	
	N											
O		E										
	S											
♥ 9 2		♥ 7 6 5 3										
♦ 6 2		♦ 8 5 4 3										
♣ A 9 7 5		♣ 8 3 2										
	♠ 6 5 2											
	♥ R D 4											
	♦ R D 10 9 7											
	♣ R D											

Sud	Ouest	Nord	Est
1SA	Passe	2♣	Passe
2♦	Passe	3SA	Fin

Ouest entame de la dame de Pique, tête d'une belle séquence.

Est en main doit retrouver son partenaire dans une autre couleur.

Ce ne peut être que Trèfle.

Ouest, en effet possède l'As et réalise le pli à trèfle puis 3 levées à pique pour deux levées de chute.

Entame : Dame de Pique

♠ A 8 2
♥ R V 5
♦ R 10 6 2
♣ A V 4

♠ V 10 9 4
♥ 6 3
♦ V 9 8 7
♣ 6 5 2

	N	
O		E
	S	

♠ D 3
♥ A D 10 9
♦ A D 4 3
♣ R 8 7

♠ R 7 6 5
♥ 8 7 4 2
♦ 5
♣ D 10 9 3

Sud	Ouest	Nord	Est
1SA	Passe	4SA	Passe
6SA	Fin		

Sur l'entame, Sud dispose de 11 levées (Pique 2, Cœur 4, Carreau 3, Trèfle 2). Il peut espérer un pli supplémentaire par une répartition 3-2 à Carreau, ou le placement en Ouest du Valet.

Dans ce cas, il est important de la prévoir en conservant la fourchette Roi-10.

En main, il tire As et Dame de Carreau, constate la répartition 4-1 du résidu mais qui ne gêne pas puisque le Valet 4^{ème} est en Ouest

Entame : Valet de Pique



Cours 3^{ème} année





Redemande de l'ouvreur avec un unicolore mineur





(Enoncé exercices pour la maison)





Exercices

Vous êtes en Sud. Quelle est votre enchère après le début de séquence ?

Sud	Ouest	Nord	Est
1 	passe	1 	Passe
?			

Donne 1	
	R 9 4
	8 2
	A D V 9 6 2
	A 3





Donne 2	
	A D 4
	8 2
	A D V 9 6 2
	A 3





Donne 3	
	R 9 4
	8 2
	A D 9 6 5
	A 3 2





Exercices

Vous êtes en Nord. Quelle est votre enchère après le début de séquence ?

Sud	Ouest	Nord	Est
1 	passe	1 	Passe
2 	Passe	?	



Donne 1	
	R V 7 2
	R 10 4
	V 9 3
	7 5 2





Donne 2	
	R V 7 2
	R D 4
	V 9 3
	R 10 8





Donne 3	
	R V 7 2
	R 4
	V 9 3
	R 10 5 2

Exercices

Vous êtes en Nord. Quelle est votre enchère après le début de séquence ?

Sud	Ouest	Nord	Est
1 	passe	1 	passe
3 	Passe	?	

Donne 4	
	D V 3
	R 8 4 2
	9 3
	9 7 5 2

Donne 5	
	R V 7 2
	10 7 5 4
	9 3 2
	A D

Exercices

*Le contrat n'est pas le meilleur.
A qui la faute ?*

Sud	Ouest	Nord	Est
	1 ♣	passé	1 ♥
Passé	2 ♣	Passé	3SA
Fin			

<p>♠ R 7 6 3</p> <p>♥ 8</p> <p>♦ A 4</p> <p>♣ A V 10 9 6 4</p>	<p>N</p> <p>O E</p> <p>S</p>	<p>♠ A 10 4 2</p> <p>♥ V 6 3 2</p> <p>♦ R 3 2</p> <p>♣ R D</p>
--	----------------------------------	--

Exercices

*Le contrat n'est pas le meilleur.
A qui la faute ?*

Sud	Ouest	Nord	Est
	1♦	passé	1♥
Passé	3♦	Passé	Fin

