

# Cours 3<sup>ème</sup> année

## **Redemande de l'ouvreur avec un unicolore majeur**

(Corrigé exercices)

***Vous êtes en Sud. Quelle est votre enchère après le début de séquence ?***

Sud	Ouest	Nord	Est
1 ♥	passe	1 ♠	passe
?			

Donne 1	
♠	R V 9
♥	A D 7 6 2
♦	R 7 2
♣	V 5

**1SA**

***15 points HL  
Jeu régulier  
Dénie 6 cartes à Cœur***

Donne 2	
♠	R V 9
♥	A D 8 7 5 2
♦	R 7 4
♣	5

**2 ♥**

***15 points HL  
6 cartes à Cœur  
Vous l'indiquez par  
la répétition***

Donne 3	
♠	A R 9
♥	A D 8 7 5 2
♦	R 7 4
♣	5

**3 ♥**

***18 points HL  
6 cartes à Cœur  
Vous l'indiquez avec  
votre force par la  
répétition à saut***

***Vous êtes en Sud. Quelle est votre enchère après le début de séquence ?***

Sud	Ouest	Nord	Est
1 ♥	passe	1 ♠	passe
?			

Donne 4	
♠	R 9 4 2
♥	A D 8 7 5
♦	R 7
♣	5 3

2 ♠

Donne 5	
♠	4
♥	A V 8 7 5 2
♦	A R 8 7
♣	5 2

2 ♦

***Fit à Pique  
14 points HLD  
Vous vous contentez  
d'indiquer le fit dans une  
force minimale***

***14 points HL  
Indiquez votre  
distribution par un  
bicolore économique***

***Vous êtes en Nord. Quelle est votre enchère après le début de séquence ?***

Sud	Ouest	Nord	Est
1 ♥	passe	1 ♠	passe
2 ♥	Passe	?	

Donne 1	
♠	R D 5 2
♥	A 7
♦	R D 6 2
♣	9 7 5

Donne 2	
♠	R V 6 5
♥	V 9
♦	D 8 5
♣	A 8 7 5

Donne 3	
♠	A 8 7 5
♥	9
♦	R V 8 3
♣	D V 8 5

4 ♥

3 ♥

2SA

***Fit à Cœur - 14 HLD  
Force minimale du camp :  
27 HLD  
Imposez la manche en  
face de l'ouverture***

***Fit à Cœur - 11 HLD  
Force minimale du  
camp : 24 HLD  
Proposez la manche***

***Pas de fit  
11 points HL  
Proposez la manche à  
SA***

***Vous êtes en Nord. Quelle est votre enchère après le début de séquence ?***

Sud	Ouest	Nord	Est
1 ♥	passe	1 ♠	passe
3 ♥	Passe	?	

Donne 4	
♠	R 10 7 4
♥	D 9
♦	R 8 7 5
♣	9 7 2

4 ♥

Donne 5	
♠	A R 9 8 5
♥	D 8
♦	A V 8 5
♣	7 2

6 ♥

***Fit à Cœur - 8 HLD***

***Force minimale du camp :  
27 HLD***

***Imposez la manche en face  
de 19 HLD (17HL+2D)***

***Fit à Cœur - 15 HLD***

***Force minimale du camp : 34  
HLD***

***Imposez la chelem en face de  
19 HLD (17HL+2D)***

***Le contrat n'est pas le meilleur.  
A qui la faute ?***

Sud	Ouest	Nord	Est
	1 ♥	passé	1 ♠
Passé	2 ♥	Passé	3SA
Fin			

♠ A 7 5	N O     E S	♠ R 4 3 2
♥ A D V 8 6 3		♥ R 7
♦ 8		♦ D 10 9
♣ D 10 2		♣ R V 5 3

***Est n'a pas donné le fit alors que son partenaire a promis six cartes à Cœur.***

***Le contrat de 4♥ est bien meilleur alors que 3SA va très certainement chuter.***

***Le contrat n'est pas le meilleur.  
A qui la faute ?***

Sud	Ouest	Nord	Est
	1 ♥	passé	1 ♠
Passé	3 ♥	Passé	4 ♥
Fin			

♠ R V 4	N O     E S	♠ D 8 7 2
♥ A D 9 8 5 2		♥ R V
♦ R		♦ D 8 6 3
♣ V 10 6		♣ 9 5 2

***Ouest a menti sur la force de sa main.***

***Il a promis 6 cartes à Cœur et 17 points HL.***

***Il possède 16 points HL avec un Roi de Carreau singleton qui est une moins value***

***Avec le fit, Est peut compter sur une force du camp de 27 HLD et conclut à la manche***

***Le contrat ne peut réussir et sera chuté de 2 levées.***

# Cours 3<sup>ème</sup> année

## **Défense : le compte des points du déclarant**



# Le compte des points du déclarant

## ***Le principe :***

***Le déclarant et son partenaire ont échangé des informations pour trouver le contrat à jouer***

***La défense doit tirer parti de l'échange pour connaître avec précision la force en point du déclarant***

**En voyant le mort, chaque défenseur peut en déduire la force de la main de son partenaire**

# Exemple

♠ R V 10 7

♥ D 10 3

♦ R V 3


♣ A 9 4

♠ 8 5 4

♥ 9 7

♦ A 10 6

♣ R V 7 3 2



*Entame* : 3 de Trèfle

Sud	Ouest	Nord	Est
1♦	Passe	1♠	Passe
1SA	Passe	3SA	Fin

*Combien le déclarant possède-t-il de points H ?*

**Sud possède une main régulière de 12 à 14 points H**

**Combien votre partenaire possède-t-il de points H ?**

**Vous : 8 – Mort : 14 – Déclarant : 12 à 14**

***Votre partenaire :***

**Minimum :**  $40 - (8 + 14 + 14) = 4$

**Maximum :**  $40 - (8 + 14 + 12) = 6$

# L'intérêt des enchères précises

Les enchères précises donnent à la défense les moyens de **compter les points du camp du déclarant**

C'est particulièrement le cas des enchères à **Sans-atout**

*Un petit exercice de révision...*

**Dans chacune des séquences suivantes, combien Sud promet-il de points ?**

Sud	Nord
1SA	3SA
Points de Sud ?	
<b>15 à 17H</b>	

Sud	Nord
1♦	1♥
1SA	
Points de Sud ?	
<b>12 à 15HL</b>	

Sud	Nord
1♣	1♠
2SA	
Points de Sud ?	
<b>18 à 19HL</b>	

Sud	Nord
	1♦
1♥	1♠
1SA	
Points de Sud ?	
<b>6 à 10HL</b>	

Sud	Nord
	1♦
1♥	1♠
2SA	
Points de Sud ?	
<b>11 H</b>	

Sud	Nord
1♦	2♣
2SA	
Points de Sud ?	
<b>12 à 14H</b>	

Sud	Nord
1♥	2♦
2SA	
Points de Sud ?	
<b>15 à 17H</b>	

Sud	Nord
1♠	2♣
3SA	
Points de Sud ?	
<b>18 à 19H</b>	

# L'intérêt des enchères précises

Les enchères à la couleur ne sont pas aussi précises à cause de la **prise en compte des points de distribution**

*Exemple : combien Sud a de points H avec la séquence ?*

Sud	Nord
1♥	2♥
4♥	
Points de Sud ?	
20 à 22HLD	

Nord promet **le fit et 6 à 10 points HLD**

Sud impose la manche

Le camp a donc :

- Un minimum de 26 points HLD  
soit  $26 - 6 = 20$  points HLD pour Sud
- Un maximum de 32 points HLD  
soit  $32 - 10 = 22$  points HLD pour Sud

# L'intérêt des enchères précises

Les enchères à la couleur ne sont pas aussi précises à cause de la **prise en compte des points de distribution**

Sud	Nord
1♥	2♥
4♥	

Nord promet **le fit et 6 à 10 points HLD**

Sud possède **20 à 22 points HLD**

*Quelques exemples de mains possibles...*

♠ R D 10  
♥ A D 7 5 3  
♦ A 9  
♣ A V 3

➤ 22 HLD  
➤ 20 points  
d'honneur

♠ 3  
♥ R D 10 9 5  
♦ R D V 9 6  
♣ A 8

➤ 20 HLD  
➤ 15 points  
d'honneur

Les points du déclarant

♠ 2  
♥ R D 10 9 8 6 5  
♦ R V 4  
♣ A 4

➤ 21 HLD  
➤ 13 points  
d'honneur

**Dans chacune des séquences suivantes, pouvez-vous déduire le nombre de points d'honneur de Sud ?**

Sud	Nord
1♥	1♠
2♥	

La répétition de la couleur sans saut promet **13 à 16 points HL**

Sud possède **6 cartes à Cœur**, soit **2 points de longueur** (il n'a pas un jeu régulier car avec 2 ou 3 cartes à Pique, il aurait dit 1SA, il n'a pas 4 cartes dans une mineure, il aurait annoncé un bicolore économique)

**Il a de 11 à 14 points H**


Sud	Nord
1♠	1SA
3♠	

La répétition de la couleur à saut promet **17 à 19 points HL**

Sud possède **6 cartes à Pique**, soit **2 points de longueur**

**Il a de 15 à 17 points H**

♠ A 10  
 ♥ A D V 5  
 ♦ D V 8 4  
 ♣ 8 4 3



♠ 7 6  
 ♥ R 9 3  
 ♦ A R 6 5  
 ♣ R D V 2

## Les enchères :

Sud	Ouest	Nord	Est
1 SA	passee	2♣	passee
2♦	passee	3SA	Fin



♠	A 10
♥	A D V 5
♦	D V 8 4
♣	8 4 3

♠ R	N	♠
♥	O	♥
♦	E	♦
♣	S	♣

**Entame : Roi de Pique**

Sud	Ouest	Nord	Est
1SA	passé	2♣	passé
2♦	passé	3SA	Fin

- **Combien de points H possède Ouest ?**  
Le 10 de Pique est visible.  
L'entame promet Roi, Dame et Valet : **6 points**
- **Combien de points H possède le déclarant ?**  
**L'ouverture de 1SA promet 15 à 17 H**
- **Combien de points H au mort ?**  
**14 points H**
- **Combien de points H dans la main d'Est ?**  
**4 points H**

Donneur : Sud – Celui qui a le 2 de Trèfle

♠	A 10			
♥	A D V 5			
♦	D V 8 4			
♣	8 4 3			
♠ R		N		♠ 9 5 3 2
♥		O		♥ 8 6 4 2
♦		E		♦ 10 7 3
♣		S		♣ A 10

Sud	Ouest	Nord	Est
1SA	passé	2♣	passé
2♦	passé	3SA	Fin

*Combien de points H possède Ouest ?*

Le 10 de Pique est visible. **L'entame promet Roi, Dame et Valet : 6 points**

*Combien de points H possède le déclarant ?*

**L'ouverture de 1SA promet 15 à 17 H**

*Combien de points H au mort ?*

**14 H**

*Combien dans la main d'Est ?*

**4 points**

**Entame : Roi de Pique**

**Conclusion : Sud possède 15 ou 16 points H**


Ouest a au maximum un **Valet en plus des 3 honneurs à Pique**

Sud possède **9 levées sûres** : Pique 1, Cœur 4, Carreau 4

**Est prendra donc de l'As de trèfle au premier tour de cette couleur pour pouvoir réaliser les 3 plis à Pique**

♠ A 10  
 ♥ A D V 5  
 ♦ D V 8 4  
 ♣ 8 4 3

♠ R D V 8 4  
 ♥ 10 7  
 ♦ 9 2  
 ♣ 9 7 6 5



♠ 9 5 3 2  
 ♥ 8 6 4 2  
 ♦ 10 7 3  
 ♣ A 10


♠ 7 6  
 ♥ R 9 3  
 ♦ A R 6 5  
 ♣ R D V 2

**Entame :**  
**Roi de**  
**Pique**

Sud	Ouest	Nord	Est
1SA	passé	2♣	passé
2♦	passé	3SA	Fin

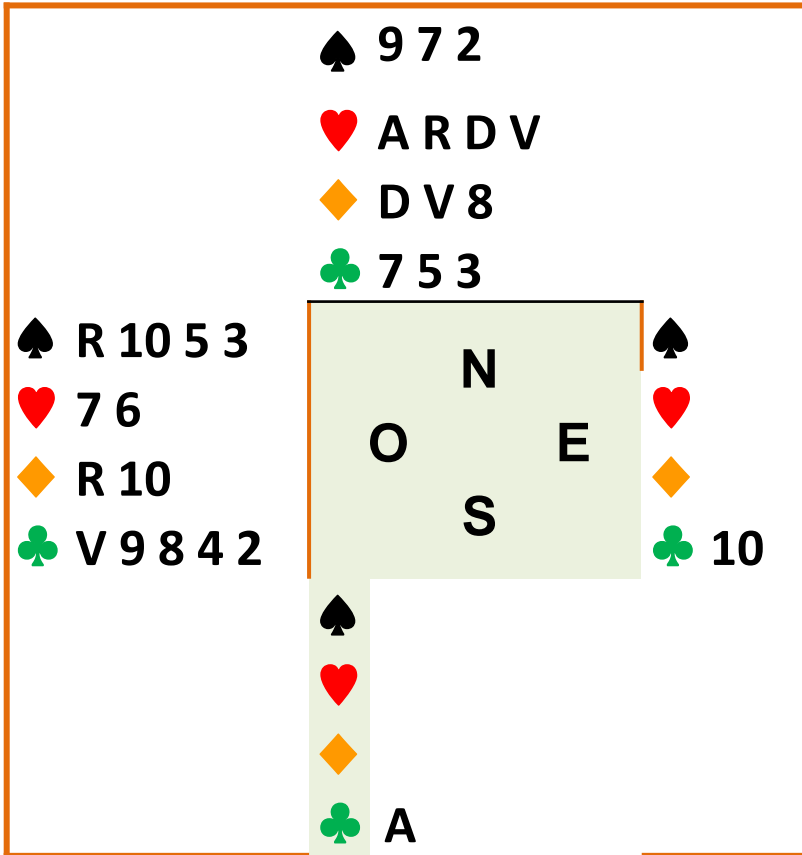
*En résumé :*  
***Le partenaire de l'entameur doit déduire la force de son partenaire et décider la ligne de jeu en fonction des points d'honneur qu'il identifie***

♠ 9 7 2  
 ♥ A R D V  
 ♦ D V 8  
 ♣ 7 5 3



♠ V 8 6  
 ♥ 8 3  
 ♦ A 9 5 4 2  
 ♣ A R D

Sud	Ouest	Nord	Est
1♦	passe	1♥	passe
1SA	passe	3SA	Fin



Sud	Ouest	Nord	Est
1♦	passe	1♥	passe
1SA	passe	3SA	Fin

➤ *Dans quelle main se trouve le Roi et la Dame de Trèfle ?*

**Dans la main du déclarant, Ouest aurait joué une de ces cartes s'il la possédait**

**Entame : 4 de trèfle**

<p>♠ 9 7 2</p> <p>♥ A R D V</p> <p>♦ D V 8</p> <p>♣ 7 5 3</p>	<div style="border: 1px solid black; padding: 10px; background-color: #e0f0e0;"> <p style="font-size: 2em; margin: 0;">N</p> <p style="font-size: 2em; margin: 0;">O      E</p> <p style="font-size: 2em; margin: 0;">S</p> </div>	<p>♠ R 10 5 3</p> <p>♥ 7 6</p> <p>♦ R 10</p> <p>♣ V 9 8 4 2</p>
	<p>♠ 3</p> <p>♥ 3</p> <p>♦ 2</p> <p>♣ A</p>	<p>♠ 3</p> <p>♥ 10</p>

Entame : 4 de trèfle

**Est détient As et Valet de Pique au minimum**

Sud	Ouest	Nord	Est
1♦	passee	1♥	passee
1 SA	passee	3SA	Fin

*Sud monte au mort à Cœur et présente la Dame de Carreau*

- *Dans quelle main se trouve l'As de Carreau ?*  
**Dans la main du déclarant. (Il tente une impasse forçante)**
- *De combien de levées dispose le déclarant ?*  
**Au moins 3 à trèfle, 4 à Cœur et deux à carreau = 9 minimum**
- *Combien de points peut-il détenir à Pique ?*  
**La zone de sa 2<sup>ème</sup> enchère est 12-15. On lui connaît Trèfle=9, Carreau=4. Il a au maximum la Dame de Pique.**

♠ 9 7 2											
♥ A R D V											
♦ D V 8											
♣ 7 5 3											
♠ R 10 5 3	<table border="1"> <tr><td></td><td>N</td><td></td></tr> <tr><td>O</td><td></td><td>E</td></tr> <tr><td></td><td>S</td><td></td></tr> </table>		N		O		E		S		♠ A D 4
		N									
O			E								
		S									
♥ 7 6	♥ 10 9 5 4 2										
♦ R 10	♦ 7 6 3										
♣ V 9 8 4 2	♣ 10 6										
	♠ V 8 6										
	♥ 8 3										
	♦ A 9 5 4 2										
	♣ A R D										

Sud	Ouest	Nord	Est
1♦	passe	1♥	passe
1SA	passe	3SA	Fin

*Sud monte au mort à Cœur et présente la Dame de Carreau*

En Ouest, vous faites la levée avec le Roi

**Est détient As et Valet de Pique au minimum**

➤ *Pouvez-vous battre le contrat ?*


**Oui, en réalisant 4 levées à Pique**

- 3 de Pique vers l'As d'Est
- Est joue Dame de Pique
- Puis le 4 pour le Roi
- 10 de Pique maitre

Entame : 4 de trèfle

***Si Ouest ne fait pas cette analyse et rejoue trèfle, le déclarant fera 11 levées***

♠ A 5 3  
 ♥ R 5 3  
 ♦ D V 10 9 3  
 ♣ D 8



♠ V 7 4  
 ♥ A D 4  
 ♦ 7 6 2  
 ♣ A R D 2

Les enchères :

Sud	Ouest	Nord	Est
1SA	passé	3SA	Fin

*Entame* : Valet de Cœur



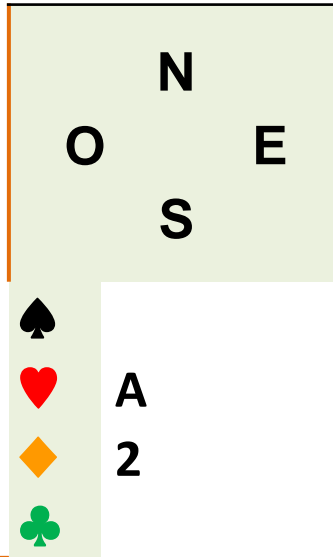
♠ A 5 3

♥ R 5 3

♦ D V 10 9 3

♣ D 8

♠  
♥ V  
♦  
♣



♠ R 9 6 2  
♥ 8 7 2  
♦ A R 5  
♣ 10 5 4

Sud	Ouest	Nord	Est
1SA	passé	3SA	Fin

L'entame est prise par l'As de Sud qui joue Carreau

➤ *Combien de points H dans la main d'Ouest ?*  
**L'ouverture de Sud promet une zone de 15 à 17H**

**Nord : 12 – Est : 10**

**Min = 40 - (17 + 12 + 10) = 1**

**Max = 40 - (15 + 12 + 10) = 3**

*Le Valet de Cœur est connu. Il reste au maximum une Dame*

**Entame : Valet de Cœur**

♠ A 5 3

♥ R 5 3

♦ D V 10 9 3

♣ D 8

♠  
♥ V  
♦  
♣

	N	
O		E
	S	

♠ R 9 6 2

♥ 8 7 2

♦ A R 5

♣ 10 5 4

♠

♥ A

♦ 2

♣

Sud	Ouest	Nord	Est
1SA	passé	3SA	Fin

L'entame est prise par l'As de Sud qui joue Carreau

Le Valet de Cœur est connu.

Ouest possède au maximum une Dame

➤ *Comment battre le contrat ?*

*Le déclarant devra donner deux levées à Carreau*

*Il dispose alors de :*

*Une levée à Pique, 3 à Cœur (la Dame est en Sud), 3 à carreau, au moins 2 à trèfle (le Roi est en Sud)*

**Seule chance : une contre-attaque Pique en espérant la Dame en Ouest**

**Entame : Valet de Cœur**

♠ A 5 3			
♥ R 5 3			
♦ D V 10 9 3			
♣ D 8			
♠ D 10 8	<div style="border: 1px solid black; background-color: #e0e0e0; width: 100%; height: 100%; display: flex; flex-direction: column; align-items: center; justify-content: center;"> <div style="margin-bottom: 5px;">N</div> <div style="margin-bottom: 5px;">O                    E</div> <div style="margin-bottom: 5px;">S</div> </div>	♠ R 9 6 2	
♥ V 10 9 6		♥ 8 7 2	
♦ 8		♦ A R 5	
♣ 9 7 6 3 2		♣ 10 5 4	
♠ V 7 4			
♥ A D 4			
♦ 7 6 4 2			
♣ A R V			

Sud	Ouest	Nord	Est
1SA	passé	3SA	Fin

L'entame est prise par l'As de Sud qui joue Carreau

Le Valet de Cœur est connu.  
 Ouest possède au maximum une  
 Dame

**Entame : Valet de Cœur**

➤ **Comment battre le contrat ?**  
**Seule chance : une contre-attaque Pique en espérant la Dame en Ouest**

- **Carreau pris de l'As**
- **Contre-attaque du 2 de Pique**
- **Le déclarant ne peut plus gagner**

## En résumé

**Les annonces, l'entame et les premières cartes jouées permettent souvent de savoir de combien de points dispose le partenaire et de les identifier**

**Le plan de jeu de la défense devra alors adopter la meilleure ligne de jeu qui permettra de battre le contrat**

**Particulièrement facilité par les annonces précises à SA**


**DONNE 1****Vulnérabilité : Personne****Donneur : Sud – Celui qui a le 4 de Cœur**

♠ A V 10 9 2

♥ 10 6

♦ D 10 7 3

♣ R 4



♠ D 7

♥ A R D V 8 4

♦ 8 4 2

♣ A 7

**Sud****Ouest****Nord****Est****1♥****Passe****1♠****Passe****3♥****Passe****4♥****Fin****Sud identifie 9 levées :****Pique 1, Cœur 6, Trèfle 2**

**Il espère trouver la levée manquante par l'impasse forçante au Roi de Pique puis, si elle échoue, l'affranchissement des honneurs.**

**Il doit prendre soin de conserver le Roi de Trèfle au mort pour garder une communication**

**Entame : Dame de trèfle**

♠ A V 10 9 2

♥ 10 6

♦ D 10 7 3

♣ R 4


♠

♥

♦

♣

D



♠ R 6 4

♥ 5 2

♦ R V 5

♣ 9 8 5 3 2

♠ D 7

♥ A R D V 8 4

♦ 8 4 2

♣ A 7

Sud

Ouest

Nord

Est

1♥

Passe

1♠

Passe

3♥

Passe

4♥

Fin

***Est évalue les points de Sud:***

La zone de sa répétition à saut est de 15-18H

Ouest dispose :

Au minimum de  $40 - (18 + 10 + 7) = 5H$

Au maximum de  $40 - (15 + 10 + 7) = 8H$

Il a montré 2 points

**Ouest pourrait détenir l'As de Carreau**

Dans le cas contraire, il n'y a rien à faire

**Entame : Dame de trèfle**

♠ A V 10 9 2

♥ 10 6

♦ D 10 7 3


♣ R 4

♠ 8 5 3

♥ 9 7 3

♦ A 9 6

♣ D V 10 6



♠ R 6 4

♥ 5 2

♦ R V 5

♣ 9 8 5 3 2

♠ D 7

♥ A R D V 8 4

♦ 8 4 2

♣ A 7

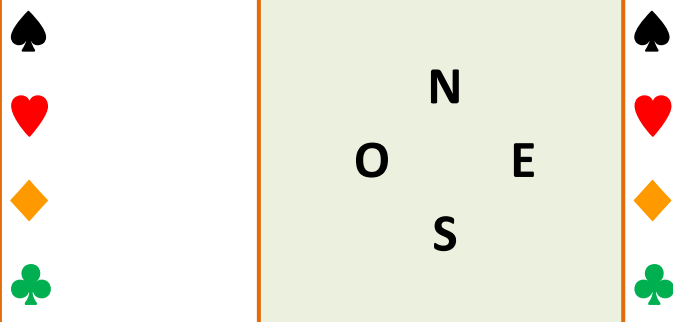
Sud	Ouest	Nord	Est
1♥	Passe	1♠	Passe
3♥	Passe	4♥	Fin

- *Est évalue les points de Sud*
- *Ouest pourrait détenir l'As de Carreau*

**Ayant pris du Roi, Est doit contre-attaquer Carreau en espérant réaliser 3 levées si Ouest possède l'As**

**Entame : Dame de Trèfle**

♠ 9 7 4  
 ♥ A V 9 7  
 ♦ A D V  
 ♣ V 8 4



♠ A R  
 ♥ D 10 5  
 ♦ R 10 9 8  
 ♣ 9 7 6 3

Sud	Ouest	Nord	Est
1♦	Passe	1♥	Passe
1SA	Passe	3SA	Fin

L'entame de la Dame de Pique promet le Valet. Soit 3 points H

**Entame : Dame de Pique**



Sud	Ouest	Nord	Est
1♦	Passe	1♥	Passe
1SA	Passe	3SA	Fin

♠ 9 7 4

♥ A V 9 7

♦ A D V


♣ V 8 4

♠ D

♥

♦

♣



♠ 6 5 2

♥ R 6 4

♦ 7 5 2

♣ A R 10 2

♠

♥

♦

♣

**Entame : Dame de Pique**

- L'entame de la dame de Pique promet le Valet. Soit 3 points H
- La zone de points de Sud est 12 à 15H

**Ouest dispose de :**

Au minimum de :  $40 - (15 + 13 + 10) = 2H$

Au maximum de :  $40 - (12 + 13 + 10) = 5H$

**Ayant déjà montré 3 points, il ne peut avoir au maximum qu'une Dame !**

**Pour battre le contrat, Est ne peut plus qu'espérer la Dame de Trèfle en Ouest**

♠ 9 7 4  
 ♥ A V 9 7  
 ♦ A D V  
 ♣ V 8 4

♠ D V 10 8 3  
 ♥ 8 3 2  
 ♦ 6 4 3  
 ♣ D 5

	N	
O		E
	S	

♠ 6 5 2  
 ♥ R 6 4  
 ♦ 7 5 2  
 ♣ A R 10 2

♠ A R  
 ♥ D 10 5  
 ♦ R 10 9 8  
 ♣ 9 7 6 3

Sud	Ouest	Nord	Est
1♦	Passe	1♥	Passe
1SA	Passe	3SA	Fin

**Pour battre le contrat, Est ne peut plus qu'espérer la Dame de Trèfle en Ouest**

- En main, Est joue le 2 de Trèfle pour la Dame
- Ouest qui a compris la manœuvre relance Trèfle pour 1 de chute

**Entame : Dame de Pique**

♠ R 5  
 ♥ D V 7 3  
 ♦ 6 5  
 ♣ R D V 7 2

♠ V		♠ A D 7 6 2
♥	N	♥ 9 4
♦	O E	♦ A 8 3 2
♣	S	♣ 8 4

♠ 8 4  
 ♥ A R 10 6  
 ♦ R V 10  
 ♣ A 10 9 5

Sud	Ouest	Nord	Est
1SA	Passe	2♣	Passe
2♥	Passe	4♥	Fin

Est encaisse les deux 1<sup>ères</sup> levées

Entre son jeu et le mort, il voit 22 points H.  
 Sud a annoncé 15 à 17 points

Ouest a donc entre 1 et 3 points H  
 Il a déjà montré un Valet, il a au maximum  
 une Dame

**Ce ne peut être que la Dame de Carreau**  
**Il contre-attaque du 2 de Carreau en**  
**espérant que Sud tombe dans le panneau**  
**en mettant le Valet**

**Entame : Valet de Pique**

♠ 9 7 3  
 ♥ D 8 2  
 ♦ R D 10 5  
 ♣ 4

♣ D 7

♠ D

♥

♦

♣

		N		
	O		E	
		S		

♠ A 8 4

♥ 10 9 4 3

♦ 8 6 3

♣ A R 5

♠ R 6 2

♥ A R V

♦ A V 9

♣ 10 8 6 4

Sud	Ouest	Nord	Est
-----	-------	------	-----

1SA	Passe	3SA	Fin
-----	-------	-----	-----

### Ouest possède :

Au minimum :  $40 - (17 + 9 + 11) = 3 \text{ H}$

Au maximum :  $40 - (15 + 9 + 11) = 5 \text{ H}$

La Dame de Pique promet le Valet, soit 3 points connus en Ouest

### Son seul espoir est à trèfle

Ayant pris de l'As, il joue As puis Roi de Trèfle et enfin 5 vers son partenaire

**Entame : Dame de Pique**

# DONNE 4

Vulnérabilité : E-O

Donneur : Sud – Celui qui a le 4 de Trèfle

♠ 9 7 3

♥ D 8 2

♦ R D 10 5 4

♣ D 7

♠ D V 10 5

♥ 7 6 5

♦ 7 2

♣ V 9 3 2

N  
 O            E  
               S

♠ A 8 4

♥ 10 9 4 3

♦ 8 6 3

♣ A R 5

♠ R 6 2

♥ A R V

♦ A V 9

♣ 10 8 6 4

Sud	Ouest	Nord	Est
1SA	Passe	3SA	Fin

**Ouest possède :**

Au minimum :  $40 - (17 + 9 + 11) = 3 \text{ H}$

Au maximum :  $40 - (15 + 9 + 11) = 5 \text{ H}$

La Dame de Pique promet le Valet,  
soit 3 points connus en Ouest

**Son seul espoir est à trèfle**

**Entame : Dame de Pique**

Ayant pris de l'As de Pique, il joue As puis Roi de Trèfle et enfin 5 vers son partenaire qui peut ainsi réaliser deux levées

# Cours 3<sup>ème</sup> année

## Compte des points du déclarant

(exercices pour la maison)

Après la séquence :

Sud	Ouest	Nord	Est
1SA	passé	3SA	fin

Ouest entame du 2 de Pique

♠ 9 7 3

♥ R V 2

♦ A D 8 3

♣ V 9 4

	N	
O		E
	S	

♠ A 8 4

♥ 8 7 6 3

♦ 9 5

♣ 8 6 3 2


1. Combien de points H en Est ?

2. Combien de point H au mort ?

3. Combien de points H connus en Sud ?

4. Combien de points pouvez-vous déduire en Ouest ?

♠ R 8 5  
 ♥ 10 7 2  
 ♦ A R 5 4  
 ♣ 9 8 3



♠ A 9 4  
 ♥ 8 4  
 ♦ D 10 6 3  
 ♣ V 6 4 2

Après la séquence :

Sud	Ouest	Nord	Est
1SA	passé	3SA	fin

Ouest entame du Roi de Cœur

1. Combien de points H en Est ?

1. Combien de point H au mort ?

2. Combien de points H connus en Sud ?

3. Combien de points pouvez-vous déduire en Ouest ?

**Conclusion :**

***Ouest possède Roi, Dame, Valet à Cœur (6 points)  
 Il peut encore avoir une dame ou deux valets au maximum***



	♠	V 6
	♥	A D V 7
	♦	R V 5
	♣	D 7 4 2
♠	10 9 8 4 2	
♥	4 3	
♦	A 4 3	
♣	R V 10	

	N	
O		E
	S	

Sud	Ouest	Nord	Est
passe	passe	1♣	passe
1♥	passe	2♥	passe
4♥	fin		

- Vous êtes en Ouest et vous entamez du 10 de Pique. Nord joue le Valet, couvert par le Roi d'Est pris par l'As de Sud
- Sud joue Cœur pour le Valet du mort. Il encaisse l'As de Cœur.
- Il joue le 5 de Carreau pour sa Dame que vous prenez de l'As

**1. Combien de points le déclarant a-t-il montré ?**

**2. Quel est le maximum de points dans la main de Sud ?**

**3. Qui a l'As de Trèfle ?**

**4. Que rejouez-vous ?**