

# **Cours 2<sup>ème</sup> année**

## **Cours 24**

**Le compte des levées adverses à Sans-Atout**

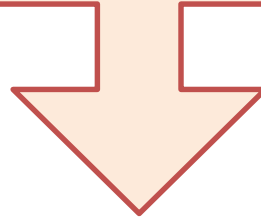
**Le point de vue de la défense**

# Le cours d'aujourd'hui !

**Le raisonnement de la défense :**

**Quels honneurs détient le déclarant**

**Prévoir à la vue des cartes du mort et de son jeu  
qu'une couleur va apporter au déclarant des levées de  
longueur**



***Déduire le potentiel du déclarant et contre-attaquer la  
seule couleur qui offre des possibilités à la défense***

# Les règles de l'entame à SA

## La course à l'affranchissement d'une couleur longue

*Entamer préférentiellement :*

1. La tête d'une séquence d'honneurs dans une longue d'au moins 4 cartes
2. La 4<sup>ème</sup> meilleure d'une couleur avec au moins un honneur
3. La deuxième meilleure d'une longue sans honneur
4. Le « top of nothing »

# Exercice

*Vos adversaires ont annoncé le contrat de 3SA après la séquence:  
Quelle carte entamez-vous ?*

Nord	Sud
1SA	2♣
2♠	3SA

♠ R V 3  
♥ 9 6 4  
♦ R V 7 5 3  
♣ 7 2

♠ R 6 2  
♥ V 9 4  
♦ D 4 3  
♣ D V 10 8

♠ D V 6 2  
♥ A 7  
♦ D 8 7 3  
♣ 8 5 2

## *Le raisonnement :*

- *Le déclarant a une main régulière de 15 à 17 points H avec 4 cartes à pique et pas 4 cartes à cœur.*
- *Le mort possède de 9 à 14 points HL avec 4 cartes à cœur.*

5 de ♦  
4<sup>ème</sup> meilleure

Dame de ♣  
Tête de séquence

3 de ♦  
Meilleure que pique car  
le déclarant a 4 cartes

**Vos adversaires ont annoncé le contrat de 3SA.  
Quelle carte entamez-vous avec les couleurs  
suivantes ?**

# Exercice

		♦	V 9		
♦	R D 10 3			♦	7 6 5 4
		♦	A 8 2		

**Roi de ♦  
Tête de séquence**

		♦	R 6 5		
♦	D V 9 3 2			♦	8 7 4
		♦	A 10		

**Dame de ♦  
Tête de séquence**

		♦	R 6 2		
♦	V 10 8 3			♦	A 7 5 4
		♦	D 9		

**Valet de ♦  
Tête de séquence**

***Entame de la tête d'une séquence brisée.  
L'entame 4<sup>ème</sup> meilleure donne une levée.***

# Entame tête de séquence

**Dans les contrats à sans-atout :**

L'entame du **Roi** promet **R D V** ou **R D 10** et 4 cartes

L'entame de la **Dame** promet **D V 10** ou **D V 9** et 4 cartes

L'entame du **Valet** promet **V 10 9** ou **V 10 8** et 4 cartes

# Le piège de la séquence brisée !

		♦	6 5 2		
♦	R D 10 3			♦	9 8 7
		♦	A V 4		

Roi de ♦  
*Si vous continuez la couleur,  
 vous donnez une levée*

		♦	6 5 2		
♦	R D 10 3			♦	V 9 8
		♦	A 7 4		

Roi de ♦  
 Est doit débloquer pour  
 indiquer à son partenaire de  
 continuer la couleur

		♦	9 8 5 2		
♦	R D 10 3			♦	V 7 6
		♦	A 4		

Roi de ♦  
 Est doit garder son valet pour le  
 pas affranchir le 9 du mort

*Entame de la tête d'une séquence brisée.  
 Continuer la couleur n'est pas systématique*

**Quelle carte le partenaire de l'entameur doit-il fournir sur entame tête de séquence?**

## Exercice

		♦	7 6 2		
♦	R			♦	A 3
		♦			

**L'As**  
***Débloquez la couleur***

		♦	R 5		
♦	D			♦	A 3
		♦			

**L'As si l'adversaire met le Roi**  
**Le 3 si l'adversaire met le Roi**

		♦	A 7 2		
♦	V			♦	R D 3
		♦			

**Si le déclarant met l'As, fournir un gros honneur pour débloquer la couleur**

		♦	A 6 4		
♦	D			♦	10 8 2
		♦			

**Le 10 pour libérer le 9 du partenaire**



**Quelle carte le partenaire de l'entameur doit-il fournir sur l'entame d'une 4<sup>ème</sup> meilleure ?**

## Exercice

		♦	8 6 2		
♦	A V 5 4 3			♦	R 10 7
		♦	D 9		

**Le Roi**  
*Le plus gros des honneurs non équivalents*

		♦	8 6 2		
♦	V 9 5 4 3			♦	R D 7
		♦	A 10		

**La Dame**  
*Le plus petit des honneurs équivalents*

		♦	V 5 4		
♦	R 8 6 2			♦	D 10 3
		♦	A 9 7		

**La Dame si le déclarant met le Valet, le 10 si le déclarant met un petit**

# Le compte des levées du déclarant

## Repérage et déductions

*Il est fondamental de s'entendre sur :*

- *Le sens de la carte entamée*
- *Le sens de la carte fournie par le partenaire*

*Il est aussi fondamental d'analyser les enchères des adversaires*

*On considère alors :*

- *La place des honneurs dans la couleur d'entame*
- *L'examen des autres couleurs que celle entamée*

*Pour reconstituer les mains de chacun et envisager la meilleure ligne de jeu*

*En observant la première levée, Ouest peut-il déduire que le déclarant possède un ou plusieurs honneurs dans la couleur d'entame ?*

## Exercice

		♦	8 5 <u>2</u>		
♦	V 9 7 <u>4</u> 3			♦	<u>R</u>
		♦	<u>A</u>		

**Le déclarant possède encore la Dame (Est aurait fourni la Dame avec Roi-Dame)**

		♦	<u>8</u> 3		
♦	R 10 5 <u>4</u> 2			♦	<u>D</u>
		♦	<u>A</u>		

**Le déclarant possède encore le Valet (Est aurait fourni le Valet avec Dame-Valet)**

		♦	<u>6</u> 4 3		
♦	R 9 7 <u>5</u> 2			♦	<u>V</u>
		♦	<u>A</u>		

**Le déclarant possède encore le 10 (Est aurait fourni le 10 avec Valet - 10)**

*En observant la première levée, Ouest peut-il déduire que le déclarant possède un ou plusieurs honneurs dans la couleur d'entame ?*

## Exercice

### Déductions de l'entameur

		♦	7 6 <u>3</u>		
♦	<u>R</u> D 10 4			♦	<u>9</u>
		♦	<u>2</u>		

		♦	<u>V</u> 3		
♦	R 7 6 <u>5</u> 2			♦	<u>8</u>
		♦	<u>4</u>		

**Est n'a ni l'As ni le Valet**  
 (il les aurait fourni pour débloquer)  
 Le déclarant vous attend avec la fourchette As-Valet  
*Ne pas continuer la couleur*

**Le déclarant possède l'As et la Dame**  
 (Est aurait fourni un honneur pour aider à l'affranchissement)

# Exercice

## Déductions du partenaire de l'entameur

		♦	<u>A</u> R 2		
♦	<u>V</u>			♦	8 <u>5</u>
		♦	<u>3</u>		

		♦	<u>A</u> 6		
♦	<u>D</u>			♦	7 3 <u>2</u>
		♦	<u>4</u>		

*En observant la première levée, Est peut-il déduire que le déclarant possède un ou plusieurs honneurs dans la couleur d'entame ?*

**Le déclarant possède encore la Dame**

L'entameur a  
V 10 9 x ou V 10 8 x

**Le déclarant possède encore le Roi**

L'entameur a  
D V 10 x ou D V 9 x

**Pouvez-vous prévoir le nombre de levées que fera le déclarant dans cette couleur?**

## Exercice

**Repérage et déduction au sujet d'un honneur invisible**

		♦	A D V 4		
♦				♦	9 7 2

**4 levées si le Roi est en Sud**  
**Au moins 3 si le Roi est en *Ouest***

		♦	A R V 8		
♦				♦	7 6 5 4

**4 levées si la Dame est en Sud**  
**4 levées si la Dame est en Est (Sud doit avoir au moins 2 cartes)**



		♦	A D 10 2		
♦				♦	8 6 3

**3 levées d'honneur**  
**même si Ouest a Roi et Valet**  
**(Sud fera une double impasse)**



***Sud a ouvert de 1SA. Pouvez-vous prévoir le nombre de levées produits par la couleur Trèfle du mort ?***

## Exercice

**Déductions sur les levées de longueur que va produire une couleur du mort**

	A R D 5 3		
			8 6 4

**5 levées : 3 d'honneur et 2 de longueur**  
*(Ouest ne peut avoir 4 cartes à Trèfle)*



	A R D 5 3 2		
			V 8 6 4

**5 levées : 3 d'honneur et 2 de longueur**  
*(En concédant le Valet)*



***Sud a ouvert de 1SA. Pouvez-vous prévoir le nombre de levées produits par la couleur Trèfle du mort ?***

## Exercice

**Déductions sur les levées de longueur que va produire une couleur du mort**

	A R D 10 4		
			9 8 6 2

**5 levées : même si le Valet est en Ouest**  
*(Ouest ne peut avoir plus de 2 cartes à Trèfle)*

	A D V 5 2		
			8 7 3

**5 levées : même si le Roi est en Ouest**  
*(le Roi est au maximum 3<sup>ème</sup>. Il suffira à Sud de faire deux fois l'impasse)*



# Exercice

Déductions sur  
l'affranchissement « évident »  
d'une couleur du mort

♠ A 3

♥ 10 6 2

♦ R D V 10 4

♣ 9 7 5

O N

E S

♠ 8 5

♥ A 7 4

♦ 7 6 5 2

♣ D 8 6 3

*Sud a ouvert de 1SA ? Nord a conclu à 3SA.*

1. Votre partenaire entame de la Dame de pique pris pas l'As du mort.
2. Il joue cœur, vous laissez passer et Sud fait la levée avec le Roi.
3. Il rejoue la Dame.
4. Vous prenez de l'As
5. Vous réfléchissez à comment battre le contrat

**Comment analyser la façon de jouer de Sud ?**

***Qu'en déduire ?***

***Comment battre le contrat ?***

# Déductions sur l'affranchissement « évident » d'une couleur du mort

## Exercice

*Sud a ouvert de 1SA ? Nord a conclu à 3SA.*

1. Votre partenaire entame de la Dame de pique pris pas l'As du mort.
2. Il joue cœur, vous laissez passer et Sud fait la levée avec le Roi.
3. Il rejoue la Dame.
4. Vous prenez de l'As

♠ A 3  
♥ 10 6 2  
♦ R D V 10 4  
♣ 9 7 5

	N	
O		E
	S	

♠ 8 5  
♥ A 7 4  
♦ 7 6 5 2  
♣ D 8 6 3

- Vous savez que le Roi de Pique est en Sud
- Sud a pris de l'As du mort, seule remontée pour faire les Carreaux, donc l'As est en Sud
- Les Carreaux rapporteront 5 levées à Carreaux, 2 à Pique, au moins 2 à Cœur
- Si vous rejouez pique pour votre partenaire, vous donnerez le contrat
- **Une seule chance de battre le contrat : contre-attaquer Trèfle**

## Déductions sur l'affranchissement « évident » d'une couleur du mort

	♠ A 3											
	♥ 10 6 2											
	♦ R D V 10 4											
	♣ 9 7 5											
♠ D V 10 7 4	<table style="margin: auto; border-collapse: collapse;"> <tr><td></td><td style="text-align: center;">N</td><td></td></tr> <tr><td style="text-align: center;">O</td><td></td><td style="text-align: center;">E</td></tr> <tr><td></td><td style="text-align: center;">S</td><td></td></tr> </table>		N		O		E		S		♠ 8 5	
	N											
O		E										
	S											
♥ 9 5 3		♥ A 7 4										
♦ 8		♦ 7 6 5 2										
♣ A V 4 2		♣ D 8 6 3										
	♠ R 9 6 2											
	♥ R D V 8											
	♦ A 9 3											
	♣ R 10											

## Exercice

*Sud a ouvert de 1SA ? Nord a conclu à 3SA.*

1. Votre partenaire entame de la Dame de Pique pris pas l'As du mort.
2. Il joue Cœur, vous laissez passer et Sud fait la levée avec le Roi.
3. Il rejoue la Dame.
4. Vous prenez de l'As

- Vous savez que le Roi de Pique est en Sud
- Sud a pris de l'As du mort, seule remontée pour faire les Carreaux, donc l'As est en Sud
- Les Carreaux rapporteront 5 levées à Carreau, 2 à Pique, au moins 2 à Cœur
- Si vous rejouez Pique pour votre partenaire, vous donnerez le contrat
- **Une seule chance de battre le contrat : contre-attaquer Trèfle**

**En prenant de l'As de Cœur, vous contre-attaquez du 3 de Trèfle**

# Quelle couleur contre-attaquer ?

**Et si vous ne pouvez pas recenser complètement les levées du déclarant dès qu'il reprendra la main ?**

***Vous devrez trouver quelle couleur a le plus de chance de battre le contrat.***

# Exercice

## Déductions et contre-attaque « mortelle de l'entameur »

*Sud a ouvert de 1SA ? Nord a conclu à 3SA.*

1. Vous entamez du 6 de Pique, Sud fait la levée avec le Valet
2. Sud joue le Roi de Cœur

♠ A 7 2  
♥ 8 3  
♦ A D V 10 7  
♣ 9 5 3

♠ D 10 9 6 4  
♥ A 9 2  
♦ 5  
♣ R 8 7 4

	N	
O		E
	S	

### Compte des levées du déclarant :

- Pique : 3 (*le Roi est en Sud*)
- Carreau : 5 (*il doit avoir le Roi, sinon il aurait fait l'impasse d'entrée*)
- Cœur : au moins 2 (*si Sud avait Roi-Dame, il serait parti cœur du mort. Il a donc Roi-Dame-Valet*)

*Si vous rendez la main, après avoir pris de l'As de Cœur, vous êtes certain qu'il fera 10 plis*

*Donc : ne pas rendre la main et tenter sa chance dans la couleur où vous avez une chance de la garder*

# Exercice

## Déductions et contre-attaque « mortelle de l'entameur »

	♠ A 7 2	
	♥ 8 3	
	♦ A D V 10 7	
	♣ 9 5 3	
♠ D 10 9 <u>6</u> 4		♠ 9 5
♥ A 9 2		♥ 10 7 5 4
♦ 5		♦ 6 4 3
♣ R 8 7 4		♣ A 10 6 2
	♠ R V 3	
	♥ R D V 6	
	♦ R 9 8 2	
	♣ D V	

*Sud a ouvert de 1SA ? Nord a conclu à 3SA.*

1. Vous entamez du 6 de Pique, Sud fait la levée avec le Valet
2. Sud joue le Roi de Cœur

### Compte des levées du déclarant :

- Pique : 3 (*le Roi est en Sud*)
- Carreau : 5 (*il doit avoir le Roi, sinon il aurait fait l'impasse d'entrée*)
- Cœur : au moins 2 (*si Sud avait Roi-Dame, il serait parti cœur du mort. Il a donc Roi-Dame-Valet*)

*Si vous rendez la main, après avoir pris de l'As de cœur, vous êtes certain qu'il fera 10 plis  
Donc : ne pas rendre la main et tenter sa chance dans la couleur où vous avez une chance de la garder*

***Vous contre-attaquez du 4 de Trèfle***

## Déductions et contre-attaque « mortelle » du partenaire de l'entameur

## Exercice

Sud	Nord
1♣	1♦
1SA	3SA

*Les enchères :*

♠ R 5 3

♥ 9 6 5

♦ A 10 9 8 6

♣ A D

O N

E

S

♠ D

♥ D 4 2

♦ R 7 3

♣ 8 7 6 5 3 2

1. Votre partenaire entame du Valet de Pique, pour votre Dame prise par l'As de Sud.
2. Sud joue la Dame de Carreau; Vous faites la levée par le Roi.
3. Vous comptez le nombre de levées que fera le déclarant s'il reprend la main
4. Vous réfléchissez à comment battre le contrat

# Déductions et contre-attaque « mortelle » du partenaire de l'entameur

# Exercice

♠ R 5 3  
♥ 9 6 5  
♦ A 10 9 8 6  
♣ A D

		N		♠ D
O				♥ D 4 2
			E	♦ R 7 3
		S		♣ 8 7 6 5 3

*Les enchères :*

Sud	Nord
1♣	1♦
1SA	3SA

1. Votre partenaire entame du Valet de Pique, pour votre Dame prise par l'As de Sud.
2. Sud joue la Dame de Carreau; Vous faites la levée par le Roi.
3. Vous comptez le nombre de levées que fera le déclarant s'il reprend la main
4. Vous réfléchissez à comment battre le contrat

## *Le compte des levées du déclarant :*

- 4 levées sûres à Carreau (*si Sud a le Valet : 2 levées d'honneur, si Ouest a le valet, Sud fera l'impasse*)
- Au moins 3 à Trèfle (*Sud a au moins 3 cartes et s'il n'a pas le Roi, l'impasse réussira*)
- Deux à Pique (*l'As et le Roi*)

**Une seule chance de battre le contrat :  
contre-attaquer cœur. Quelle carte jouer ?**



# Déductions et contre-attaque « mortelle » du partenaire de l'entameur

## Exercice

♠ R 5 3  
♥ 9 6 5  
♦ A 10 9 8 6  
♣ A D

♠ D  
♥ D 4 2  
♦ R 7 3  
♣ 8 7 6 5 3

N  
O                      E  
S

Sud	Nord
1♣	1♦
1SA	3SA

*Les enchères :*

1. Votre partenaire entame du Valet de pique, pour votre Dame prise par l'As de Sud.
2. Sud joue la Dame de carreau; Vous faites la levée par le Roi.
3. Vous comptez le nombre de levées que fera le déclarant s'il reprend la main
4. Vous réfléchissez à comment battre le contrat

*Les déductions :*

1. Ne pas rendre la main qui donne le contrat
2. Tenter sa chance à cœur
3. Sud n'a pas 4 cartes à cœur. Votre partenaire en a au moins 4
4. Pour battre le contrat, il faudrait que Ouest ai :
  - A V 10 x
  - A V x x x

*Donc : partir de la dame, carte forçante pour traverser le Roi de Sud*

# Déductions et contre-attaque « mortelle » du partenaire de l'entameur

## Exercice


Sud	Nord
1♣	1♦
1SA	3SA

*Les enchères :*

1. Votre partenaire entame du Valet de pique, pour votre Dame prise par l'As de Sud.
2. Sud joue la Dame de carreau; Vous faites la levée par le Roi.
3. Vous comptez le nombre de levées que fera le déclarant s'il reprend la main
4. Vous réfléchissez à comment battre le contrat

♠ R 5 3  
♥ 9 6 5  
♦ A 10 9 8 6  
♣ A D

♠ V 10 9 8 6 4  
♥ A V 10 8  
♦ 5 2  
♣ 4



♠ D  
♥ D 4 2  
♦ R 7 3  
♣ 8 7 6 5 3 2

♠ A 7 2  
♥ R 7 3  
♦ D V 4  
♣ R V 10 9

*Les déductions :*

1. Ne pas rendre la main qui donne le contrat
2. Tenter sa chance à Cœur
3. Sud n'a pas 4 cartes à Cœur. Votre partenaire en a au moins 4
4. Pour battre le contrat, il faudrait que Ouest possède :
  - A V 10 x
  - A V x x x

***Donc : partir de la dame, carte forçante pour traverser le Roi de Sud***


# En conclusion, dans un contrat à Sans-atout :

Entamer suivant les règles de signalisation (tête de séquence, 4<sup>ème</sup> meilleure) et fournir la carte évitant un blocage. Aider le partenaire à affranchir sa longue

Chaque défenseur compte les levées certaines du déclarant :

- ✓ Les honneurs manquants dans la couleur d'entame
- ✓ Les honneurs invisibles dans les autres couleurs
- ✓ Les levées de longueur du mort
- ✓ L'affranchissement d'une longueur du mort
- ✓ Ne pas rendre la main si le compte des levées certaines du déclarant est suffisant pour réussir le contrat. Contre-attaquer en aveugle dans la seule couleur où vous ne savez pas si le déclarant prendra la main
  
- ✓ Enfin, calculez le nombre de points du déclarant fournis par les honneurs identifiés. Déduisez ce qu'il n'a pas et qui doit se trouver chez votre partenaire.

♠ A 6  
 ♥ 9 7 2  
 ♦ A R V  
 ♣ A D 10 5 3



♠ R D 2  
 ♥ R 6 4  
 ♦ D 10 7 5  
 ♣ V 9 4

**Entame : Valet de Pique**

Sud	Ouest	Nord	Est
		1♣	Passe
2SA	Passe	3SA	Fin

1♣ : Nord est trop riche pour 1SA

2SA : décrit 11 points et Nord conclut à 3SA

***Plan de jeu du déclarant :***

8 levées immédiates : Pique 3, Carreau 4, 1 à Trèfle

Le déclarant peut trouver :

- 3 levées par l'affranchissement de la longue à Trèfle après avoir fait l'impasse au Roi. (probabilité 100%)

Des levées supplémentaires par :

- le Roi de Cœur bien placé en Est (probabilité 50%)
- Il ne doit pas toucher à Cœur qui, en cas d'échec de l'impasse à l'As mettrait en danger son contrat

♠ A 6

♥ 9 7 2

♦ A R V

♣ A D 10 5 3

♠ V 10 9 7 4

♥ A D 8 3

♦ 8 6 3

♣ 8

	N	
O		E
	S	

♠ 8 5 3

♥ V 10 5

♦ 9 4 2

♣ R 7 6 2

♠ R D 2

♥ R 6 4

♦ D 10 7 5

♣ V 9 4

Sud	Ouest	Nord	Est
		1♣	Passe
2SA	Passe	3SA	Fin


**Plan de jeu de la défense :**

- Est prend la main à la suite de l'impasse du Roi de Trèfle
- Il comprend que le déclarant va réussir son contrat s'il lui rend la main. Il doit donc trouver le moyen de garder la main dans son camp.
- Il connaît 33 points H : 11 en Sud, 18 en Nord et 4 dans sa main, soit 7 en Ouest.
- La seule faille possible est à Cœur où Ouest pourrait détenir As et Dame.
- Il contre-attaque du Valet de Cœur, carte forçante et le Roi est traversé.
- EO feront 4 levées à Cœur et le Roi de Trèfle pour une de chute.

**Est-Ouest marque 100 points pour 3SA-1****Entame : Valet de Pique**

♠ 7 5 2  
 ♥ R D V 10 4  
 ♦ 8 3  
 ♣ R D 6

♠ 4  
 ♥  
 ♦  
 ♣



♠ A R V  
 ♥ A 2  
 ♦ D 10 6  
 ♣ V 10 9 7 3

*Entame : 4 de Pique*

Sud	Ouest	Nord	Est
1SA	Passe	2♦	Passe
2♥	Passe	3SA	Fin

***Plan de jeu du déclarant :***

8 levées immédiates : Pique 3 sur l'entame,  
Cœur 5

Le déclarant peut trouver :

- 4 levées par l'affranchissement de la longue à Trèfle après avoir fait donné l'As. (probabilité 100%)
- Le risque est à Carreau

***Le déclarant prend l'entame et attaque Trèfle pris par l'As en Ouest.***

♠ 7 5 2

♥ R D V 10 4

♦ 8 3


♣ R D 6

♠ D 9 6 4 3

♥ 8 5

♦ R V 7 2

♣ A 8



♠ 10 8

♥ 9 7 6 3

♦ A 9 5 4

♣ 5 4 2

♠ A R V

♥ A 2

♦ D 10 6

♣ V 10 9 7 3

Sud	Ouest	Nord	Est
1SA	Passe	2♦	Passe
2♥	Passe	3SA	Fin

### Plan de jeu de la défense :

- Ouest prend la main par l'As de Trèfle.
- Il comprend que le déclarant va réussir son contrat s'il lui rend la main. Il doit donc trouver le moyen de garder la main dans son camp.
- Il connaît 36-38 points H : 15-17 en Sud, 11 en Nord et 10 dans sa main.
- Seul l'As de Carreau en Est serait utile.
- Il doit tenter sa chance
- Petit Carreau prometteur pour l'As
- Est qui a compris la manœuvre, relance Carreau et Sud est alors traversé.


La défense réalisera 4 levées à Carreau et l'As de Trèfle pour une levée de chute.

Est-Ouest marque 100 points pour 3SA-1

*Entame : Valet de Pique*

♠ 9 2  
 ♥ D 10 7 5  
 ♦ D 8 6  
 ♣ D 7 4 3

♠ 7  
 ♥  
 ♦  
 ♣



♠ A 10  
 ♥ R V 2  
 ♦ A R V 3  
 ♣ A V 10 8

Sud	Ouest	Nord	Est
2SA	Passe	3♣	Passe
3♦	Passe	3SA	Fin

### *Plan de jeu du déclarant :*

6 levées immédiates : Pique 1, Carreau 4, Trèfle 1

Le déclarant peut trouver :

- 3 levées par l'affranchissement des honneurs à Cœur après avoir fait donner l'As. (probabilité 100%)
- 2 levées à Trèfle par affranchissement d'honneur, voire 4 si le Roi de Trèfle est bien placé.
- Le problème est à Pique car s'il rend la main, il est certain de chuter

**Entame : 7 de Pique**



Sud	Ouest	Nord	Est
2SA	Passe	3♣	Passe
3♦	Passe	3SA	Fin

♠ 9 2

♥ D 10 7 5

♦ D 8 6


♣ D 7 4 3

♠ R V 8 7 3

♥ 9 4

♦ 9 5 4 2

♣ 6 5



♠ D 6 5 4

♥ A 8 6 3

♦ 10 7

♣ R 9 2

♠ A 10

♥ R V 2

♦ A R V 3

♣ A V 10 8

Il ne peut plus envisager d'affranchir les Cœurs qui nécessite de rendre la main.

Sa seule chance est à Trèfle en espérant le Roi bien placé (Probabilité 50%)

1. Il prend de l'As
2. Monte au Mort par la Dame de Carreau
3. Fait l'impasse forçante en partant de la Dame
4. Il prend de l'As si Est pose le Roi. Sinon, il laisse passer et rejoue trèfle
5. Est et Ouest ayant fourni au 2<sup>ème</sup> tour, le résidu était 3-2. Il peut tirer As de Trèfle puis le 8

Il aura réaliser 4 levées à Trèfle, 4 à Carreau et l'As de Pique

Nord-Sud marque 400 points pour 3SA=

**Entame : Valet de Pique**

# **Cours 2<sup>ème</sup> année**

**Le compte des levées adverses à sans-atout**

**Le point de vue de la défense**

**Exercices pour la maison**

# Exercice

*Votre partenaire a entamé contre le contrat de 3SA, à la vue du mort et de la carte d'entame, que savez-vous des honneurs manquants ?*

			<b>A 2</b>		
	<b>V</b>				<b>8 5 3</b>

			<b>A 2</b>		
	<b>D</b>				<b>8 5 3</b>

			<b>A D V</b>		
	<b>2</b>				<b>8 5 3</b>

# Exercice

*Vous êtes en Est. Les adversaires ont ouvert de 1SA et le contrat se joue à SA. Que déduisez vous de l'observation des diagrammes suivants ?*

			<b>A D 10 3</b>		
					<b>R V 9 8</b>

			<b>A R D 8 2</b>		
					<b>9 7 6</b>

			<b>A R D 10 2</b>		
					<b>V 9 7 6</b>

# Exercice

*Vous êtes en Est. Les adversaires ont ouvert de 1SA et le contrat se joue à SA. Que déduisez vous de l'observation des diagrammes suivants ?*

			<b>A R D 10 2</b>		
					<b>9 7 6 5</b>

			<b>A D V 7 2</b>		
					<b>9 8 5</b>

# Exercice

♠ 7 6 2			
♥ A 2			
♦ D 10 4			
♣ R D V 10 6			
	N		♠ V 10 9 8
O		E	♥ 7 3
	S		♦ A 6 3 2
			♣ 7 5 4

***Sud a ouvert de 1SA ? Nord a conclu à 3SA.***

Votre partenaire entame du Valet de Cœur

1- Que déduire après l'entame, en particulier sur les honneurs manquants ?

2- Le déclarant prend de l'As, puis joue Carreau vers sa main. N'y a-t-il pas une couleur plus attractive ?

3- Si oui, pourquoi ne la joue-t-il pas ?

4- Que cherche-t-il à faire ?

5- Où la défense peut-elle espérer réaliser les levées nécessaires à la chute ?

6- A quelle condition ?

# Exercice

♠ 6 5

♥ 7 4 2

♦ A V 10 9 4

♣ A D 10

O N  
S E

♠ V 10 8 2

♥ 6 3

♦ R 2

♣ V 9 8 7 5

***Sud a ouvert de 1SA ? Nord a conclu à 3SA.***

Votre partenaire entame du Valet de Cœur

1- Que déduire après l'entame, en particulier sur les honneurs manquants ?

2- Le déclarant prend de l'As, puis joue la Dame de Carreau de sa main. Que cherche-t-il à faire ?

3- De combien de levées dispose-t-il à ce moment-là ?

4- Existe-t-il une chance de battre le contrat ?

6- Si oui, comment ?

7- A quelle condition ?