

Nom et prénom du candidat :

# EXAMEN NATIONAL D'ACCÈS AU GRADE DE MAÎTRE-ASSISTANT

[25/11/2017]

## ÉPREUVE DE PÉDAGOGIE

Durée : 2h

Notée sur 80

Documents autorisés : S.E.F. 2012



*Les copies seront jugées autant sur le contenu technique de la réponse que sur les points suivants :*

- *Présentation*
- *Structure et cohérence de l'exposé*
- *Adaptabilité au niveau des élèves*

---

### **Sujet 1 - sur 50 points**

Rédigez un petit document à l'attention de vos élèves de 3<sup>e</sup> série majeure sur les conditions d'emploi du Texas mineur et leurs justifications en face d'une ouverture d'1SA. Vous pourrez aborder les développements quand vous le jugerez nécessaire. N'oubliez pas d'illustrer vos propos avec des mains du répondant, de l'ouvreur, ou des deux à la fois si besoin est.

Nom et prénom du candidat :

**Sujet 2 - sur 30 points**

Après avoir rappelé en quelques lignes les conditions d'utilisation du cue-bid simple en réponse à une intervention au palier de 1 dans le cas où le partenaire de l'ouvreur passe, fabriquez un quiz de huit mains illustrant les réponses de l'intervenant dans la séquence suivante. Vous commenterez les réponses.

<b>Sud</b>	<b>Ouest</b>	<b>Nord</b>	<b>Est</b>
			1♦
1♠	Passe	2♦	Passe
?			

**Nom et prénom du candidat :**

Nom et prénom du candidat :

## EXAMEN NATIONAL D'ACCÈS AU GRADE DE MAITRE-ASSISTANT

[25/11/2017]

### EPREUVE DE VERIFICATION DES CONNAISSANCES TECHNIQUES

Durée : 1h30

Notée sur 60

#### Documents interdits

*Rédigez vos réponses sur ce document*

#### **A - Enchères (chaque problème sur 2 points)**

Quelle est votre enchère en Sud ? (référence : S.E.F. 2012)

<b>1</b>	NS Vuln.
♠	D52
♥	R10742
♦	8
♣	RV106

Sud	Ouest	Nord	Est
<b>1♥</b> ?	<b>Passe</b>	<b>1♦</b> <b>2♠</b>	<b>Passe</b> <b>Passe</b>

Votre enchère

<b>2</b>	Pers Vuln.
♠	ADV84
♥	5
♦	V972
♣	963

Sud	Ouest	Nord	Est
<b>1♠</b> ?	<b>Passe</b>	<b>1♥</b> <b>3♦</b>	<b>Passe</b> <b>Passe</b>

Votre enchère

<b>3</b>	Pers Vuln.
♠	RD72
♥	4
♦	V53
♣	RD864

Sud	Ouest	Nord	Est
<b>3♣</b> <b>4♠</b> ?	<b>Passe</b> <b>Passe</b> <b>Passe</b>	<b>2SA</b> <b>3♥</b> <b>4SA</b>	<b>Passe</b> <b>Passe</b> <b>Passe</b>

Votre enchère

<b>4</b>	EO Vuln.
♠	AR95
♥	4
♦	RD1062
♣	A73

Sud	Ouest	Nord	Est
<b>1♦</b> <b>1♠</b> ?	<b>Passe</b> <b>Passe</b>	<b>1♥</b> <b>2♣</b>	<b>Passe</b> <b>Passe</b>

Votre enchère

Nom et prénom du candidat :

<b>5</b>	NS Vuln.
♠	RD1053
♥	D106
♦	AR84
♣	6

Sud	Ouest	Nord	Est
<b>1♠</b>	<b>Passe</b>	<b>2♣</b>	<b>Passe</b>
<b>2♦</b>	<b>Passe</b>	<b>3♠</b>	<b>Passe</b>
<b>?</b>			

Votre enchère

<b>6</b>	Pers Vuln.
♠	D95
♥	AV6
♦	V3
♣	R8742

Sud	Ouest	Nord	Est
<b>?</b>		<b>1♦</b>	<b>Passe</b>

Votre enchère

<b>7</b>	Tous Vuln.
♠	D3
♥	AV1052
♦	AD
♣	D874

Sud	Ouest	Nord	Est
<b>1♥</b>	<b>Passe</b>	<b>2♣</b>	<b>Passe</b>
<b>3♣</b>	<b>Passe</b>	<b>3♥</b>	<b>Passe</b>
<b>4♦</b>	<b>Passe</b>	<b>4SA</b>	<b>Passe</b>
<b>?</b>			

Votre enchère

<b>8</b>	NS Vuln.
♠	AV1095
♥	A42
♦	73
♣	AD8

Sud	Ouest	Nord	Est
<b>1♠</b>	<b>Passe</b>	<b>Passe</b>	<b>Passe</b>
<b>?</b>		<b>1SA</b>	<b>Passe</b>

Votre enchère

**Enchères à 4**

<b>9</b>	NS Vuln.
♠	5
♥	D1064
♦	A543
♣	V972

Sud	Ouest	Nord	Est
<b>Passe</b>	<b>1♠</b>	<b>2♣</b>	<b>1♦</b>
<b>?</b>			<b>Passe</b>

Votre enchère

<b>10</b>	Tous Vuln.
♠	R86
♥	D10542
♦	974
♣	62

Sud	Ouest	Nord	Est
<b>1♥</b>	<b>1♦</b>	<b>Contre</b>	<b>Passe</b>
<b>?</b>	<b>Passe</b>	<b>1SA</b>	<b>Passe</b>

Votre enchère

Nom et prénom du candidat :

<b>11</b>	Tous Vuln
♠	4
♥	RV93
♦	D862
♣	A1075

Sud	Ouest	Nord	Est
<b>Passe</b> ?	<b>1SA</b>	<b>Passe</b>	<b>1♠</b> <b>Passe</b>

Votre enchère

<b>12</b>	Pers Vuln
♠	RV96
♥	1085
♦	AD105
♣	R2

Sud	Ouest	Nord	Est
<b>Passe</b> ?	<b>1♦</b> <b>2♥</b>	<b>Passe</b> <b>Passe</b>	<b>1♥</b> <b>Passe</b>

Votre enchère

<b>13</b>	EO vuln
♠	A84
♥	D5
♦	97
♣	ARV1072

Sud	Ouest	Nord	Est
?	<b>1♦</b>	<b>1♥</b>	<b>1♠</b>

Votre enchère

<b>14</b>	Tous Vuln
♠	8
♥	R102
♦	R9764
♣	A1085

Sud	Ouest	Nord	Est
?	<b>1♣</b>	<b>1♠</b>	<b>Passe</b>

Votre enchère

<b>15</b>	Pers Vuln
♠	D1063
♥	ADV95
♦	6
♣	RD4

Sud	Ouest	Nord	Est
<b>1♥</b> ?	<b>Contre</b>	<b>3♦</b>	<b>Passe</b>

Votre enchère

## Jeu de la carte

### B1 – Maniements de couleur (chaque problème sur 3 points)

Comment jouez-vous les couleurs suivantes, sans indication sur les jeux adverses, et avec toutes les communications nécessaires dans les couleurs annexes ? Justifiez vos réponses.

1) 10 5 3 2



pour 4 levées

A D V 8

2) D V 9



pour 2 levées

8 5 4 2

Nom et prénom du candidat :

**B2 – Jeu en face du mort**

**1) (sur 6 points)**

**N/S vulnérables Match 4**

♠ 6 4 3  
♥ V 6 4  
♦ 6 5 2  
♣ A R V 3



♠ A V 1 0 2  
♥ A R D 1 0 9  
♦ A 9 3  
♣ 7

<u>Sud</u>	<u>Ouest</u>	<u>Nord</u>	<u>Est</u>
1♥	Passe	2♥	Passe
2♠	Passe	3♣	Passe
4♥			

*Entame : Roi de Carreau*

À votre avis quelle ligne de jeu vous donne les meilleures chances de gagner votre contrat ? Auriez-vous joué de la même façon en tournoi par paires ?



Nom et prénom du candidat :

**2) (sur 6 points)**

Match par 4 - E/O vuln

♠ **D 9**  
♥ **A 8 4 2**  
♦ **R 4 3 2**  
♣ **D 7 3**



♠ **R 5 4**  
♥ **R 7 3**  
♦ **A V 8 7 5**  
♣ **A V**

<u>Sud</u>	<u>Ouest</u>	<u>Nord</u>	<u>Est</u>
1SA	Passe	2♣	Passe
2♦	Passe	3SA	

Entame : 6 de Pique

Ouest entame du 6 pour la Dame du mort qui fait la levée. Est fournit le 2. Il faut continuer.


Nom et prénom du candidat :

### **B 3 - Jeu de la défense**

#### **1) (sur 6 points)**

Tous Vulnérables

♠ <b>105</b>	<b>Sud</b>	<b>Ouest</b>	<b>Nord</b>	<b>Est</b>
♥ <b>AV3</b>			1♦	Passé
♦ <b>A10964</b>	2SA	Passé	3SA	Fin
♣ <b>RD10</b>				
♠ <b>D9762</b>	Entame : 6 de Pique			
♥ <b>1098</b>				
♦ <b>8</b>				
♣ <b>V643</b>				




Vous entamez du 6 de Pique pour le Roi d'Est qui remporte la levée. Il continue du Valet, Sud fournissant le 3 et le 4. Il est temps de faire le point.

Nom et prénom du candidat :

## 2) (sur 6 points)

Est donneur Nord-Sud vulnérables

	♠ <b>AV6</b>	<b>Sud</b>	<b>Ouest</b>	<b>Nord</b>	<b>Est</b>
	♥ <b>R942</b>				3♦
	♦ <b>V73</b>	4♥	5♦	5♥	
	♣ <b>874</b>				
♠ <b>R1054</b>		Entame : 6 de Carreau			
♥ <b>8</b>					
♦ <b>R106</b>					
♣ <b>D10652</b>					



Sud coupe l'As de Carreau de votre partenaire et joue Cœur pour le Roi, tout le monde fournissant. Il coupe un deuxième Carreau de sa main et rentre au mort par le 9 de Cœur, Est défaussant un Carreau. Il coupe un troisième Carreau et continue par As Roi de Trèfle et Trèfle, vous donnant la main car Est défausse au troisième tour de la couleur. A vous de jouer.

Nom et prénom du candidat :

# EXAMEN NATIONAL D'ACCÈS AU GRADE DE MAITRE-ASSISTANT

[25/11/2017]

## ÉPREUVE D'ÉTHIQUE ET ARBITRAGE

Durée : 1h  
Notée sur 20

Code 2007 autorisé

---

### Question 1 (sur 5 points)

1 point par réponse juste  
-0,5 points par réponse fausse  
0 si pas de réponse

#### Les actions suivantes sont-elles légales ?

(Cochez la bonne réponse)

- |  | VRAI                     | FAUX                     |
|--|--------------------------|--------------------------|
| 1- Un joueur regarde la carte qu'il a jouée à la levée précédente alors que son adversaire vient d'attaquer.                     | <input type="checkbox"/> | <input type="checkbox"/> |
| 2- Un joueur qui vient de faire une renonce ne le signale pas alors que son adversaire vient de revendiquer le reste des levées. | <input type="checkbox"/> | <input type="checkbox"/> |
| 3- Le déclarant reprend dans la foulée une carte qu'il vient de jouer légalement de sa main.                                     | <input type="checkbox"/> | <input type="checkbox"/> |
| 4- Le déclarant accepte que son adversaire reprenne sans conséquence une entame hors tour.                                       | <input type="checkbox"/> | <input type="checkbox"/> |
| 5- Un joueur ne signale à aucun moment qu'il s'est trompé dans l'application de son système.                                     | <input type="checkbox"/> | <input type="checkbox"/> |


Nom et prénom du candidat :

**Question 2 (sur 5 points)**

Expliquez en quelques lignes et à l'aide d'exemples quelles sont les déclarations qu'il faut alerter et celles qui ne s'alertent pas.

### Question 3 (sur 10 points)

Tournoi « Accession » (réservé aux joueurs classés au mieux 3♦) que vous arbitrez au sein de votre club.

5 – Sud / NS	♠ V1052	<b>Sud</b>	<b>Ouest</b>	<b>Nord</b>	<b>Est</b>
	♥ A3	1♠	3♣ <sup>(1)</sup>	3♠	Passé
	♦ 85	4♠			
	♣ V10842				
♠ 4					
♥ RD1084	N				
♦ ADV94	O  E				
♣ 93	S				
	♠ RD963	♠ A87			
	♥ 75	♥ V962			
	♦ R6	♦ 10732			
	♣ AR65	♣ D7			

(1) Alerté et expliqué par est comme bicolore Cœur-Trèfle. Ouest vous expliquera qu'ils sont convenus de jouer les Michael's cue-bid et Est reconnaîtra s'être trompé en donnant l'explication.

**Contrat** : 4 Piques par Sud sur l'entame du Roi de Cœur

Sud prend l'entame au mort de l'As et joue atout.

Est prendra le deuxième tour d'atout de l'As (défausse du 10 de Cœur en Ouest), jouera le Valet de Cœur (le 8 en Ouest) puis le 7 de Carreau pour une de chute.

Sud vous appelle pour se plaindre de la mauvaise explication reçue : il n'aurait pas joué 4 Piques s'il avait eu la bonne explication. Il vous explique que l'explication ne change certes pas ses déclarations ultérieures mais qu'Est aurait très certainement défendu à 5 Carreaux s'il ne s'était pas trompé. De plus, il trouve très suspect qu'Est rejoue Carreau plutôt que Trèfle à la cinquième levée.

**Qu'expliquez-vous aux quatre joueurs ?**

**Nom et prénom du candidat :**