

**EXAMEN NATIONAL D'ACCÈS AU GRADE DE
MAÎTRE-ASSISTANT
2010/2011**

Épreuve de Pédagogie

Document autorisé : S.E.F.

- durée : 2 h
- sur 80

Les copies seront jugées autant sur le contenu technique de la réponse que sur les points suivants :

- *Présentation*
- *Structure et cohérence de l'exposé*
- *Adaptabilité au niveau des élèves*

SUJET 1 - sur 60 points

Elaborez, à l'attention de vos élèves de deuxième cycle, un polycopié concernant la deuxième encre du répondant, sur le sujet suivant:

« Répétition par le répondant de sa couleur après une ouverture de un à la couleur ».

SUJET 2 - sur 20 points

Expliquez en quelques lignes et à l'aide de quelques exemples la notion de « mort inversé ». Insistez sur les différences qui distinguent cette technique d'un plan de coupe traditionnel.

Nom du candidat :

**EXAMEN NATIONAL D'ACCÈS AU GRADE DE
MAÎTRE-ASSISTANT**

Épreuve de vérification des connaissances techniques

Documents interdits

- durée : 1h30
- sur 60

Rédigez vos réponses sur ce document

A - Enchères (chaque problème sur 2 points)

Quelle est votre enchère en Sud ? (référence : S.E.F.)

1	Pers Vul	Sud	Ouest	Nord	Est	Votre enchère
♠	RD95			1♣	Passe	
♥	RV6	1♠	Passe	2♥	Passe	
♦	972	?				
♣	1074					
2	Tous Vul	Sud	Ouest	Nord	Est	Votre enchère
♠	RD104	1♦	Passe	1♥	Passe	
♥	D5	1♠	Passe	2♣	Passe	
♦	AV108	?				
♣	863					
3	N/S Vul	Sud	Ouest	Nord	Est	Votre enchère
♠	AV97	1♦	Passe	1SA	Passe	
♥	R108	?				
♦	ARV53					
♣	9					

4	Tous Vul
♠	7
♥	A D V 10 8
♦	A R 10 6
♣	A V 9

Sud	Ouest	Nord	Est
1♥	Passe	1♠	Passe
3♦	Passe	3♥	Passe
?			

Votre enchère

5	E/O Vul
♠	AR53
♥	AD8
♦	RD 10 8 4
♣	5

Sud	Ouest	Nord	Est
1♦	Passe	1♥	Passe
1♠	Passe	2♥	Passe
?			

Votre enchère

6	Pers Vul
♠	RV974
♥	AD 10
♦	RD7
♣	92

Sud	Ouest	Nord	Est
1♠	Passe	2♣	Passe
2SA	Passe	4SA	Passe
?			

Votre enchère

7	Tous Vul
♠	DV 10 8 6 3
♥	V 10 4
♦	D6
♣	V8

Sud	Ouest	Nord	Est
2♥	Passe	2♦	Passe
3♥	Passe	2SA	Passe
?		3♠	Passe

Votre enchère

8	Pers Vul
♠	RV 10 4
♥	AD9
♦	V5
♣	8642

Sud	Ouest	Nord	Est
1♠	Passe	1♦	Passe
?		2♦	Passe

Votre enchère

Enchères à 4

9	Tous Vul
♠	D 10 6 4 3
♥	A
♦	D9762
♣	R5

Sud	Ouest	Nord	Est
?			1♥

Votre enchère

10	Pers Vul
♠	ADV942
♥	A5
♦	9763
♣	2

Sud	Ouest	Nord	Est
?	1♣	Passe	1♠

Votre enchère

11	Tous Vul
♠	D5
♥	R D 10 6 3 2
♦	52
♣	A D 7

Sud	Ouest	Nord	Est
?	1♦	1♠	2♦

Votre enchère

12	Tous Vul
♠	A V 5
♥	R 6
♦	A V 9 4
♣	D 10 3 2

Sud	Ouest	Nord	Est
?			4♠

Votre enchère

13	N/S Vul
♠	V 8 2
♥	D 4
♦	A D 10 6 5
♣	R 8 6

Sud	Ouest	Nord	Est
1♦ Passe ?	Passe Passe	1♠ 3♣	2♥ Passe

Votre enchère

14	E/O Vul
♠	R V 5 2
♥	D 8 4
♦	R 7 6 2
♣	9 3

Sud	Ouest	Nord	Est
?	1♦	2SA	Passe

Votre enchère

15	Pers Vul
♠	V 6
♥	R 10 8 5
♦	9 7 3
♣	A 8 7 4

Sud	Ouest	Nord	Est
?	1SA	2♣	Passe

Votre enchère

16	Pers Vul
♠	D 10 8 4
♥	A R 10 9 2
♦	V 9 3
♣	5

Sud	Ouest	Nord	Est
1♥ ?	Passe	1♠	1♣ Passe

Votre enchère

Jeu de la carte

B1 – Maniements de couleur ? (chaque problème sur 3 points)

Comment jouez-vous les couleurs suivantes, sans indication sur les jeux adverses, et avec toutes les communications nécessaires dans les couleurs annexes ? Justifiez vos réponses.

1) $V\ 9\ 7$

	N	
O		E
	S	

pour 4 levées

A 8 6 5 3

2) $D\ 8\ 4\ 2$

	N	
O		E
	S	


pour 5 levées

A 10 7 5 3

B2 – Jeu en face du mort

1) (sur 6 points)

CONTRAT:	♠ 6 4
3SA	♥ 7 3
ENTAME:	♦ V 9 7 4 3
6♥	♣ 8 6 4 2




♠	A R D 2
♥	A R
♦	R 6 2
♣	R D V 10

Essayez de réaliser neuf levées.

2) (sur 5 points)

CONTRAT:	♠ A 10 8
6♥	♥ D 9 4 3
ENTAME:	♦ A 10 9 2
R♦	♣ 10 6



♠	R D V
♥	A 10 8 6 5 2
♦	7
♣	A D V

Au contrat de 6♥ Ouest entame du Roi de Carreau. Comment continuez-vous ?

B 3 - Jeu de la défense

1) (sur 6 points)

CONTRAT:	♠ D 7 6		
4♥	♥ R V 8		
ENTAME:	♦ A D V 10 7		
2♠	♣ 10 5		
			♠ A V 10 9 5 3
			♥ A 6
			♦ R 2
			♣ V 9 4

Tournoi par paires

Sud	Ouest	Nord	Est
2♥ 4♥	Passe Fin	1♦ 3♥	1♠ Passe

Ouest entame du 2 de Pique pour l'As d'Est qui rejoue le Valet. Ouest coupe du 2 de Cœur et continue du 6 de Carreau. Le déclarant prend de l'As de Carreau et rejoue Cœur pour votre As, le 3 et le 5. A vous de tirer le meilleur parti de la situation.

2) (sur 5 points)

CONTRAT:	♠ D 10 5 4		
4♥	♥ 10 9 7 6 3		
ENTAME:	♦ 10 9		
R♦	♣ V 3		
			♠ R V 9
			♥ 4
			♦ A 8 7 6 3
			♣ D 8 7 5

Sud	Ouest	Nord	Est
2♣ 3♥	Passe Passe	2♦ 4♥	Passe Fin

Sud coupe le deuxième tour de Carreau, tire l'As de Cœur sur lequel Ouest défause le 2 de Carreau, et poursuit par l'As de Pique et Pique pour le 10 du mort, Ouest fournissant le 7 puis le 3. En main au Valet de Pique, que doit rejouer Est ?

Nom du candidat :

**EXAMEN NATIONAL D'ACCÈS AU GRADE DE
MAÎTRE-ASSISTANT**

Épreuve « Ethique - Arbitrage »

Code autorisé

- durée : 45 min.
 - sur 20
-

1- (sur 5 points)

Vous décidez de faire participer à une Ronde Société Générale tous les élèves de votre école de bridge, soit 26 paires. Vous installez donc 13 tables, mais au dernier moment une paire se désiste. Vous n'avez donc plus que 25 paires.

Sachant qu'il y a une duplication à effectuer, quel type de mouvement allez-vous mettre en place ?

Combien de tours allez-vous faire jouer ?

Détaillez la mise en route de votre séance.

2- (sur 5 points)

VRAI

FAUX

a- Sud est déclarant. Ouest entame l'As de Cœur et dans le même temps Est dépose le 9 de Trèfle sur la table (hors tour). Les deux cartes ont été jouées face visible. Sud peut choisir l'entame qu'il préfère.

b- Ouest a une carte pénalisée principale, le 8 de Cœur, suite à une attaque hors tour. A Cœur il possédait à l'origine R982. A la 2^{ème} levée, le déclarant, Nord, présente la Dame de Cœur du mort (Sud). Ouest peut fournir le Roi de Cœur pour respecter la règle honneur sur Honneur.

c- Sud joue 6♠. Au cours du jeu, Sud joue un petit Carreau du mort qu'il coupe du 10 de Pique ; Ouest surcoupe de l'As. Sud dit : « pardon, j'ai l'As de Carreau ». Ouest peut reprendre l'As de Pique pour couper avec un petit atout.

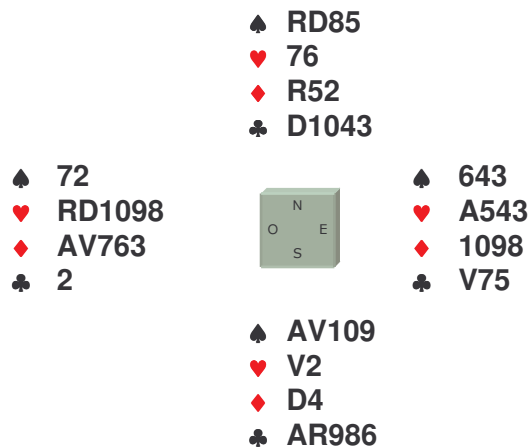
d- Ouest joue 3SA et présente le 2 de Carreau de sa main, Nord fournit le 7 de Cœur et Sud demande : pas de Carreau partenaire ? Nord dit pardon et pose le 8 de Carreau sur la table. Le 7 de Cœur devient une carte pénalisée secondaire.

e- Est, déclarant, au contrat de 6♠, reçoit l'entame du 2 de Pique pour le 3 de Pique du mort et le Valet de Pique de Nord. Il possède en main AR1084 et sort de sa main le 10 de Pique, le pose sur la table et, se rendant compte de son erreur le reprend pour jouer l'As de Pique. Sud proteste qu'il a vu le 10 et appelle l'arbitre. Le 10 de Pique sera la carte jouée.

3- (sur 10 points)

Vous organisez pour vos élèves un petit tournoi le jour de la fête du club.
Vous êtes appelé à la table dans la situation suivante :

Donne 15 – NS/S



Les enchères :	<u>Sud</u>	<u>Ouest</u>	<u>Nord</u>	<u>Est</u>
	1♣	2SA	X	4♥
	Fin			

Est a alerté l'enchère de 2SA et a expliqué qu'il s'agissait d'un bicolore majeur, conformément à ce qui est mentionné sur leur feuille de convention. Ouest explique qu'il avait vu les bons joueurs du club faire cette enchère avec un bicolore rouge et qu'il avait voulu faire la même chose.

Sud proteste que, à cause de ces explications, son camp n'a pas pu demander comme aux autres tables le contrat de 4♠.

Qu'en pensez-vous ?

Quelle sera votre décision ?

Qu'allez-vous expliquer aux 2 camps ?

Citez les lois que vous appliquerez pour justifier votre décision.