

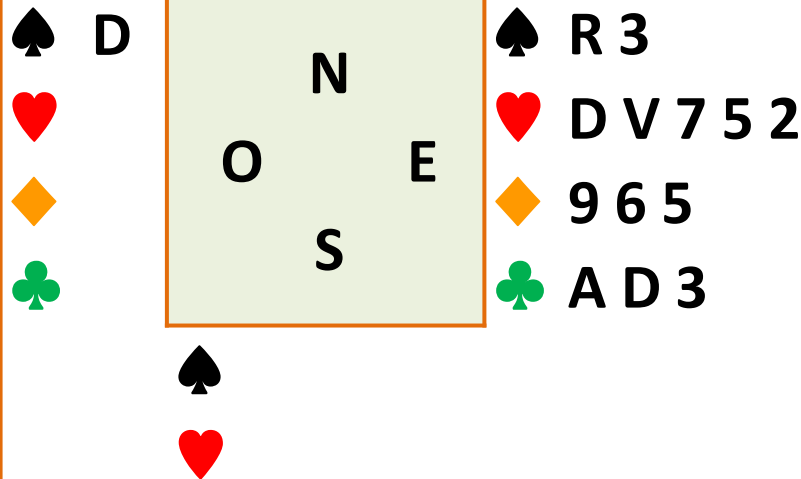
# Cours 3<sup>ème</sup> année

## **Flanc actif – Flan passif**

Corrigé exercices de la maison

# Exercice

♠ 8 4  
♥ A 9 3  
♦ D 10 3  
♣ R 9 8 7 4



**Entame : Dame de Pique**

Sud	Ouest	Nord	Est
1SA	passé	3SA	Fin

***Vous êtes en Est et votre Roi fait la levée***  
***Combien de points entre le mort et vous ?***  
Mort : 9, vous : 12 – Total : 21

***Combien de points chez le déclarant ?***  
Ouverture 1SA : 15 à 17 points

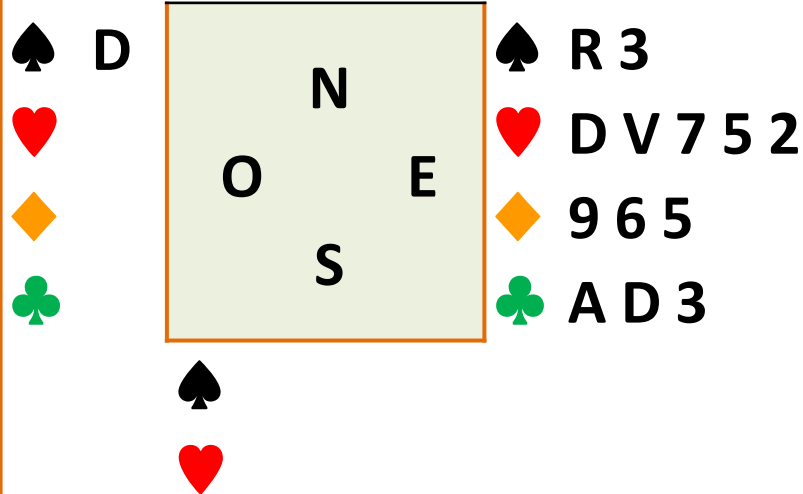
***Combien de points a votre partenaire ?***  
2 à 4 points

***Votre partenaire a-t-il un gros honneur dans une autre couleur ?***

Il a montré 3 points, il a au maximum un Valet

# Exercice

♠ 8 4  
♥ A 9 3  
♦ D 10 3  
♣ R 9 8 7 4



**Entame : Dame de Pique**

Sud	Ouest	Nord	Est
1SA	passé	3SA	Fin

***Vous êtes en Est et votre Roi fait la levée  
Quelle couleur devez-vous tenter d'affranchir  
pour espérer faire chuter ?***

Aucun espoir à Pique. Les Cœurs

***Quelle carte devrez-vous trouver en Ouest  
pour réussir à faire chuter ?***

Le 10 de Cœur. Il faut qu'il soit au moins second.

Que rejouez-vous à la 2<sup>ème</sup> levée ?  
Petit cœur pour éviter un blocage.

# Exercice

# (les quatre mains)

♠ 8 4

♥ A 9 3

♦ D 10 3


♣ R 9 8 7 4

♠ D V 10 9 5

♥ 10 4

♦ 8 7 4 2

♣ 6 5



♠ R 3

♥ D V 7 5 2

♦ 9 6 5

♣ A D 3

♠ A 7 6 2

♥ R 8 6

♦ A R V

♣ V 10 2


Sud	Ouest	Nord	Est
1SA	passe	3SA	Fin

*Entame : Dame de Pique*

# Exercice

♠ 7 5 4  
 ♥ 7 6 5  
 ♦ A R 3 2  
 ♣ A R 3

♠ V 9 3  
 ♥ A R D V 2  
 ♦ 7 6  
 ♣ D V



♠  
 ♥

Sud	Ouest	Nord	Est
1♠	passé	4♠	Fin

*Vous êtes en Ouest. Vous entamez As de Cœur puis Roi et Dame. Est défusse le 2 de Trèfle au 3<sup>ème</sup> tour*

***Combien de points possède Sud ?***

Une ouverture même minimale de 12 points, soit tous les points restants. Votre partenaire n'a aucun point H

***Avez-vous un espoir de chute ?***

Espérer faire votre Valet de Pique grâce à une promotion d'atout si votre partenaire a le 10.

***Quelle carte jouez-vous ?***

Valet de Cœur. Votre partenaire coupe du 10 vous permettant de faire votre Valet.

**Entame : Dame de Pique**

# Cours 3<sup>ème</sup> année

Les enchères de chelem

# Déclarer un chelem à l'atout ?

Grâce aux premières enchères de votre camp :

- ✓ Vous avez **identifié un fit** dans une couleur
- ✓ La force de votre camp est **supérieure à 33 points HLD**

Vous voulez demander un contrat de chelem

**Votre camp remplit les conditions nécessaires**  
**Sont-elles suffisantes ?**

# Déclarer un chelem à l'atout ?

*Votre camp remplit les conditions nécessaires. Sont-elles suffisantes ?*

♠ R 10 9 3

♥ R D 7

♦ R 3 2

♣ V 7 6

	N	
O		E
	S	

*Il manque deux As  
Le chelem a de  
fortes chances de  
chuter d'une levée*

♠ A D V 6 4

♥ 3

♦ A D V 4

♣ R D 8

H = 14 + 19

L = 1

D = 2 + 2

HLD = 38

♠ R 10 9 3

♥ D V 7

♦ R 3 2

♣ R D V

	N	
O		E
	S	

*Il manque un As  
et le Roi d'atout  
Le chelem a de  
50% de chances  
de chuter d'une  
levée*

♠ A D

♥ A 10 9 6 4 3

♦ A D V 4

♣ 8

H = 15 + 17

L = 2

D = 2 + 2

HLD = 38

**Comment éviter  
ces situations ?**



# Déclarer un chelem à l'atout ?

**La notion de clés : 5 clés :**

- **les 4 As**
- **Le Roi d'atout**

**Conditions nécessaires pour chercher à jouer un chelem :**

- 1. Le fit est trouvé et agréé entre les deux partenaires**
- 2. Votre camp dispose de plus de 33 points HLD**

➤ **Vous voulez savoir combien de clés dispose votre camp**

# Déclarer un chelem à l'atout ?

**La notion de clés : 5 clés :**

- les 4 As
- Le Roi d'atout

**La convention du Blackwood : 4SA**

- ✓ Le fit est trouvé et agréé entre les deux partenaires
- ✓ Votre camp dispose de plus de 33 points HLD
- ✓ Vous voulez savoir combien de clés dispose votre camp

**Vous posez la question à votre partenaire : 4SA**

**« Partenaire combien as-tu de clés ? »**

# Exercice

**Attention : ne pas confondre le 4SA quantitatif et le Blackwood**

**Dans les séquences suivantes, indiquez si l'enchère de 4SA est quantitative ou un Blackwood ?**

Sud	Nord
1♦	1♥
1♠	4♠
4SA ?	

**Le fit est  
trouvé  
C'est un BW**

Sud	Nord
1♣	1♥
1♠	3SA
4SA ?	

**Pas de fit  
établi  
C'est une  
enchère  
quantitative**

Sud	Nord
1SA	2♣
2♠	4SA ?

**Pas de fit  
établi  
Nord a 4 cartes  
à Cœur et pas  
à Pique  
C'est une  
enchère  
quantitative**

Sud	Nord
1SA	2♥
2♠	4SA ?

**Pas de fit  
établi  
Nord a 5 cartes  
à Pique et 16  
points HL  
C'est une  
enchère  
quantitative**

# Les réponses au Blackwood

**Vous posez la question à votre  
partenaire : 4SA**

**« Partenaire combien as-tu de clés ? »**

## Les réponses

5  : j'ai 3 ou 0 clés (30)

5  : j'ai 4 ou 1 clés (41)

5  : j'ai 2 clés sans la Dame d'atout

5  : j'ai 2 clés et la Dame d'atout

*Celui qui a posé le Blackwood est ainsi capable de vérifier si le camp a au moins 4 clés sur les 5 existantes*

*C'est le capitaine, seul capable de décider le contrat final*

# Les réponses au Blackwood

**Vous posez la question à votre partenaire : 4SA**

**« Partenaire combien as-tu de clés ? »**

Les réponses

5 ♣ : j'ai 3 ou 0 clés (30)

5 ♦ : j'ai 4 ou 1 clés (41)

5 ♥ : j'ai 2 clés sans la Dame  
d'atout

5 ♠ : j'ai 2 clés et la Dame d'atout

## Remarques importantes :

- *Les réponses sont automatiques*
- *Celui qui a posé le Blackwood **est le capitaine, seul capable de décider le contrat final***
- ***Vous ne poserez pas un Blackwood si vous avez une chicane : la réponse de votre partenaire ne permettant pas de savoir si une clé pourrait être celle de la chicane, sans intérêt.***

# Pas de Blackwood si vous possédez une chicane

➤ ***Vous ne poserez pas un Blackwood si vous avez une chicane***  
*la réponse de votre partenaire ne permettant pas de savoir si une clé pourrait être celle de la chicane, sans intérêt.*

***Exemple :***

♠	D 8 7 5
♥	10 9 2
♦	D
♣	A D V 5 4
♠	A R V 9 3
♥	D V
♦	A 8 7 6 3 2
♣	-

Sud	Nord
1♦	2♣
2♠	3♠
?	

S : 18 HL – 6 cartes à Carreau – 5 à Pique  
 N : 12HL – 2 sur 1 en commençant par Trèfle  
 S : Bicolore cher garantissant 4 cartes à Pique,  
 5 à carreau et 18 HL

N : 4 cartes à Pique

Le fit en majeure est trouvé

Force minimum du camp : 18 HL + 2 points  
 pour le 9<sup>ème</sup> atout + 3 points pour la chicane =  
 23 points + 11 de Nord = 34 HLD minimum  
 avec 3 clés. *Le chelem est possible*

***Mais à quoi vous servirait de  
 savoir que Nord possède une clé ?***

- *L'As de Cœur serait utile*
- *L'As de Trèfle ne sert à rien*

# Exercice

*Quelle est votre réponse avec vos mains dans les séquences suivantes ?*

♠	R D 8 4
♥	A V 9 5
♦	R V 2
♣	D 4

Sud	Nord
1SA	2♣
2♠	4♦

Sud	Nord
1♣	1♥
2♥	4SA
5♦	

♠	V 4
♥	10 7 6 2
♦	5
♣	A R D V 8 4

Sud	Nord
	1♠
3♠	4SA
5♣	

♠	D 7 5 4
♥	V 6
♦	R 8 6
♣	R V 10 4

Sud	Nord
	1♠
2♣	2♥
3♠	4♣
4♥	4SA
5♠	

♠	D V 4
♥	A 2
♦	8 5
♣	A D V 10 6 2

**Fit pique**  
**17 points HLD**  
 Chelem à Pique possible  
 Vous annoncez vos intentions en commençant les contrôles

**Fit Cœur**  
 Une clé

**Fit Pique**  
 Aucune clé

**Fit Pique**  
 2 clés et la Dame de Pique

# la suite pour ceux qui veulent aller plus loin !

- **Le Blackwood aux Rois**
- **Le fit différé**
- **La demande de la Dame d'atout**



# La suite : Le Blackwood aux Rois

Grâce au Blackwood pour les clés, vous savez que **votre camp possède toutes les clés**

**Vous possédez aussi la Dame d'atout**

La force de votre camp vous laisse **espérer un grand chelem**

Vous voulez vérifier s'il ne manque pas de Roi

Vous utiliserez le

## **Blackwood aux Rois : 5SA**

***5SA : « Partenaire, nous avons toutes les clés, dis-moi quel(s) Rois tu possèdes »***

# La suite : Le Blackwood aux Rois

***5SA : « Partenaire, nous avons toutes les clés, dis-moi quel(s) Rois tu possèdes »***

## Réponses :

**6 ♣ : j'ai le Roi de Trèfle et je peux avoir un autre Roi**

**6 ♦ : je n'ai pas le Roi de Trèfle mais j'ai le Roi de Carreau et je peux avoir le Roi de Cœur ou de Pique**

**6 ♥ : je n'ai pas les Rois de Trèfle et de Carreau mais j'ai le Roi de Cœur et je peux aussi avoir le Roi de Pique**

**6 ♠ : j'ai le Roi de Pique et aucun autre Roi**

***Attention : Le Roi d'atout étant déjà connu, vous ne le répèterez pas***

# La suite : Le Blackwood aux Rois

**5SA : « Partenaire, nous avons toutes les clés, dis-moi quel(s) Roi(s) tu possèdes »**

## La suite:

*Si un Roi reste inconnu : Une dernière étape peut-être utilisée pour décider du grand chelem*

*Le partenaire qui a posé le Blackwood annonce la couleur du Roi manquant.*

*Exemple : votre partenaire a annoncé le Roi de Carreau, vous voulez savoir si votre partenaire a aussi le Roi de Cœur pour jouer le **petit ou le grand chelem à Pique***

**Vous dites 6♥ : « Partenaire, as-tu le Roi de Cœur ? »**

## Réponses :

➤ **6♠ : non, je n'ai pas le Roi de Cœur et nous jouons le petit chelem à Pique**

➤ **7♠ : oui, j'ai le Roi de Cœur, nous avons donc toutes les 5 clés, la Dame d'atout et tous les Rois, nous jouons le grand chelem à Pique**

# Exercice





*Faites les séquences d'enchères avec les jeux suivants – Sud donneur ?*

Donne 1	
	10 8 7 5
	A V 4 2
	7 4
	A R 6







	A R D 6
	7
	A R D 2
	V 8 5 3

Sud	Nord
1 	1 
1 	4 
4SA	5 
6 	Fin

Donne 2	
	R 9 4
	R V 10 7
	D 10 8 7
	8 4



	A D
	A D 9 8 5
	R 2
	R D 10 9

Sud	Nord
1 	3 
4SA	5 
5 	Fin

# Exercice





Faites les séquences d'enchères avec les jeux suivants – Sud donneur ?


Donne 1	
	A R D 6 2
	R 2
	A D V 6
	6 3



	10 8 7 4
	A 7
	R 2
	A R V 5 2

Sud	Nord
1 	1 
3 	4SA
5 	5SA
6 	6 
7 	7SA
Fin	

Donne 2	
	2
	D 10 9 7 3
	R D 8 5
	A R D



	A R 10 5
	A 8 4 2
	A 10 4 2
	2

Sud	Nord
1 	1 
3 	4SA
5 	6 
Fin	

# Le fit différé

## Séquence d'enchères qui exprime à son partenaire l'intention de jouer le chelem

*Exemple :*

♠	D 8 7 5 4
♥	V 9 2
♦	-
♣	A D V 3 2
♠	A R V 9 3
♥	R D 5
♦	A V 8 7 6
♣	10

Sud	Nord
1♠	2♣
3♦	3♠

- Sud ouvre de 1♠ . Il promet 13HL et 5 cartes
- Nord dispose de 12HL, 18 points HLD
- Si Sud n'est pas minimum, un chelem est possible. Comment faire ?
- Vous commencez par annoncer 2♣ : l'annonce est forcing et fort probablement forcing de manche
- Sud avec 20 HL fait un bicolore à saut
- Nord est certain du chelem
- Il fait un fit différé et annonce 3♠
- Sud comprend que Nord dispose d'une force suffisante pour proposer de jouer le chelem à son partenaire

# Le fit différé

## Séquence d'enchères pour déterminer le chelem (suite)


*Exemple :*

♠	D 8 7 5 4
♥	V 9 2
♦	-
♣	A D V 3 2
♠	A R V 9 3
♥	R D 5
♦	A V 8 7 6
♣	10

Sud	Nord
1♠	2♣
3♦	3♠
4♣	4♦
4SA	5♦
5♥	6♠

- Sud entame les contrôles. Le singleton Trèfle est le premier dans l'ordre
- Nord Exprime le contrôle Carreau
- Sud possède les contrôles Cœur et Pique. Il utilise le Blackwood
- Un seul as
- Il manque une clé et Sud ne sait pas si Nord possède la Dame d'atout. Il le demande à son partenaire grâce à la couleur collée
- Nord possède la dame d'atout. Il répond affirmativement en concluant au chelem à Pique

♠ A 7 5  
 ♥ A 6 4 2  
 ♦ A R 8 5 3  
 ♣ V



♠ R 6 3  
 ♥ R D 9 7 3  
 ♦ 2  
 ♣ R D 10 9

*Entame* : Dame de pique

Sud	Ouest	Nord	Est
		1♦	Passe
1♥	Passe	3♥	Passe
4SA	Passe	5♣	Passe
6♥	Fin		

1♦ : Promet 12 points H et 3 cartes à Carreau

1♥ : Promet 5 points H et 4 cartes à Cœur

3♥ : 18 points HLD et le fit à cœur par 4 cartes exactement. Proposition pour jouer la manche si le partenaire n'est pas minimum


4SA : Jeu fort de de 15 points HLD minimum le chelem est possible. Blackwood pour connaître le nombre de clés du partenaire

5♣ : 3 ou 0 clés

6♥ : Ce ne peut être 0 clé. Il manque une clé. Sud possède tous les contrôle de 2<sup>ème</sup> tour, le camp doit jouer le petit chelem à Cœur



♠ A 7 5  
 ♥ A 6 4 2  
 ♦ A R 8 5 3  
 ♣ V



♠ R 6 3  
 ♥ R D 9 7 3  
 ♦ 2  
 ♣ R D 10 9

*Entame* : Dame de pique

Sud	Ouest	Nord	Est
		1 ♦	Passe
1 ♥	Passe	3 ♥	Passe
4SA	Passe	5 ♣	Passe
6 ♥	Fin		

**Sud peut compter sur 7 levées sûres 2P, 3C, 2K**

- Il pourrait trouver 3 levées supplémentaires par l'affranchissement des honneurs à Trèfle
- La défausse d'un Pique perdant de sa main sur le Roi de Carreau
- Enfin deux levées de longueur à Cœur si les atouts sont répartis 3-1
- Il ne devrait concéder que la levée inévitable de l'As de Trèfle
- Il devra se prémunir contre une distribution défavorable 4-0 des atouts et préservant la fourchette D-9 de sa main

♠ A 7 5

♥ A 6 4 2

♦ A R 8 5 3

♣ V

♠ D V 10 8

♥ -

♦ V 9 7 4

♣ 8 6 5 4 3

	N	
O		E
	S	

♠ 9 4 2

♥ V 10 8 5

♦ D 10 6

♣ A 7 3

♠ R 6 3

♥ R D 9 7 3

♦ 2


♣ R D 10 9

Sud	Ouest	Nord	Est
		1♦	Passe
1♥	Passe	3♥	Passe
4SA	Passe	5♣	Passe
6♥	Fin		

*Entame* : Dame de pique

1. Le mort prend l'entame de l'As de Pique
2. Il tire l'As de Cœur et constate la répartition 4-0 des atouts
3. 2 de Cœur vers la fourchette D-9
4. 2 de Carreau vers le Roi
5. 4 de Cœur vers la Dame
6. Roi de Cœur qui capture le dernier atout
7. 9 de trèfle pris par l'As d'Est
8. Ensuite, il ne reste plus qu'à faire 3 levées à Trèfle, 2 à Pique et une à l'atout

♠ A 8 2  
 ♥ R V 5  
 ♦ R 10 6 2  
 ♣ A V 4



♠ D 3  
 ♥ A D 10 9  
 ♦ A D 4 3  
 ♣ R 8 7


Sud	Ouest	Nord	Est
1SA	Passe	4SA	Passe
6SA	Fin		

**1SA** : Promet 15 à 17 points H, un jeu régulier et pas de majeure de 5 cartes ou plus

**4SA** : Sans atout **quantitatif**. Proposition de chelem si l'ouvreur est au maximum de son ouverture. Promet 16 points HL

**6SA** : Acceptation du chelem avec 17 points. La force du camp est de 33 points HL

♠ A 8 2  
 ♥ R V 5  
 ♦ R 10 6 2  
 ♣ A V 4



♠ D 3  
 ♥ A D 10 9  
 ♦ A D 4 3  
 ♣ R 8 7

Sud	Ouest	Nord	Est
1SA	Passe	4SA	Passe
6SA	Fin		

Le déclarant peut compter sur 11 levées (2♠, 4♥, 3♦, 2♣)


Il pourrait trouver la levée manquante à Carreau si le résidu est réparti 3-2

Sinon, il devra tenter l'impasse à la Dame de Trèfle  
 La **meilleure chance** est d'abord le résidu à Carreau en préservant la fourchette R-10 de Carreau pour le cas où le Valet de Carreau serait 4<sup>ème</sup> en Ouest. La probabilité de réussite est de 84% tandis que l'impasse n'est qu'à 50%

**Entame : Valet de pique**

♠ A 8 2  
 ♥ R V 5  
 ♦ R 10 6 2  
 ♣ A V 4

♠ V 10 9 4  
 ♥ 6 3  
 ♦ V 9 8 7  
 ♣ 6 5 2



♠ D 3  
 ♥ A D 10 9  
 ♦ A D 4 3  
 ♣ R 8 7

♠ R 7 6 5  
 ♥ 8 7 4 2  
 ♦ 5  
 ♣ D 10 9 3

Sud	Ouest	Nord	Est
1SA	Passe	4SA	Passe
6SA	Fin		

1. Est prend la levée du Roi de Pique et rejoue le 5 de Pique
2. Sud prend de la Dame
3. Sud tire As et Dame de Carreau et constate la distribution 4-1 du résidu
4. 3 de carreau vers la fourchette R-10
5. Roi de Carreau qui capture le Valet
6. Il pourra ensuite tenter l'impasse de la Dame de Trèfle pour +1 qui ne met pas en danger la réussite de son contrat


**Entame : Valet de pique**

♠ 6 3

♥ 4

♦ R V 6 3

♣ R D V 8 7 2



♠ A R 9 4

♥ A 6 5

♦ D 9 2

♣ A 10 4

Sud	Ouest	Nord	Est
1SA	Passe	2♠	Passe
4♣	Passe	4SA	Passe
5♣	Passe	6♣	Fin

**1SA** : Promet 15 à 17 points H, un jeu régulier et pas de majeure de 5 cartes ou plus

**2♠** : Texas Trèfle promet six cartes à trèfle sans indication de force


**4♣** : Trois cartes à Trèfle dans un jeu maximum de 17 points H. Promet 19 points HLD (9<sup>ème</sup> atout)

**4SA** : Blackwood à l'atout Trèfle. La force du camp est au minimum de 34 points HLD (10H+2L+3D+19)

**5♣** : 3 clés (ne peut être aucune)

**6♣** : Il manque une clé. Nous jouons le petit chelem à Trèfle

♠ 6 3  
 ♥ 4  
 ♦ R V 6 3  
 ♣ R D V 8 7 2



♠ A R 9 4  
 ♥ A 6 5  
 ♦ D 9 2  
 ♣ A 10 4

**Entame : 6 de Trèfle**

Sud	Ouest	Nord	Est
1SA	Passe	2♠	Passe
4♣	Passe	4SA	Passe
5♣	Passe	6♣	Fin

Sud peut compter sur 9 levées certaines (2♠, 1♥, 0♦, 6♣)

Il peut trouver 2 levées à Carreau par affranchissement d'honneurs

Pour réussir son contrat, il devra préserver la fourchette V-9 de Carreau pour le cas où le 10 serait 4<sup>ème</sup> en Est

♠ 6 3

♥ 4

♦ R V 6 3

♣ R D V 8 7 2

♠ V 10 5 2

♥ R V 8 3

♦ A 8

♣ 6 5 3

	N	
O		E
	S	

♠ D 8 7

♥ D 10 9 7 2

♦ 10 7 5 4

♣ 9

♠ A R 9 4

♥ A 6 5

♦ D 9 2

♣ A 10 4

Sud	Ouest	Nord	Est
1SA	Passe	2♠	Passe
4♣	Passe	4SA	Passe
5♣	Passe	6♣	Fin

1. Sud prend l'entame du Roi de Trèfle
2. Il capture les atouts en finissant par la Dame de sa main
3. Petit Carreau vers la Dame qui fait la levée
4. 2 de Carreau vers le Roi. Ouest fait la levée par l'As
5. Est joue cœur en espérant trouver la Dame en Est et affranchir ainsi son Roi. Nord prend de l'As et tente l'impasse au 10 de Carreau
6. Il lui reste à poser ses cartes

*Entame : 6 de Trèfle*




♠ R V 9 4 3

♥ V 8

♦ A 7 6 5

♣ 7 6



♠ A D 8 6 2

♥ A 4

♦ R 3

♣ A D 5 3

Sud	Ouest	Nord	Est
1♠	Passe	4♠	Passe
4SA	Passe	5♥	Passe
5SA	Passe	6♠	Fin

1♠ : Promet 13 points HL et 5 cartes à Pique

4♠ : Promet le fit Pique avec 5 cartes et 14 points HLD

4SA : Blackwood à l'atout Pique. La force du camp est au moins de 36 points HLD

5♥ : 2 clés

5SA: Le camp possède toutes les clés et la dame d'atout. Demande de Roi.


6♠ : Pas de Roi autre que le Roi d'atout

♠ R V 9 4 3

♥ V 8

♦ A 7 6 5

♣ 7 6



♠ A D 8 6 2

♥ A 4

♦ R 3

♣ A D 5 3

Sud	Ouest	Nord	Est
1♠	Passe	4♠	Passe
4SA	Passe	5♥	Passe
5SA	Passe	6♠	Fin

Sud recense 9 levées certaines (5♠, 1♥, 2♦, 1♣)

Il peut compter sur deux levées à Carreau coupé de la main de Sud

Il peut aussi compter sur deux levées à Trèfle coupées du Mort

Il pourrait tenter l'impasse du Roi de Trèfle mais l'échec lui ferait chuter le contrat

Il sait que la Dame de Cœur est en Ouest. Il pourra habilement rendre la main à Ouest et l'obliger à jouer Trèfle dans la fourchette As-Dame ou de jouer Cœur et permettre une coupe et défausse

*Entame* : Roi de Cœur

♠ R V 9 4 3

♥ V 8

♦ A 7 6 5


♣ 7 6

♠ 7 5

♥ R D 10 6 5

♦ 10 8 2

♣ R V 2



♠ 10

♥ 9 7 3 2

♦ D V 9 4

♣ 10 9 8 4

♠ A D 8 6 2

♥ A 4

♦ R 3

♣ A D 5 3

Sud	Ouest	Nord	Est
1♠	Passe	4♠	Passe
4SA	Passe	5♥	Passe
5SA	Passe	6♠	Fin

1. Sud prend l'entame par l'As de sa main
2. Roi de Carreau
3. 3 de Carreau pour l'As
4. 6 de Carreau coupé maître (on en a les moyens, autant ne pas prendre de risque)
5. Atout pour le Valet du mort
6. 7 de Carreau coupé maître
7. Valet de Cœur pris par la Dame
8. Ouest ne peut plus que jouer Trèfle ou Cœur qui permet de défausser un Trèfle du Mort

*Entame* : Roi de Cœur

# Cours 3<sup>ème</sup> année


Enchères de chelem

Enoncé des exercices pour la maison

# Exercice





*Faites les séquences d'enchères avec les jeux suivants – Nord donneur ?*


Donne 1	
	A 5
	R D 10 9 6 3
	2
	A R 7 6



	R 7
	A 8 5 4
	A 9 7
	10 8 4 2

Sud	Nord

Donne 2	
	A V 7 6 2
	A R D
	R 2
	R V 8



	R D 9 4 2
	9 8 3
	D 9
	D 9 7

Sud	Nord

# Exercice

*Faites les séquences d'enchères avec les jeux suivants – Nord donneur ?*

Donne 3	
	A 9 7 6 2
	A 8 4 2
	A 2
	A 5




	R 3
	R D V 10 3
	R D 6
	R D 3

Sud	Nord


# Exercice

*A qui la faute ? Le contrat atteint n'est pas le meilleur. L'un des joueurs a produit une mauvaise enchère. Lequel ?*

Donne 1	
	A 9 2
	A 8 2
	A 9 4
	D V 9 6







	R D 4
	R D V 6 3
	R D 3
	10 4



Sud	Nord
1SA	2 
2 	4SA
5 	6 
Fin	

# Exercice

*A qui la faute ? Le contrat atteint n'est pas le meilleur. L'un des joueurs a produit une mauvaise enchère. Lequel ?*

Donne 2	
	R D V 9 7 6
	A R 9 2
	4
	R 2

Sud	Nord
1 	4 
6 	Fin


Donne 1	
	A 8 5 4 2
	7 6 3
	R D 8 2
	7











# Exercice

*A qui la faute ? Le contrat atteint n'est pas le meilleur. L'un des joueurs a produit une mauvaise enchère. Lequel ?*

Donne 3	
	R V 10 9 8
	R D 10 3
	A 2
	D 9



	D 5
	A V 9 8 4
	R D V
	R V 2

Sud	Nord
1 	2 
3 	4SA
5 	6 
Fin	