

Cours 3^{ème} année

Intervention à 1 SA

Conditions de l'intervention à 1SA

- ✓ Une main régulière sans majeure 5^{ème}
- ✓ De 16 à 18 points HL
- ✓ Un arrêt dans la couleur d'ouverture

Un arrêt :

- *As*
- *Roi second*
- *Dame 3^{ème}*
- *Valet 4^{ème}*

Deux arrêts :





- *As et Roi*
- *Roi, Dame et 10*
- *Dame, Valet, 9 4^{ème}*

Un arrêt et ½ :

- *As et Valet 3^{ème}*
- *Roi et Valet 3^{ème}*
- *Dame et 10 4^{ème}*





Exercices

L'adversaire de droite ouvre de 1♣. Quelle est votre enchère ?

Donne 1	
	A D V
	R 10 8 4
	A D 5 2
	6 4





1 passe

*16 points
Jeu régulier
Mais pas d'arrêt
trèfle
(vous pourriez
perdre 5 plis
d'entrée voire plus)*

Donne 2	
	A D 4
	A R 6 2
	10 9 8
	R V 7

1 SA

*17 points H
Jeu régulier
Un arrêt et demi à
trèfle*




Donne 3	
	R D 6
	V 5 3
	D V 8 7 2
	A R

1 SA



*17 points HL
Jeu régulier
Deux arrêts à trèfle*

Exercices




Avec les mêmes mains, quelle seraient vos enchères si l'adversaire de droite ouvre de 1 , 1  ou 1  ?

Donne 1	
	A D V
	R 10 8 4
	A D 5 2
	6 4

Donne 2	
	A D 4
	A R 6 2
	10 9 8
	R V 7

Donne 3	
	R D 6
	V 5 3
	D V 8 7 2
	A R

Ouverture

1 	1 SA	1 SA	1 SA
1 	1 SA	1 SA	1 SA
1 	1 SA	1 SA	1 SA

*Pas arrêt
Carreau*

*Pas arrêt
Cœur*

Conditions de l'intervention à 1SA

- ✓ Une main régulière sans majeure 5^{ème}
- ✓ De 16 à 18 points HL
- ✓ Un arrêt dans la couleur d'ouverture

Une remarque :

- *Une ouverture majeure garantit 5 cartes dans la couleur*
- *Une ouverture mineure peut être faite avec 3 ou 4 cartes dans la couleur*

L'intervention à sans-atout sur une ouverture majeure demande une plus grande attention sur la qualité des arrêts.

Par exemple, une Dame 3^{ème} est un arrêt insuffisant après une ouverture majeure

Réponse du partenaire de l'intervenant à 1SA

Principe :

Vous oubliez l'ouverture adverse et vous répondez comme si votre partenaire avait ouvert de 1SA

- ✓ *Stayman avec 8 points H et une (ou 2) majeure 4^{ème}*
 - ✓ *Texas avec une majeure 5^{ème}*
- ✓ *2SA avec un jeu régulier et 8 points H*
 - ✓ *3SA avec 9 à 14 points HL*

Exercices

Votre partenaire est intervenu à 1SA après l'ouverture de 1 ♦ . Que répondez-vous ? Quel contrat envisager pour votre camp ?

		Votre réponse et sa justification	Contrat envisagé
♠	A V 8 5	<ul style="list-style-type: none"> ✓ Au moins 8 points H ✓ Une majeure de 4 cartes ✓ Pas 4333 <div style="border: 1px solid black; border-radius: 15px; padding: 5px; display: inline-block; margin-top: 10px;"> 2 ♣ Stayman </div>	4 ♠ si le partenaire est fitté 3SA si le partenaire répond 2 ♦ ou 2 ♥
♥	7 2		
♦	R 6 3		
♣	D 10 7 4		
♠	A 9 6	<ul style="list-style-type: none"> ✓ 9 points H ✓ Pas de majeure de 4 cartes <div style="border: 1px solid black; border-radius: 15px; padding: 5px; display: inline-block; margin-top: 10px;"> 3SA </div>	Pas de fit possible 25 à 27 points dans le camp Ce qu'il faut pour 3SA
♥	R D 4		
♦	10 7 3		
♣	9 6 5 2		

Exercices

Votre partenaire est intervenu à 1SA après l'ouverture de 1♦. Que répondez-vous ? Quel contrat envisager pour votre camp ?

		Votre réponse et sa justification	Contrat envisagé
♠	10 8 7 6 5	2 ✓ La main n'a d'intérêt que si vous jouez à pique <div style="border: 1px solid black; border-radius: 15px; padding: 5px; display: inline-block;"> 2 ♥ Texas </div>	Passez sur la rectification obligatoire de votre partenaire
♥	D 7		
♦	7 4		
♣	6 3 2		
♠	A 8 7 2	✓ Au moins 8 points H ✓ Deux majeures de 4 cartes <div style="border: 1px solid black; border-radius: 15px; padding: 5px; display: inline-block;"> 2 ♣ Stayman </div>	Si le fit est trouvé, proposez la manche (3 ♥ ou 3 ♠). Si pas de fit, proposez 2SA
♥	R 8 4 3		
♦	7 4		
♣	V 7 4		

Exercices

Votre partenaire est intervenu à 1SA après l'ouverture de 1 ♦ . Que répondez-vous ? Quel contrat envisager pour votre camp ?

		Votre réponse et sa justification	Contrat envisagé
♠	R 9 5	✓ Décrire sa main avec ces 5 cartes à cœur <div style="border: 1px solid black; border-radius: 15px; padding: 5px; display: inline-block;">2 ♦ Texas</div>	4 ♥ si le partenaire possède 3 cartes au moins à 3SA si pas de fit
♥	D V 8 5 2		
♦	6 4		
♣	A 7 2		
♠	R V 6	✓ Main régulière de 8 points H ✓ Proposez la manche <div style="border: 1px solid black; border-radius: 15px; padding: 5px; display: inline-block;">2SA</div>	2SA si le partenaire est minimum 3SA s'il est maximum
♥	D 9 5		
♦	D 7 3		
♣	8 4 3 2		

Exercices

Votre partenaire est intervenu à 1SA après l'ouverture de 1 ♦ . Que répondez-vous ? Quel contrat envisager pour votre camp ?

		Votre réponse et sa justification	Contrat envisagé
♠	D 7 6	✓ 7 points H ✓ Pas assez pour une manche <div style="border: 1px solid black; border-radius: 15px; padding: 5px; display: inline-block;">passe</div>	1SA Pas les moyens
♥	R 8 5		
♦	V 6 3		
♣	V 7 5 2		

DONNE 1

Vulnérabilité : personne

Donneur : Celui qui a le 2 de Cœur

♠ A 6 5 2

♥ 7 4

♦ R V 5 2

♣ 7 6 5

♠ V 10 9

♥ V 9 3

♦ 9 8 6 3

♣ 4 3 2

	N	
O		E
	S	

♠ 7 4

♥ R D 10 2

♦ A 10 4

♣ D V 10 9

♠ R D 8 3

♥ A 8 6 5

♦ D 7

♣ A R 8

Entame : Dame de Trèfle

Sud	Ouest	Nord	Est
			1♣
1SA	passé	2♣	passé
2SA	passé	3♠	passé
4♠	fin		

- Nord compte sur 6 levées. Il espère trouver 2 levées à carreau, une par la coupe d'une levée à cœur et une par la coupe d'une levée à trèfle après avoir défaussé un trèfle perdant sur un carreau maître.
- Il prend l'entame et fait deux tours d'atout. Il doit garder son As de pique, seule remontée au mort. Il joue Dame de carreau puis carreau pris par l'As. Est rejoue trèfle.
- Il remonte au mort par l'As de pique et rejoue carreau qui lui permet de défausser un trèfle perdant.

➤ Résultat : 4♠ =

♠ D 10 9 5 2

♥ R 3 2

♦ 7 4


♣ D 8 5

♠ V 8 7 3

♥ 9 7 6 5

♦ D V 6

♣ 6 4 3



♠ 4

♥ D V 10 4

♦ A 10 8 3 2

♣ A V

♠ A R 6

♥ A 8

♦ R 9 5

♣ R 10 9 7 2

Entame : Dame de Carreau

Sud	Ouest	Nord	Est
			1♦
1SA	passé	2♥	passé
2♠	passé	2SA	passé
4♠	fin		

- Nord compte sur 6 levées après l'entame. Il espère trouver 2 levées à pique, une à trèfle, une à cœur par la coupe et l'affranchissement des trèfles.
- Est prend l'entame et joue Dame de Cœur pris par l'As.
- Sud rejoue cœur pour le Roi et tente l'affranchissement des trèfles. La Dame est prise par l'As.
- Est relance cœur pris par le Roi. 4 tours d'atout. Trèfle vers le Roi.

➤ PAR : 4♠ + 1

♠ R 6 2

♥ A 9 7

♦ V 9 5 4 3

♣ D V

♠ 10 8 5 4

♥ 10 4 3

♦ 6 2

♣ 10 6 4 2

	N	
O		E
	S	

♠ D V 3

♥ D V 5

♦ R 8 7

♣ R 9 7 3

♠ A 9 7

♥ R 8 6 2

♦ A D 10

♣ A 8 5

Sud	Ouest	Nord	Est
			1♣
1SA	passé	3SA	fin

- *Sud recense 7 levées.*
- *Le camp possède 28 points. Tous les points manquants sont donc en Est. Il sait que Est n'a pas 4 cartes à carreau Sud peut donc espérer réaliser 5 plis à carreau.*
- *Il prend l'entame et remonte au mort par l'As de Cœur. Valet de trèfle pris par l'As si Est pose le Roi. Sinon, il renouvelle l'impasse et prend le Roi au 3^{ème} tour.*

PAR : 3SA + 2**Entame : 6 de trèfle**

♠ V 10 9 5 3 2

♥ 7

♦ V 9 4

♣ D 8 5

♠ 8 7 6

♥ D 8 6 2

♦ 6 3

♣ V 10 9 4

	N	
O		E
	S	

♠ A R

♥ R 10 9 5 4

♦ A D 8 7

♣ 3 2

♠ D 4

♥ A V 3

♦ R 10 5 2

♣ A R 7 6

Entame : 8 de Cœur

Sud	Ouest	Nord	Est
			1♥
1SA	passé	2♥	passé
2♠	fin		

- Sud recense 4 levées.
 - Il peut espérer 4 levées à Pique après avoir fait tomber l'As et le Roi. Il pourra tenter la double impasse à l'As et à la Dame de Carreau. Il sait que les points sont en Est.
 - Sud prend l'entame et joue Dame d'atout pris par le Roi.
 - Est repart 10 de Cœur coupé par Nord. Petit Pique pris par l'As.
 - Est rejoue cœur coupé par Nord qui peut alors faire la double impasse après avoir capturé le denier atout.
 - Il renouvelle l'impasse en remontant par la Dame de Trèfle.
- Résultat : 2 ♠ +2**





Cours 3^{ème} année





Intervention à 1 SA





Exercices pour la maison

Exercices

Avec les mains suivantes, quelle est votre ouverture ?





Donne 1	
	7 2
	A D V 8 5
	R 10 3
	A V 5





Donne 2	
	A V 9
	R D 10
	R 9 8 6 2
	R 5





Donne 3	
	A D V 5
	R 3
	D V 8 3
	A 7 2

Exercices

Avec les mains suivantes, quelle est votre ouverture ?





Donne 4	
	A D V 5
	R 3
	R D 8 5
	A 7 2





Donne 5	
	A D 2
	R 10 8 2
	7 4
	A D V 5





Donne 3	
	
	
	
	

Avec les mêmes mains, quelles seraient vos enchères si l'adversaire de droite ouvre de 1 , 1 , 1  ou 1  ?





Donne 1	
	7 2
	A D V 8 5
	R 10 3
	A V 5




Donne 2	
	A V 9
	R D 10
	R 9 8 6 2
	R 5

Donne 3	
	A D V 5
	R 3
	D V 8 3
	A 7 2





Ouverture				
1 				
1 				
1 				
1 				

Avec les mêmes mains, quelles seraient vos enchères si l'adversaire de droite ouvre de 1 , 1 , 1  ou 1  ?

Donne 1	
	A D V 5
	R 3
	R D 8 5
	A 7 2





Donne 2	
	A D 2
	R 10 8 2
	7 4
	A D V 5





Donne 3	
	
	
	
	





Ouverture				
1 				
1 				
1 				
1 				

Exercices

Avec les mains suivantes, quelle est votre enchère en face de l'ouverture de 1SA?





Donne 1	
	R 10 8 5 3
	7 5
	A 9 3
	D 4 3





Donne 2	
	R 10 8 7
	7 5
	A 9 7 2
	D 4 3





Donne 3	
	R 10 8 7
	V 9 5 2
	A 3
	V 6 3

Exercices

Avec les mains suivantes, quelle est votre enchère en face de l'ouverture de 1SA?


Donne 4	
	R 10 8
	V 5 3
	D 10 9 2
	A 4 3





Donne 5	
	D 10 8
	5 3 2
	A 9 8 2
	V 4 3





Donne 6	
	A 10 8
	5 3 2
	A 9 8 2
	V 4 3




Exercices

Quelle est votre enchère après le début de séquence :

Sud	Ouest	Nord	Est
	1 	1SA	passe
?			


Donne 1	
	R 10 8 5 3
	7 5
	A 9 3
	D 4 3





Donne 2	
	R 10 8 7
	7 5
	A 9 7 2
	D 4 3




Donne 3	
	R 10 8 7
	V 9 5 2
	A 3
	V 6 3





Exercices

Quelle est votre enchère après le début de séquence :

Sud	Ouest	Nord	Est
	1 	1SA	passé
?			

Donne 4	
	R 10 8
	V 5 3
	D 10 9 2
	A 4 3

Donne 5	
	D 10 8
	5 3 2
	A 9 8 2
	V 4 3

Donne 3	
	A 10 8
	5 3 2
	A 9 8 2
	V 4 3