








# **Cours 3<sup>ème</sup> année**





## **Redemandes à Sans-Atout de l'ouvreur de 1 à la couleur**




**Quelle est la seconde enchère de Sud après la séquence ? Justifiez.**

Donne 1	
	6 5 4 3
	A R 2
	R V 6
	D V 9





Sud	Nord
1 	1 
1 	



*Et si Nord avait 4  
cartes à pique.  
Le fit serait  
intéressant*

Donne 2	
	A R D V
	7 5 3 2
	7 6
	R 10 3

Sud	Nord
1 	1 
1 	

*Les deux majeures.  
La moins chère en  
espérant trouver un  
fit à cœur ou à pique*

Donne 3	
	7 5
	A D V 8 5
	R 6 4
	D 9 3

Sud	Nord
1 	1 
1SA	

*La main est régulière  
avec 2 cartes à pique*

# La redemande à 1SA

La redemande à 1SA promet **un jeu régulier**



**Et**

- **13 à 15 points HL après une ouverture en majeure**
- **12 à 15 points HL après une ouverture en mineure**

**Elle dénie**

- ✓ **4 cartes dans la majeure du répondant**
- ✓ **4 cartes dans une majeure annonçable au niveau de 1**

# La redemande à 1SA - Exemples



Sud	Nord
1 	1 
1SA	

**Promet :**

**12-15 points HL**

**Dénie :**

- 4 cartes à cœur
- 4 cartes à pique



Sud	Nord
1 	1 
1SA	

**Promet :**

**12-15 points HL**

**Dénie :**

- 4 cartes à cœur
- 4 cartes à pique

Sud	Nord
1 	1 
1SA	





**Promet :**



**12-15 points HL**

**Dénie :**





- 4 cartes à pique
- Ne dénie pas**
- 4 cartes à cœur



Quelle est votre déclaration en Nord après la séquence ? Justifiez.

Donne 1	
	R D V 8
	7 6 4 2
	7 4
	R 10 3

Sud	Nord
1 	1 
1SA	PASSE





*Aucun espoir de fit  
en majeure  
21-24 points H dans  
la ligne  
Main de 1<sup>ère</sup> zone*



Donne 2	
	R V 7 2
	V 3
	A 9 5 4
	R 10 3

Sud	Nord
1 	1 
1SA	3SA

*Pas de fit possible  
Force du camp : 25-  
27 HL  
Main de 2<sup>ème</sup> zone*

## Quelle est votre déclaration en Nord après la séquence ? Justifiez.





Donne 3	
	D V 9 6
	R 8 4
	9 7 5
	A R 2



Sud	Nord
1 	1 
1SA	3SA

*Pas de fit majeure possible*

*Force du camp : Au moins 25 points*

*Main de 2<sup>ème</sup> zone*

Donne 4	
	R D 7 3
	7 6 3 2
	A V 4
	D 6

Sud	Nord
1 	1 
1SA	2SA

*Pas de fit majeure possible*

*Force du camp : moins de 25 points si le partenaire est minimum*

# La redemande à 2SA sur une ouverture mineure

**Vous avez ouvert de 1 **

**Votre partenaire vous répond 2 **

**Il a :**

- **Un minimum de 12 points HL**
- **Un minimum de 5 cartes à Trèfle**

**Il peut aussi posséder :**

- **une majeure de 4 cartes**
- **une main valant alors une bonne ouverture**

*Son enchère est « auto forcing ». Il s'engage à reparler*

**Il annoncera alors sa majeure au 2<sup>ème</sup> tour**

**Il rend la séquence « forcing de manche »**

# La redemande à 2SA sur une ouverture mineure

La redemande à 2SA après une réponse du partenaire de 2  sur l'ouverture de 1  promet :

➤ un jeu régulier

Et





➤ 12 à 15 points HL



Elle ne dénie pas

Ni 4 cartes à cœur, ni 4 cartes à pique









# La redemande à 2SA sur une ouverture mineure - Exemples

Exemple 1	
 A 9	
 R 8 5	
 A D 7 5 2	
 8 3 2	





Sud	Nord
1 	2 
2SA	



**14 points HL**  
**Main régulière**  
**Pas de fit majeure possible**

Exemple 2	
 A V 3	
 D V 8 5	
 R V 5 2	
 10 4	

Sud	Nord
1 	2 
2SA	

**12 points H**  
**Fit possible à Cœur**

Exemple 3	
 R V 6 2	
 A D 7 3	
 A 9 3	
 8 5	

Sud	Nord
1 	2 
2SA	

**14 points H**  
**Fit possible à Cœur ou à Pique**

***Vous avez la certitude de manche avec les mains 1 et 3. En ne concluant pas à 3SA, vous laissez à votre partenaire la possibilité de décrire son jeu.***

# La redemande à 2SA sur une ouverture majeure et un changement de couleur en 2 sur 1 sans saut

*Les séquences possibles :*

1 ♥	2 ♣	1 ♠	2 ♣
1 ♥	2 ♦	1 ♠	2 ♦
		1 ♠	2 ♥

*Si l'ouvreur possède un jeu régulier de 16 à 18 points HL (15-17H)*

- Il **ne peut pas** ouvrir de 1 en mineure
- Il **peut** ouvrir de 1 en majeure puisqu'il privilégie l'ouverture en majeure

L'ouvreur de 1 en majeure peut avoir un jeu régulier et :

- 13 à 15 points HL
- 16 à 18 points HL
- 19 à 20 points HL

*Avec 16 à 18 points HL, il annonce sa distribution avec une redemande de 2SA*





# La redemande à 2SA sur une ouverture majeure et un changement de couleur en 2 sur 1 sans saut



La redemande à 2SA de l'ouvreur de 1 en majeure après un changement de couleur de 2 sur 1 sans saut promet un jeu régulier et 16 à 18 points HL

Avec un jeu régulier et une force de 13 à 15 points HL, il répète sa couleur d'ouverture





*Dans ce cas, la répétition annonce un jeu minimum et ne rallonge pas la couleur (l'enchère en 2 sur 1 est forcing et l'ouvreur est obligé de parler)*




Quelle est la seconde enchère de Sud après la séquence ? Justifiez.

Donne 1	
	R V 6
	A D 8 5 2
	D 5
	A V 3

Sud	Nord
1 	2 
2SA	

**18 points HL**  
**Valeur d'une**  
**ouverture de 1SA**





Donne 2	
	R D 6
	A 7 5 4 2
	D V 3
	7 5

Sud	Nord
1 	2 
2 	

**13 points HL**  
**Trop faible pour 2SA**  
**Vous faites le moins**  
**que puissiez faire**





Quelle est la seconde enchère de Sud après la séquence ? Justifiez.

## Exercice PE18-3b

Donne 3	
	A R V 9 5
	D 2
	R 6 5
	R 7 6

Sud	Nord
1 	2 
2SA	

*17 points HL*  
*Valeur d'une*  
*ouverture de 1SA*  
*Dénie 3 cartes à Cœur*

Donne 4	
	A D 7 5 2
	R 9 6
	A D 4
	D 8

Sud	Nord
1 	2 
3 	

*La réponse promet 5*  
*cartes à Cœur*  
*19 points HLD*  
*Enchère forcing de*  
*recherche de chelem*

# La redemande à 2SA avec saut de l'ouvreur

*Exemples :*

1 ♥	1 ♠	1 ♦	1 ♥	1 ♣	1 ♠
2SA		2SA		2SA	

*Si l'ouvreur possède un jeu régulier de 16 à 18 points HL*

- Il **ne peut pas** ouvrir de 1 en mineure
- Il **doit** ouvrir de 1 en majeure puisqu'il privilégie l'ouverture en majeure

L'ouvreur de 1 en majeure peut avoir un jeu régulier et :

- 13 à 15 points HL
- 16 à 18 points HL
- 19 à 20 points HL





*Avec 19 à 20 points HL, il annonce sa distribution avec une redemande de 2SA*



# La redemande à 2SA avec saut de l'ouvreur





**Le saut à 2SA de l'ouvreur promet une main régulière de 18 à 19 points HL**

**Il dénie quatre cartes dans la couleur majeure du répondant et quatre cartes dans une majeure annonçable au palier de 1**





# Quelle est la seconde enchère de Sud après la séquence ? Justifiez.




Donne 1	
	D V 9
	R 6
	A R 7 5
	A 10 3 2

Sud	Nord
1 	1 
2SA	

Donne 2	
	D V 7 6
	A R
	R V 6
	A V 9 6

Sud	Nord
1 	1 
1 	

Donne 3	
	R D 6
	D 5 4 2
	R D V 6
	A D

Sud	Nord
1 	1 
4 	

**18HL**  
 Main trop forte pour une  
 ouverture de 1SA, trop  
 faible pour 2SA  
 Pas de fit majeure  
 possible













**Recherche du fit en  
 majeure prioritaire**

**20 points HLD**  
 Priorité en majeure  
 dans la couleur du  
 fit



# La redemande à 3SA de l'ouvreur après un changement de couleur 2 sur 1 sans saut

*Les séquences possibles :*

1 	2 	1 	2 
1 	2 	1 	2 
1 	2 	1 	2 

**Le saut à 3SA de l'ouvreur après un changement de couleur 2 sur 1 sans saut promet une main régulière de 18 à 19 points H**

# En résumé : les redemandes à Sans-Atout de l'ouvreur de 1 à la couleur

Zone de points de l'ouverture :	Mineure : 12-15HL Majeure : 13-15 points HL	15-17 H	18-19 H			
1 ♣	1 ♣	1 ♦ / 1 ♥ / 1 ♠	impossible	1 ♣	1 ♦ / 1 ♥ / 1 ♠	
	1SA			2SA		
1 ♦	1 ♦	1 ♥ / 1 ♠	Impossible	1 ♦	1 ♦ / 1 ♥ / 1 ♠	
	1SA			2SA		
	ou			ou		
	1 ♦	2 ♣		1 ♦	2 ♣	
	2SA			3SA		
1 ♥ / 1 ♠	1 ♥	1 ♠	1 ♥ / 1 ♠	2 X	1 ♥	1 ♠
	1SA		2SA		2SA	
	ou		ou		ou	
	1 ♥ / 1 ♠	2 X			1 ♥ / 1 ♠	2 ♦ / 2 ♥ / 2 ♠
	2 ♥ / 2 ♠				3SA	

♠ R D 8 7 4

♥ V 2

♦ V 10 5

♣ D V 9

♠ 9 6

♥ 8 6 5 4

♦ 9 7 3

♣ A R 10 2

	N	
O		E
	S	

♠ 10 5 2

♥ D 9 7 3

♦ A 6 4 2

♣ 8 4

♠ A V 3

♥ A R 10

♦ R D 8

♣ 7 6 5 3

♣ 3

Sud	Ouest	Nord	Est
1SA	Passe	2♥	Passe
2♠	Passe	3SA	Passe
4♠	Fin		

- *Ouest entame de l'As de Trèfle. Il voit le 8. Sur le Roi, il voit le 3. Il envisage que son partenaire couperait au 3<sup>ème</sup> tour.*
- *La défense réalisera deux plis à trèfle, une coupe, l'As de Carreau pour un de chute du déclarant qui n'y pouvait rien.*

**Entame : As de Trèfle**

♠ R 9 7 2

♥ 9 7 5 4

♦ D 8

♣ A 8 4

♠ 5 4

♥ A R 10 8 3

♦ A 7 2

♣ V 10 9

	N	
O		E
	S	

♠ V 8 3

♥ 2

♦ V 9 6 5 4 3

♣ 6 5 3

♠ A D 10 6

♥ D V 6

♦ R 10

♣ R D 7 2

Sud	Ouest	Nord	Est
1SA	-	2♣	-
2♠	-	4♠	Fin

Entame : As de Cœur

- *Ouest entame de l'As de Cœur. Il voit le 2. Il provient d'un nombre impair de cartes.*
- *Il sait que Sud possède au moins deux cartes à cœur. Il connaît 11 dans les deux mains du déclarant et la sienne. Reste 2 pour Est, ce qui n'est pas possible. Est est donc singleton.*
- *Il connaît 15-17 points en Sud, 9 en Nord, 12 dans sa main. Reste 2 à 4 chez son partenaire. Pas grand-chose à espérer. Il tire son As de carreau et fait couper le 3<sup>ème</sup> tour de Cœur à son partenaire.*

♠ A 6

♥ R 7 2

♦ R 6 5 4 3

♣ V 10 9

♠ 9 5

♥ A 10 6 4 3

♦ 9

♣ 7 6 4 3 2

	N	
O		E
	S	

♠ R 7 4 2

♥ D 8 5

♦ V 10 8 7

♣ 8 5

♠ D V 10 8 3

♥ V 9

♦ A D 2

♣ A R D

Entame : 4 de Cœur

Sud	Ouest	Nord	Est
1♠	-	2♦	-
3SA	Fin		

- Sud récence 7 levées. Il peut espérer 3 plis par l'affranchissement des Pique. Le danger est à Cœur.
- Il doit laisser passer le premier tour de Cœur.
- Est rejoue le 8 de Cœur (pair-impair du résidu). Ouest ne doit pas prendre et espérer une 3<sup>ème</sup> carte chez son partenaire.
- Lorsque Est reprend la main, il peut jouer un 3<sup>ème</sup> tour de Cœur et faire chuter le déclarant.





<p>♠ 8 4</p> <p>♥ R D 5</p> <p>♦ R 10 3</p> <p>♣ A V 10 9 2</p>	<table border="1" style="border-collapse: collapse; width: 100%; height: 100%;"> <tr><td style="text-align: center;">N</td></tr> <tr><td style="text-align: center;">O      E</td></tr> <tr><td style="text-align: center;">S</td></tr> </table>	N	O      E	S	<p>♠ D 7 5 3</p> <p>♥ V 10 9 7</p> <p>♦ 6 5</p> <p>♣ R 8 4</p>	<p>♠ R 10 6 2</p> <p>♥ A 8</p> <p>♦ 9 8 7 4</p> <p>♣ 7 6 3</p>
N						
O      E						
S						
<p>♠ A V 9</p> <p>♥ 6 4 3 2</p> <p>♦ A D V 2</p> <p>♣ D 5</p>						



**Entame : 2 de Pique**





Sud	Ouest	Nord	Est
1♦	-	2♣	-
2SA	-	3SA	Fin



- *Sud récence 6 levées. Il peut espérer 3 levées par l'affranchissement des Trèfles après avoir fait l'impasse du Roi. Il peut aussi espérer un pli à Cœur*
- *Sud prend la Dame par L'As.*
- *Quand Est reprend la main par le Roi de trèfle, il rejoue le 3 de Pique pour indiquer la parité du résidu. Ouest comprend que Sud possède encore une seule carte à pique.*
- *Il peut donc jouer les piques maître et l'As de Cœur pour un de chute.*





# Quelle est la seconde enchère de Sud après la séquence ? Justifiez.



Donne 1	
	V 9 4 2
	A 4 3
	D 10 5
	A R 3

Sud	Nord
1 	1 
?	





Donne 2	
	A V 4 2
	R D 10 3
	8 5
	D 10 3



Sud	Nord
1 	1 
?	





Donne 3	
	A D 4 2
	4 3
	R V 8 5
	A 7 3


Sud	Nord
1 	1 
?	





Quelle est la seconde enchère de Sud après la séquence ? Justifiez.



Donne 4	
	A D 10 5
	A 9 3
	10 5
	R V 8 3

Sud	Nord
1 	1 
?	

Donne 5	
	A 2
	A 9 8 4 3
	10 5 3
	R V 3





Sud	Nord
1 	1 
?	



Donne 6	
	V 4 2
	A 10 3
	D 8 5
	A R 10 3





Sud	Nord
1 	1 
?	





# Quelle est la seconde enchère de Sud après la séquence ? Justifiez.





Donne 7	
	D 4 2
	A 8 4 3
	R 9 8 5
	A 7



Sud	Nord
1 	1 
?	





Donne 8	
	D 10 5
	A 9 3
	10 5 2
	A R 8 3



Sud	Nord
1 	1 
?	





## Vous êtes en Nord, poursuivez la séquence ?



Donne 1	
	R V 5 2
	D 3
	A 8 4 2
	R 7 6

Sud	Nord
1 	1 
1SA	?





Donne 2	
	R V 5 2
	A 8 3
	8 4 2
	V 7 6



Sud	Nord
1 	1 
1SA	?





Donne 3	
	R V 5 2
	A 9 5 3
	D 2
	R 7 6



Sud	Nord
1 	1 
1SA	?

## Vous êtes en Nord, poursuivez la séquence ?

Donne 4	
	R V 5 2
	A 7 5 3
	8 4
	V 7 6

Sud	Nord
1 	1 
1SA	?

Donne 5	
	R V 5 2
	A 8 6 3
	4 2
	R 7 6

Sud	Nord
1 	1 
1SA	?

# Vous êtes en Sud, poursuivez la séquence ?

Donne 1	
R 7 3	
D 3	
A V 9 4 2	
R 8 4	

Sud	Nord
1	2
?	

Donne 2	
R D 3	
A D 8	
A V 9 4	
R 8 4	

Sud	Nord
1	2
?	

Donne 3	
R 7 3 2	
D 9 6 3	
A V 2	
R 4	

Sud	Nord
1	2
?	

# Vous êtes en Sud, poursuivez la séquence ?

Donne 4	
	A D 8 7 2
	R 8 3
	D 3
	R V 4

Sud	Nord
1	2
?	

Donne 5	
	A D 8 7 2
	R 8 3
	9 3
	R V 4

Sud	Nord
1	2
?	

Donne 6	
	A D 8 7 2
	R V 3
	D 3
	A R 4

Sud	Nord
1	2
?	

## Vous êtes en Sud, poursuivez la séquence ?

Donne 7	
A D 8 7 2	
R 8 3	
D V 3	
9 8	

Sud	Nord
1	2
?	

Donne 8	
A D 8 7 2	
R 8 3	
R V 7	
R 4	

Sud	Nord
1	2
?	

Donne 9	
A D 8 7 2	
R 3	
A D 3	
R 9 4	

Sud	Nord
1	2
?	

## Vous êtes en Sud, poursuivez la séquence ?

Donne 10	
	A D 8 7 2
	R 8 3
	R V 2
	R 9

Sud	Nord
1	2
?	





Donne 11	
	A D 8 7 2
	R 8
	R V 7
	R 8 2



Sud	Nord
1	2
?	





Donne 12	
	A D 8 7 2
	R 3
	A D V
	R 9 4



Sud	Nord
1	2
?	





# Quelle est la seconde enchère de Sud après la séquence ? Justifiez.



Donne 1	
	A D
	D V 2
	R 10 8
	A D 9 7 4

Sud	Nord
1 	1 
?	

Donne 2	
	A V 8 5
	R D 2
	A D 7 4
	R 9





Sud	Nord
1 	1 
?	

Donne 3	
	A V 8 5
	R D 2
	R 9
	A D 7 4





Sud	Nord
1 	1 
?	









# Quelle est la seconde enchère de Sud après la séquence ? Justifiez.



Donne 1	
	R D 9 7 4
	A 8 2
	D 7 4
	V 5

Sud	Nord
1 	2 
?	





Donne 2	
	R D 9 7
	A 8 2
	A R 7 4
	R 5



Sud	Nord
1 	1 
?	





Donne 3	
	R 9 7
	A D 8 2
	R 5
	A R 7 4



Sud	Nord
1 	1 
?	

**Quelle est la seconde enchère de Sud après la séquence ? Justifiez.**





Donne 4	
	D V 5
	A D V 9 2
	R V 8
	R 10


Sud	Nord
1 	2 
?	





Donne 5	
	R V 9
	A D 4
	R V 6
	A V 9 4




Sud	Nord
1 	1 
?	





Quelle est la seconde enchère de Sud après la séquence ? Justifiez.

Donne 1	
	V 9 4 2
	A 4 3
	D 10 5
	A R 3

Sud	Nord
1 	1 
1 	





Donne 2	
	A V 4 2
	R D 10 3
	8 5
	D 10 3




Sud	Nord
1 	1 
1 	





Donne 3	
	A D 4 2
	4 3
	R V 8 5
	A 7 3



Sud	Nord
1 	1 
1 	





# Quelle est la seconde enchère de Sud après la séquence ? Justifiez.



Donne 4	
	A D 10 5
	A 9 3
	10 5
	R V 8 3

Sud	Nord
1 	1 
1 	





Donne 5	
	A 2
	A 9 8 4 3
	10 5 3
	R V 3



Sud	Nord
1 	1 
1SA	





Donne 6	
	V 4 2
	A 10 3
	D 8 5
	A R 10 3



Sud	Nord
1 	1 
1SA	

# Quelle est la seconde enchère de Sud après la séquence ? Justifiez.





Donne 7	
	D 4 2
	A 8 4 3
	R 9 8 5
	A 7



Sud	Nord
1 	1 
1 SA	





Donne 8	
	D 10 5
	A 9 3
	10 5 2
	A R 8 3



Sud	Nord
1 	1 
1 SA	





## Vous êtes en Nord, poursuivez la séquence ?



Donne 1	
	R V 5 2
	D 3
	A 8 4 2
	R 7 6

Sud	Nord
1 	1 
1SA	3SA





Donne 2	
	R V 5 2
	A 8 3
	8 4 2
	V 7 6



Sud	Nord
1 	1 
1SA	Passe





Donne 3	
	R V 5 2
	A 9 5 3
	D 2
	R 7 6



Sud	Nord
1 	1 
1SA	3SA

## Vous êtes en Nord, poursuivez la séquence ?

Donne 4	
	R V 5 2
	A 7 5 3
	8 4
	V 7 6

Sud	Nord
1 	1 
1SA	Passe

Donne 5	
	R V 5 2
	A 8 6 3
	4 2
	R 7 6

Sud	Nord
1 	1 
1SA	2SA

## Vous êtes en Sud, poursuivez la séquence ?

Donne 1	
	R 7 3
	D 3
	A V 9 4 2
	R 8 4

Sud	Nord
1	2
2SA	

Donne 2	
	R D 3
	A D 8
	A V 9 4
	R 8 4

Sud	Nord
1	2
3SA	

Donne 3	
	R 7 3 2
	D 9 6 3
	A V 2
	R 4

Sud	Nord
1	2
2SA	



# Vous êtes en Sud, poursuivez la séquence ?

Donne 4	
A D 8 7 2	
R 8 3	
D 3	
R V 4	

Sud	Nord
1	2
2SA	





Donne 5	
A D 8 7 2	
R 8 3	
9 3	
R V 4	

Sud	Nord
1	2
2	





Donne 6	
A D 8 7 2	
R V 3	
D 3	
A R 4	



Sud	Nord
1	2
3SA	





## Vous êtes en Sud, poursuivez la séquence ?



Donne 7	
	A D 8 7 2
	R 8 3
	D V 3
	9 8

Sud	Nord
1 	2 
2 	

Donne 8	
	A D 8 7 2
	R 8 3
	R V 7
	R 4

Sud	Nord
1 	2 
2SA	

Donne 9	
	A D 8 7 2
	R 3
	A D 3
	R 9 4

Sud	Nord
1 	2 
3SA	

## Vous êtes en Sud, poursuivez la séquence ?

Donne 10	
A D 8 7 2	
R 8 3	
R V 2	
R 9	

Sud	Nord
1	2
3	





Donne 11	
A D 8 7 2	
R 8	
R V 7	
R 8 2	



Sud	Nord
1	2
2SA	





Donne 12	
A D 8 7 2	
R 3	
A D V	
R 9 4	

Sud	Nord
1	2
3SA	





# Quelle est la seconde enchère de Sud après la séquence ? Justifiez.




Donne 1	
	A D
	D V 2
	R 10 8
	A D 9 7 4

Sud	Nord
1 	1 
2SA	





Donne 2	
	A V 8 5
	R D 2
	A D 7 4
	R 9

Sud	Nord
1 	1 
1 	





Donne 3	
	A V 8 5
	R D 2
	R 9
	A D 7 4

Sud	Nord
1 	1 
4 	





# Quelle est la seconde enchère de Sud après la séquence ? Justifiez.




Donne 1	
	R D 9 7 4
	A 8 2
	D 7 4
	V 5

Sud	Nord
1 	2 
2 	





Donne 2	
	R D 9 7
	A 8 2
	A R 7 4
	R 5



Sud	Nord
1 	1 
1 	





Donne 3	
	R 9 7
	A D 8 2
	R 5
	A R 7 4



Sud	Nord
1 	1 
4 	

**Quelle est la seconde enchère de Sud après la séquence ? Justifiez.**

Donne 4	
	D V 5
	A D V 9 2
	R V 8
	R 10

Sud	Nord
1 	2 
2SA	

Donne 5	
	R V 9
	A D 4
	R V 6
	A V 9 4

Sud	Nord
1 	1 
2SA	