

Cours Initiation




Leçon D23

La découverte d'un fit majeur sur ouverture mineure

Réponse avec des majeures 4^{ème} sur une ouverture mineure

Votre partenaire ouvre de 1  ou 1 

Que répondez-vous avec cette main ?








| Votre main | |
|---|---------|
|  | R D 6 3 |
|  | D 9 5 2 |
|  | A 4 |
|  | D 8 5 |

Si l'ouvreur a :




- *4 cartes à Cœur, le fit est trouvé*
- *4 cartes à Pique, il peut les annoncer sans devoir changer de palier*

Le répondant a toujours intérêt à annoncer la couleur de 4 cartes la plus économique

Réponse avec des majeures 4^{ème} sur une ouverture mineure




| | |
|---|----------|
|  | R D 6 3 |
|  | D 9 5 2 |
|  | A 4 |
|  | D 8 5 |
| | |
|  | A V 10 5 |
|  | R 3 |
|  | D 10 5 2 |
|  | R 10 4 |

La séquence d'enchères

- ✓ Sud ouvre de 1 
- ✓ Nord lui répond 1 
- ✓ La 2^{ème} enchères de Sud : 1 
- ✓ Le fit est trouvé, Nord peut soutenir à Pique

*A ce stade, Sud a promis 12 points H et exactement 4 cartes à Pique.
Nord va pouvoir soutenir l'ouvreur*

Les soutiens du répondant

| | |
|---|---|
| 1  | 1  |
| 1  | ? |




Attention : Le changement de couleur est forcing, vous devez reparler

Le fit est trouvé : La deuxième enchère du répondant.













































Vous répondez toujours au palier de sécurité

Votre partenaire vous a promis un minimum de 12 points H













































Le fit est trouvé, vous comptez votre force en points HLD

- 6 à 10 points HLD : 2  (plancher : $12+6 = 18$)
- 11 à 12 points HLD : 3  (plancher : $12+11 = 23$)
- 13 à 14 points HLD : 4  (plancher : $12+13 = 25$)

Exercice

| <p>La séquence d'enchère</p> | <table border="1"> <tr> <td>1 </td> <td>1 </td> </tr> <tr> <td>1 </td> <td>?</td> </tr> </table> | 1  | 1  | 1  | ? | <table border="1"> <tr> <td>1 </td> <td>1 </td> </tr> <tr> <td>1 </td> <td>?</td> </tr> </table> | 1  | 1  | 1  | ? | | | | | | | | | | | | |
|---|---|---|---|---|----------|---|---|---|---|---|-------|---|---------|--|---|---|---|----------|---|------------|---|-------|
| 1  | 1  | | | | | | | | | | | | | | | | | | | | | |
| 1  | ? | | | | | | | | | | | | | | | | | | | | | |
| 1  | 1  | | | | | | | | | | | | | | | | | | | | | |
| 1  | ? | | | | | | | | | | | | | | | | | | | | | |
| <p>Votre main</p> | <table border="1"> <thead> <tr> <th colspan="2">Donne 1</th> </tr> </thead> <tbody> <tr> <td></td> <td>V 10 6 3</td> </tr> <tr> <td></td> <td>D 10 6 4</td> </tr> <tr> <td></td> <td>A 4</td> </tr> <tr> <td></td> <td>9 8 5</td> </tr> </tbody> </table> | Donne 1 | |  | V 10 6 3 |  | D 10 6 4 |  | A 4 |  | 9 8 5 | <table border="1"> <thead> <tr> <th colspan="2">Donne 2</th> </tr> </thead> <tbody> <tr> <td></td> <td>3</td> </tr> <tr> <td></td> <td>D 10 6 4</td> </tr> <tr> <td></td> <td>A D 10 8 4</td> </tr> <tr> <td></td> <td>V 8 5</td> </tr> </tbody> </table> | Donne 2 | |  | 3 |  | D 10 6 4 |  | A D 10 8 4 |  | V 8 5 |
| Donne 1 | | | | | | | | | | | | | | | | | | | | | | |
|  | V 10 6 3 | | | | | | | | | | | | | | | | | | | | | |
|  | D 10 6 4 | | | | | | | | | | | | | | | | | | | | | |
|  | A 4 | | | | | | | | | | | | | | | | | | | | | |
|  | 9 8 5 | | | | | | | | | | | | | | | | | | | | | |
| Donne 2 | | | | | | | | | | | | | | | | | | | | | | |
|  | 3 | | | | | | | | | | | | | | | | | | | | | |
|  | D 10 6 4 | | | | | | | | | | | | | | | | | | | | | |
|  | A D 10 8 4 | | | | | | | | | | | | | | | | | | | | | |
|  | V 8 5 | | | | | | | | | | | | | | | | | | | | | |
| <p>Votre force en points HLD</p> | <p>8HLD</p> | <p>12HLD</p> | | | | | | | | | | | | | | | | | | | | |
| <p><i>Quelle est votre enchère ?</i></p> | <p>2 </p> | <p>3 </p> | | | | | | | | | | | | | | | | | | | | |

Exercice

| | | | | | | | | | | | | | | | | | | | | | | |
|---|--|---|---|---|----------|---|---|---|---|---|-------|---|---------|--|---|----------|---|---------|---|----------|---|---|
| <p>La séquence d'enchère</p> | <table border="1"> <tr> <td>1 </td> <td>1 </td> </tr> <tr> <td>1 </td> <td>?</td> </tr> </table> | 1  | 1  | 1  | ? | <table border="1"> <tr> <td>1 </td> <td>1 </td> </tr> <tr> <td>1 </td> <td>?</td> </tr> </table> | 1  | 1  | 1  | ? | | | | | | | | | | | | |
| 1  | 1  | | | | | | | | | | | | | | | | | | | | | |
| 1  | ? | | | | | | | | | | | | | | | | | | | | | |
| 1  | 1  | | | | | | | | | | | | | | | | | | | | | |
| 1  | ? | | | | | | | | | | | | | | | | | | | | | |
| <p>Votre main</p> | <table border="1"> <tr> <td colspan="2">Donne 3</td> </tr> <tr> <td></td> <td>A V 10 3</td> </tr> <tr> <td></td> <td>A D 6 2</td> </tr> <tr> <td></td> <td>D 4</td> </tr> <tr> <td></td> <td>7 5 2</td> </tr> </table> | Donne 3 | |  | A V 10 3 |  | A D 6 2 |  | D 4 |  | 7 5 2 | <table border="1"> <tr> <td colspan="2">Donne 4</td> </tr> <tr> <td></td> <td>D 10 8 3</td> </tr> <tr> <td></td> <td>R D 5 2</td> </tr> <tr> <td></td> <td>D V 10 3</td> </tr> <tr> <td></td> <td>3</td> </tr> </table> | Donne 4 | |  | D 10 8 3 |  | R D 5 2 |  | D V 10 3 |  | 3 |
| Donne 3 | | | | | | | | | | | | | | | | | | | | | | |
|  | A V 10 3 | | | | | | | | | | | | | | | | | | | | | |
|  | A D 6 2 | | | | | | | | | | | | | | | | | | | | | |
|  | D 4 | | | | | | | | | | | | | | | | | | | | | |
|  | 7 5 2 | | | | | | | | | | | | | | | | | | | | | |
| Donne 4 | | | | | | | | | | | | | | | | | | | | | | |
|  | D 10 8 3 | | | | | | | | | | | | | | | | | | | | | |
|  | R D 5 2 | | | | | | | | | | | | | | | | | | | | | |
|  | D V 10 3 | | | | | | | | | | | | | | | | | | | | | |
|  | 3 | | | | | | | | | | | | | | | | | | | | | |
| <p>Votre force en points HLD</p> | <p>14HLD</p> | <p>12HLD</p> | | | | | | | | | | | | | | | | | | | | |
| <p><i>Quelle est votre enchère ?</i></p> | <p>4 </p> | <p>3 </p> | | | | | | | | | | | | | | | | | | | | |

Attitude de l'ouvreur après un soutien simple du répondant




**Votre partenaire a soutenu votre deuxième couleur sans saut.
Il a de 6 à 10 points HLD**

**Vous évaluer votre main en points HLD
Vous en déduisez**

- la force minimale de votre camp
- La force maximale de votre camp

Vous savez dans quelle zone vous êtes et pouvez faire une 3^{ème} enchère (partielle, manche, chelem)

Exercice

| La séquence d'enchère | <table border="1"> <tbody> <tr> <td>1 </td> <td>1 </td> </tr> <tr> <td>1 </td> <td>2 </td> </tr> <tr> <td>PASSE</td> <td></td> </tr> </tbody> </table> | 1  | 1  | 1  | 2  | PASSE | | <table border="1"> <tbody> <tr> <td>1 </td> <td>1 </td> </tr> <tr> <td>1 </td> <td>2 </td> </tr> <tr> <td>4 </td> <td></td> </tr> </tbody> </table> | 1  | 1  | 1  | 2  | 4  | | | | | | | | | |
|--|---|---|---|---|---|---|-----|---|---|---|---|---|--|--|---|---------|---|-------|---|-----|---|---------|
| 1  | 1  | | | | | | | | | | | | | | | | | | | | | |
| 1  | 2  | | | | | | | | | | | | | | | | | | | | | |
| PASSE | | | | | | | | | | | | | | | | | | | | | | |
| 1  | 1  | | | | | | | | | | | | | | | | | | | | | |
| 1  | 2  | | | | | | | | | | | | | | | | | | | | | |
| 4  | | | | | | | | | | | | | | | | | | | | | | |
| La main de Sud Quelle est sa 3^{ème} enchère ? | <table border="1"> <thead> <tr> <th colspan="2">Donne 3</th> </tr> </thead> <tbody> <tr> <td></td> <td>A V 6 3</td> </tr> <tr> <td></td> <td>7 2</td> </tr> <tr> <td></td> <td>A 4</td> </tr> <tr> <td></td> <td>R V 9 8 5</td> </tr> </tbody> </table> | Donne 3 | |  | A V 6 3 |  | 7 2 |  | A 4 |  | R V 9 8 5 | <table border="1"> <thead> <tr> <th colspan="2">Donne 4</th> </tr> </thead> <tbody> <tr> <td></td> <td>A R 9 6</td> </tr> <tr> <td></td> <td>A V 2</td> </tr> <tr> <td></td> <td>A 4</td> </tr> <tr> <td></td> <td>D V 9 8</td> </tr> </tbody> </table> | Donne 4 | |  | A R 9 6 |  | A V 2 |  | A 4 |  | D V 9 8 |
| Donne 3 | | | | | | | | | | | | | | | | | | | | | | |
|  | A V 6 3 | | | | | | | | | | | | | | | | | | | | | |
|  | 7 2 | | | | | | | | | | | | | | | | | | | | | |
|  | A 4 | | | | | | | | | | | | | | | | | | | | | |
|  | R V 9 8 5 | | | | | | | | | | | | | | | | | | | | | |
| Donne 4 | | | | | | | | | | | | | | | | | | | | | | |
|  | A R 9 6 | | | | | | | | | | | | | | | | | | | | | |
|  | A V 2 | | | | | | | | | | | | | | | | | | | | | |
|  | A 4 | | | | | | | | | | | | | | | | | | | | | |
|  | D V 9 8 | | | | | | | | | | | | | | | | | | | | | |
| Plancher du camp ? | 22 HLD | 26 HLD | | | | | | | | | | | | | | | | | | | | |
| Plafond du camp ? | 26 HLD | 30 HLD | | | | | | | | | | | | | | | | | | | | |

Exercice

| | | | | | | | | | | | | | | | | | | |
|---|---|---|---|---|---|---|-----------|---|-------|---|---|--|---|--|---|--|---|--|
| <p>La séquence d'enchère</p> | <table border="1"> <tr> <td>1 </td> <td>1 </td> </tr> <tr> <td>1 </td> <td>2 </td> </tr> <tr> <td>3 </td> <td></td> </tr> </table> | 1  | 1  | 1  | 2  | 3  | | <p><i>: Enchère de proposition</i></p> | | | | | | | | | | |
| 1  | 1  | | | | | | | | | | | | | | | | | |
| 1  | 2  | | | | | | | | | | | | | | | | | |
| 3  | | | | | | | | | | | | | | | | | | |
| <p>La main de Sud</p> <p><i>Quelle est sa 3^{ème} enchère ?</i></p> | <p>Donne 3</p> <table border="1"> <tr> <td></td> <td>A 10 9 6</td> </tr> <tr> <td></td> <td>2</td> </tr> <tr> <td></td> <td>A D 9 5 4</td> </tr> <tr> <td></td> <td>R D 8</td> </tr> </table> |  | A 10 9 6 |  | 2 |  | A D 9 5 4 |  | R D 8 | <table border="1"> <tr> <td></td> <td></td> </tr> <tr> <td></td> <td></td> </tr> <tr> <td></td> <td></td> </tr> <tr> <td></td> <td></td> </tr> </table> |  | |  | |  | |  | |
|  | A 10 9 6 | | | | | | | | | | | | | | | | | |
|  | 2 | | | | | | | | | | | | | | | | | |
|  | A D 9 5 4 | | | | | | | | | | | | | | | | | |
|  | R D 8 | | | | | | | | | | | | | | | | | |
|  | | | | | | | | | | | | | | | | | | |
|  | | | | | | | | | | | | | | | | | | |
|  | | | | | | | | | | | | | | | | | | |
|  | | | | | | | | | | | | | | | | | | |
| <p>Plancher du camp ?</p> | <p>24 HLD</p> | | | | | | | | | | | | | | | | | |
| <p>Plafond du camp ?</p> | <p>28 HLD</p> | | | | | | | | | | | | | | | | | |

Attitude de l'ouvreur après un soutien simple du répondant

**Après un soutien simple du répondant,
l'enchère propositionnelle au niveau de 3
montre 17 à 19 points HLD**

**Si le répondant est minimum (6-8 points HLD), il
passe**

**Si le répondant est maximum (9-10 points HLD),
il déclare la manche**

Attitude de l'ouvreur après un soutien à saut du répondant

Votre partenaire a soutenu votre deuxième couleur avec un simple saut.

Il a 11 à 12 points HLD













Vous évaluer votre main en points HLD

Vous en déduisez

























- la force minimale de votre camp
- La force maximale de votre camp

Vous savez dans quelle zone vous êtes et pouvez faire une 3^{ème} enchère (partielle, manche, chelem)

Exercice

| | | | | | | | | | | | | | | | | | | | | | | |
|--|---|---|---|---|---|---|-------|--|---|---|---|---|--|--|---|---------|---|-------|---|---|---|-----------|
| La séquence d'enchère | <table border="1"> <tr> <td>1 </td> <td>1 </td> </tr> <tr> <td>1 </td> <td>3 </td> </tr> <tr> <td>PASSE</td> <td></td> </tr> </table> | 1  | 1  | 1  | 3  | PASSE | | <table border="1"> <tr> <td>1 </td> <td>1 </td> </tr> <tr> <td>1 </td> <td>3 </td> </tr> <tr> <td>4 </td> <td></td> </tr> </table> | 1  | 1  | 1  | 3  | 4  | | | | | | | | | |
| 1  | 1  | | | | | | | | | | | | | | | | | | | | | |
| 1  | 3  | | | | | | | | | | | | | | | | | | | | | |
| PASSE | | | | | | | | | | | | | | | | | | | | | | |
| 1  | 1  | | | | | | | | | | | | | | | | | | | | | |
| 1  | 3  | | | | | | | | | | | | | | | | | | | | | |
| 4  | | | | | | | | | | | | | | | | | | | | | | |
| La main de Sud <i>Quelle est sa 3^{ème} enchère ?</i> | <table border="1"> <tr> <td colspan="2">Donne 3</td> </tr> <tr> <td></td> <td>R D 9 6</td> </tr> <tr> <td></td> <td>V 8 3</td> </tr> <tr> <td></td> <td>A R 7 4</td> </tr> <tr> <td></td> <td>7 5</td> </tr> </table> | Donne 3 | |  | R D 9 6 |  | V 8 3 |  | A R 7 4 |  | 7 5 | <table border="1"> <tr> <td colspan="2">Donne 4</td> </tr> <tr> <td></td> <td>R V 9 6</td> </tr> <tr> <td></td> <td>D 9 5</td> </tr> <tr> <td></td> <td>4</td> </tr> <tr> <td></td> <td>A D V 7 5</td> </tr> </table> | Donne 4 | |  | R V 9 6 |  | D 9 5 |  | 4 |  | A D V 7 5 |
| Donne 3 | | | | | | | | | | | | | | | | | | | | | | |
|  | R D 9 6 | | | | | | | | | | | | | | | | | | | | | |
|  | V 8 3 | | | | | | | | | | | | | | | | | | | | | |
|  | A R 7 4 | | | | | | | | | | | | | | | | | | | | | |
|  | 7 5 | | | | | | | | | | | | | | | | | | | | | |
| Donne 4 | | | | | | | | | | | | | | | | | | | | | | |
|  | R V 9 6 | | | | | | | | | | | | | | | | | | | | | |
|  | D 9 5 | | | | | | | | | | | | | | | | | | | | | |
|  | 4 | | | | | | | | | | | | | | | | | | | | | |
|  | A D V 7 5 | | | | | | | | | | | | | | | | | | | | | |
| Plancher du camp ? | 25 HLD | 27 HLD | | | | | | | | | | | | | | | | | | | | |
| Plafond du camp ? | 26 HLD | 28 HLD | | | | | | | | | | | | | | | | | | | | |

Exercice

| | | | | | | | | | | | | | | | | | | | | |
|---|---|---|---|---|---|---|----------|---|-----|---|----------|---|---|--|---|--|---|--|---|--|
| <p>La séquence d'enchère</p> | <table border="1"> <tr> <td>1 </td> <td>1 </td> </tr> <tr> <td>1 </td> <td>3 </td> </tr> <tr> <td>4 </td> <td></td> </tr> </table> | 1  | 1  | 1  | 3  | 4  | | | | | | | | | | | | | | |
| 1  | 1  | | | | | | | | | | | | | | | | | | | |
| 1  | 3  | | | | | | | | | | | | | | | | | | | |
| 4  | | | | | | | | | | | | | | | | | | | | |
| <p>La main de Sud</p> <p><i>Quelle est sa 3^{ème} enchère ?</i></p> | <table border="1"> <tr> <td colspan="2">Donne 3</td> </tr> <tr> <td></td> <td>A V 9</td> </tr> <tr> <td></td> <td>A 10 5 2</td> </tr> <tr> <td></td> <td>A 4</td> </tr> <tr> <td></td> <td>V 10 5 3</td> </tr> </table> | Donne 3 | |  | A V 9 |  | A 10 5 2 |  | A 4 |  | V 10 5 3 | <table border="1"> <tr> <td></td> <td></td> </tr> <tr> <td></td> <td></td> </tr> <tr> <td></td> <td></td> </tr> <tr> <td></td> <td></td> </tr> </table> |  | |  | |  | |  | |
| Donne 3 | | | | | | | | | | | | | | | | | | | | |
|  | A V 9 | | | | | | | | | | | | | | | | | | | |
|  | A 10 5 2 | | | | | | | | | | | | | | | | | | | |
|  | A 4 | | | | | | | | | | | | | | | | | | | |
|  | V 10 5 3 | | | | | | | | | | | | | | | | | | | |
|  | | | | | | | | | | | | | | | | | | | | |
|  | | | | | | | | | | | | | | | | | | | | |
|  | | | | | | | | | | | | | | | | | | | | |
|  | | | | | | | | | | | | | | | | | | | | |
| <p>Plancher du camp ?</p> | <p>26 HLD</p> | <p><i>Pas d'enchère de proposition possible</i></p> | | | | | | | | | | | | | | | | | | |
| <p>Plafond du camp ?</p> | <p>27 HLD</p> | | | | | | | | | | | | | | | | | | | |

Attitude de l'ouvreur après un soutien à double saut du répondant

Votre partenaire a soutenu votre deuxième couleur avec un double saut.

Il a 13 à 14 points HLD

Vous évaluer votre main en points HLD

Vous en déduisez








































- la force minimale de votre camp
- La force maximale de votre camp

Vous savez dans quelle zone vous êtes et pouvez faire une 3^{ème} enchère (partielle, manche, chelem)

Exercice

| | | | | | | | | | | | | | | | | | | | | | | |
|---|---|---|---|---|---|---|-----|---|---|---|---|---|---------|--|---|---------|---|-------|---|-----|---|---------|
| La séquence d'enchère | <table border="1"> <tr> <td>1 </td> <td>1 </td> </tr> <tr> <td>1 </td> <td>4 </td> </tr> <tr> <td>6 </td> <td></td> </tr> </table> | 1  | 1  | 1  | 4  | 6  | | <table border="1"> <tr> <td>1 </td> <td>1 </td> </tr> <tr> <td>1 </td> <td>4 </td> </tr> <tr> <td>PASSE</td> <td></td> </tr> </table> | 1  | 1  | 1  | 4  | PASSE | | | | | | | | | |
| 1  | 1  | | | | | | | | | | | | | | | | | | | | | |
| 1  | 4  | | | | | | | | | | | | | | | | | | | | | |
| 6  | | | | | | | | | | | | | | | | | | | | | | |
| 1  | 1  | | | | | | | | | | | | | | | | | | | | | |
| 1  | 4  | | | | | | | | | | | | | | | | | | | | | |
| PASSE | | | | | | | | | | | | | | | | | | | | | | |
| La main de Sud <i>Quelle est sa 3^{ème} enchère ?</i> | <table border="1"> <tr> <td colspan="2">Donne 1</td> </tr> <tr> <td></td> <td>A R 6 3</td> </tr> <tr> <td></td> <td>R 3</td> </tr> <tr> <td></td> <td>A V 7 5</td> </tr> <tr> <td></td> <td>A 9 6</td> </tr> </table> | Donne 1 | |  | A R 6 3 |  | R 3 |  | A V 7 5 |  | A 9 6 | <table border="1"> <tr> <td colspan="2">Donne 4</td> </tr> <tr> <td></td> <td>R D 9 6</td> </tr> <tr> <td></td> <td>R 8 3</td> </tr> <tr> <td></td> <td>8 5</td> </tr> <tr> <td></td> <td>A V 6 3</td> </tr> </table> | Donne 4 | |  | R D 9 6 |  | R 8 3 |  | 8 5 |  | A V 6 3 |
| Donne 1 | | | | | | | | | | | | | | | | | | | | | | |
|  | A R 6 3 | | | | | | | | | | | | | | | | | | | | | |
|  | R 3 | | | | | | | | | | | | | | | | | | | | | |
|  | A V 7 5 | | | | | | | | | | | | | | | | | | | | | |
|  | A 9 6 | | | | | | | | | | | | | | | | | | | | | |
| Donne 4 | | | | | | | | | | | | | | | | | | | | | | |
|  | R D 9 6 | | | | | | | | | | | | | | | | | | | | | |
|  | R 8 3 | | | | | | | | | | | | | | | | | | | | | |
|  | 8 5 | | | | | | | | | | | | | | | | | | | | | |
|  | A V 6 3 | | | | | | | | | | | | | | | | | | | | | |
| Plancher du camp ? | 33 HLD | 27 HLD | | | | | | | | | | | | | | | | | | | | |
| Plafond du camp ? | 34 HLD | 28 HLD | | | | | | | | | | | | | | | | | | | | |

Exercice

| | | | | | | | | | | | | | | | | | | | | |
|---|---|---|---|---|---|---|---------|---|-------|---|-----------|---|---|--|---|--|---|--|---|--|
| <p>La séquence d'enchère</p> | <table border="1"> <tr> <td>1 </td> <td>1 </td> </tr> <tr> <td>1 </td> <td>4 </td> </tr> <tr> <td>5 </td> <td></td> </tr> </table> | 1  | 1  | 1  | 4  | 5  | | | | | | | | | | | | | | |
| 1  | 1  | | | | | | | | | | | | | | | | | | | |
| 1  | 4  | | | | | | | | | | | | | | | | | | | |
| 5  | | | | | | | | | | | | | | | | | | | | |
| <p>La main de Sud</p> <p><i>Quelle est sa 3^{ème} enchère ?</i></p> | <table border="1"> <tr> <td colspan="2">Donne 3</td> </tr> <tr> <td></td> <td>2</td> </tr> <tr> <td></td> <td>A R 8 4</td> </tr> <tr> <td></td> <td>A 6 3</td> </tr> <tr> <td></td> <td>R D 6 4 2</td> </tr> </table> | Donne 3 | |  | 2 |  | A R 8 4 |  | A 6 3 |  | R D 6 4 2 | <table border="1"> <tr> <td></td> <td></td> </tr> <tr> <td></td> <td></td> </tr> <tr> <td></td> <td></td> </tr> <tr> <td></td> <td></td> </tr> </table> |  | |  | |  | |  | |
| Donne 3 | | | | | | | | | | | | | | | | | | | | |
|  | 2 | | | | | | | | | | | | | | | | | | | |
|  | A R 8 4 | | | | | | | | | | | | | | | | | | | |
|  | A 6 3 | | | | | | | | | | | | | | | | | | | |
|  | R D 6 4 2 | | | | | | | | | | | | | | | | | | | |
|  | | | | | | | | | | | | | | | | | | | | |
|  | | | | | | | | | | | | | | | | | | | | |
|  | | | | | | | | | | | | | | | | | | | | |
|  | | | | | | | | | | | | | | | | | | | | |
| <p>Plancher du camp ?</p> | <p>32 HLD</p> | <p><i>Enchère de proposition</i></p> | | | | | | | | | | | | | | | | | | |
| <p>Plafond du camp ?</p> | <p>33 HLD</p> | | | | | | | | | | | | | | | | | | | |

DONNE 1

Vulnérabilité : Pers.

Donneur : Sud – Celui qui a le 3 de Cœur

♠ R D 6 4

♥ A 7 5 2

♦ 10 7 2


♣ 8 6

♠ V 9 2

♥ 10 4

♦ A R D 8

♣ 7 5 4 3



♠ 10 3

♥ R D V 9

♦ 6 5 4 3

♣ R 10 2

♠ A 8 7 5

♥ 8 6 3

♦ V 9

♣ A D V 9

| Sud | Ouest | Nord | Est |
|-----|-------|------|-------|
| 1♣ | passé | 1♥ | passé |
| 1♠ | passé | 2♠ | Fin |

Entame : As de Carreau

Entame : Tête de séquence

Ouest fait les 2 premières levées. Est ayant indiqué la parité et Sud coupe la 3ème

Plan de jeu du déclarant :

Sud récence 6 levées. P: 3, C: 1, T:1 et la coupe Carreau

Il peut espérer 3 levées à Trèfle par l'impasse au Roi qu'il devra faire deux fois. Mais il lui faudra des communications pour remonter deux fois au Mort. Il peut les trouver par les atouts.

DONNE 2

Vulnérabilité : N/S Donneur : Sud – Celui qui a le 2 de Carreau

♠ 9 8 7 5

♥ R V 10 2

♦ V 9


♣ A R 4

♠ V 2

♥ 9 6 4

♦ A 8 7 4

♣ D V 10 7



♠ 10 6 4

♥ A 8 5 3

♦ R 6 3

♣ 9 3 2

♠ A R D 3

♥ D 7

♦ D 10 5 2

♣ 8 6 5

| Sud | Ouest | Nord | Est |
|-----|-------|------|-------|
| 1♦ | passé | 1♥ | passé |
| 1♠ | passé | 4♠ | Fin |

Entame : Dame de Trèfle, tête de séquence pris par le Roi du Mort

Plan de jeu du déclarant :

Sud récence 5 levées (3P, 0C, 0K, 2T)

Il peut espérer 3 levées à Cœur par l'affranchissement des honneurs.

Jeu de la carte :

Il purge les atouts et joue la Dame de Cœur.

Il efface un Trèfle perdant sur le 4^{ème} tour de Cœur

Il coupera une levée à Carreau.

Entame : Dame de Trèfle

♠ R V 5 2

♥ R 10 7 3

♦ 5 4


♣ R D 6

♠ 9

♥ 6 4 2

♦ V 9 7 6 3

♣ V 10 9 2



♠ 10 7 6 3

♥ 9 8 5

♦ R 10 8

♣ A 7 4

♠ A D 8 4

♥ A D V

♦ A D 2

♣ 8 5 3

| Sud | Ouest | Nord | Est |
|-----|-------|------|-------|
| 1♣ | passé | 1♥ | passé |
| 1♠ | passé | 4♠ | passé |
| 6♠ | Fin | | |

Entame : Valet de Trèfle, tête de séquence

Plan de jeu du déclarant :

Sud récence 11 levées (4P,4C,2K,1T).

Il peut espérer 1 levée de coupe à Carreau

Jeu de la carte :

Est prend l'entame et contre-attaque Carreau pris par Sud réalisant l'impasse au Roi.

Il fait 2 tours d'atout et constate la répartition 4-1.

L'urgence est de couper un Carreau du mort : As de Carreau puis petit coupé. Il ne reste plus qu'à capturer les atouts restant et défausser un Trèfle perdant sur les Cœurs.

Entame : Valet de Trèfle

DONNE 4

Vulnérabilité : Tous

Donneur : Sud – Celui qui a le 3 de Carreau

♠ R 10 5 3

♥ 8 6

♦ A R 5 2


♣ 8 6 4

♠ V 9 6 4

♥ R D 10 3

♦ D V 9

♣ 3 2



♠ 8

♥ A 7 5 4 2

♦ 10 8 6

♣ R 9 7 5

♠ A D 7 2

♥ V 9

♦ 7 4 3

♣ A D V 10

| Sud | Ouest | Nord | Est |
|-----|-------|------|-------|
| 1♣ | passé | 1♦ | passé |
| 1♠ | passé | 3♠ | passé |
| 4♠ | Fin | | |

Entame : Roi, tête de séquence

La défense encaisse les deux premiers plis à Cœur puis contre-attaque à Carreau.

Plan de jeu du déclarant :

Sud récence 6 levées (3P,0C,2K,1T).

Il peut espérer 2 levées à Trèfle ou 3 en cas de réussite de l'impasse au Roi, une coupe à Carreau et une levée d'atout s'ils sont répartis 3-2

Jeu de la carte :

Sud attaque atout par As Dame pour garder la fourchette R 10 du mort et se préserver d'une éventuelle répartition 4-1

Entame : Roi de Cœur

Cours Initiation

Leçon 23

La découverte d'un fit majeur sur ouverture mineure

Exercices pour la maison

Quelle est votre ouverture avec les jeux suivants ?

♠ D 6 4 2
♥ R V 9
♦ A 9 5 2
♣ A 7

♠ A R 8 5
♥ 9 6 2
♦ R D 8
♣ V 6 3

♠ A 9 8 5
♥ 5
♦ R D 8 5
♣ A 9 6 3

Exercice

♠ A V 6 5
♥ 8 5
♦ A 7 4
♣ R V 9 5

Votre partenaire vous répond 1♥, quelles seront vos redemandes ?

Votre partenaire a ouvert en mineure, vous avez répondu 1♥ et sa deuxième enchère est 1♠. Quelles sont vos redemandes ?

Exercice

♠ A 8 4 2
♥ R V 8 5
♦ 7 5
♣ 9 6 5

♠ R 9 8 5
♥ D 10 8 7 5
♦ 8 4
♣ A 2

♠ R D 10 8
♥ A 9 7 5
♦ R 8 7 6
♣ 2

♠ A V 8 5
♥ R D 7 5
♦ 6
♣ 10 8 5 4

Les débuts de séquence d'enchères :

| | |
|----|----|
| 1♣ | 1♥ |
| 1♠ | ? |

| | |
|----|----|
| 1♦ | 1♥ |
| 1♠ | ? |

| | |
|----|----|
| 1♦ | 1♥ |
| 1♠ | ? |

| | |
|----|----|
| 1♣ | 1♥ |
| 1♠ | ? |

*Après les débuts de séquence
d'enchères suivantes, quelles sont les
forces combinées de votre camp ?
Quelles sont vos 3^{ème} enchères ?*

Exercice

♠ A V 4 2
♥ D 4
♦ 9 6 2
♣ A D 9 8

♠ A R 5 4
♥ R 8 6
♦ R D 10 6
♣ A 5

♠ A D 4 3
♥ 5
♦ R V 3
♣ A V 9 8 2

Les débuts de séquence d'enchères :

| | |
|----|----|
| 1♣ | 1♥ |
| 1♠ | 2♠ |
| ? | |

Plancher =
Plafond =

| | |
|----|----|
| 1♦ | 1♥ |
| 1♠ | 2♠ |
| ? | |

Plancher =
Plafond =

| | |
|----|----|
| 1♣ | 1♥ |
| 1♠ | 2♠ |
| ? | |

Plancher =
Plafond =

**Après les débuts de séquence
d'enchères suivantes, quelles sont les
forces combinées de votre camp ?
Quelles sont vos 3^{ème} enchères ?**

Exercice

♠ A D 4 2
♥ V 7 4
♦ 9 6 2
♣ A D 9

♠ A D 4 2
♥ D 8 4
♦ A D 9 6 2
♣ A 4

♠ A V 7 2
♥ A 8 7
♦ V 10 6 2
♣ A 4

Les débuts de séquence d'enchères :

| | |
|----|----|
| 1♣ | 1♥ |
| 1♠ | 3♠ |
| ? | |

Plancher =
Plafond =

| | |
|----|----|
| 1♦ | 1♥ |
| 1♠ | 3♠ |
| ? | |

Plancher =
Plafond =

| | |
|----|----|
| 1♦ | 1♥ |
| 1♠ | 3♠ |
| ? | |

Plancher =
Plafond =

**Après les débuts de séquence
d'enchères suivantes, quelles sont les
forces combinées de votre camp ?
Quelles sont vos 3^{ème} enchères ?**

Exercice

♠ A V 8 2
♥ V 7 4
♦ R D 7
♣ R 7 5

♠ A R D 5
♥ V 8 4
♦ R 2
♣ A D 9 5

♠ A 9 7 2
♥ 7
♦ A R 8 6 2
♣ R D 8

Les débuts de séquence d'enchères :

| | |
|----|----|
| 1♣ | 1♥ |
| 1♠ | 4♠ |
| ? | |

**Plancher =
Plafond =**

| | |
|----|----|
| 1♣ | 1♥ |
| 1♠ | 4♠ |
| ? | |

**Plancher =
Plafond =**

| | |
|----|----|
| 1♦ | 1♥ |
| 1♠ | 4♠ |
| ? | |

**Plancher =
Plafond =**

Quelle est votre ouverture avec les jeux suivants ?

Exercice

♠ D 6 4 2
♥ R V 9
♦ A 9 5 2
♣ A 7

14 HL
4 cartes à
Carreau
1♦

♠ A R 8 5
♥ 9 6 2
♦ R D 8
♣ V 6 3

13 HL
3 cartes à
Trèfle
1♣

♠ A 9 8 5
♥ 5
♦ R D 8 5
♣ A 9 6 3

13 HL
4 cartes à
Carreau
1♦

♠ A V 6 5
♥ 8 5
♦ A 7 4
♣ R V 9 5

13 HL
3 cartes à
Trèfle
1♣

Votre partenaire vous répond 1, quelles seront vos redemandes ?

Pas fit Cœur
4 cartes à
Pique
1♠

Pas fit Cœur
4 cartes à
Pique
1♠

Pas fit Cœur
4 cartes à
Pique
1♠

Pas fit Cœur
4 cartes à
Pique
1♠

Votre partenaire a ouvert en mineure, vous avez répondu 1♥ et sa deuxième enchère est 1♠. Quelles sont vos redemandes ?

Exercice

♠ A 8 4 2
♥ R V 8 5
♦ 7 5
♣ 9 6 5

♠ R 9 8 5
♥ D 10 8 7 5
♦ 8 4
♣ A 2

♠ R D 10 8
♥ A 9 7 5
♦ R 8 7 6
♣ 2

♠ A V 8 5
♥ R D 7 5
♦ 6
♣ 10 8 5 4

Les débuts de séquence d'enchères :

| | |
|----|----|
| 1♣ | 1♥ |
| 1♠ | 2♠ |

**Fit Pique
9 HLD**

| | |
|----|----|
| 1♦ | 1♥ |
| 1♠ | 3♠ |

**Fit Pique
12 HLD**

| | |
|----|----|
| 1♦ | 1♥ |
| 1♠ | 4♠ |

**Fit Pique
14 HLD**

| | |
|----|----|
| 1♣ | 1♥ |
| 1♠ | 3♠ |

**Fit Pique
13 HL**

*Après les débuts de séquence
d'enchères suivantes, quelles sont les
forces combinées de votre camp ?
Quelles sont vos 3^{ème} enchères ?*

Exercice

♠ A V 4 2
♥ D 4
♦ 9 6 2
♣ A D 9 8

♠ A R 5 4
♥ R 8 6
♦ R D 10 6
♣ A 5

♠ A D 4 3
♥ 5
♦ R V 3
♣ A V 9 8 2

Les débuts de séquence d'enchères :

| | |
|-------|----|
| 1♣ | 1♥ |
| 1♠ | 2♠ |
| Passe | |

Plancher = 20 HLD
Plafond = 24 HLD

| | |
|----|----|
| 1♦ | 1♥ |
| 1♠ | 2♠ |
| 4♠ | |

Plancher = 26 HLD
Plafond = 30 HLD

| | |
|----|----|
| 1♣ | 1♥ |
| 1♠ | 2♠ |
| 3♠ | |

Plancher = 24 HLD
Plafond = 28 HLD

**Après les débuts de séquence
d'enchères suivantes, quelles sont les
forces combinées de votre camp ?
Quelles sont vos 3^{ème} enchères ?**

Exercice

| | |
|---|---------|
| ♠ | A D 4 2 |
| ♥ | V 7 4 |
| ♦ | 9 6 2 |
| ♣ | A D 9 |

| | |
|---|-----------|
| ♠ | A D 4 2 |
| ♥ | D 8 4 |
| ♦ | A D 9 6 2 |
| ♣ | A 4 |

| | |
|---|----------|
| ♠ | A V 7 2 |
| ♥ | A 8 7 |
| ♦ | V 10 6 2 |
| ♣ | A 4 |

Les débuts de séquence d'enchères :

| | |
|--------------|----|
| 1♣ | 1♥ |
| 1♠ | 3♠ |
| Passé | |

**Plancher = 24 HLD
Plafond = 25 HLD**

| | |
|----|----|
| 1♦ | 1♥ |
| 1♠ | 3♠ |
| 4♠ | |

**Plancher = 28 HLD
Plafond = 29 HLD**

| | |
|----|----|
| 1♦ | 1♥ |
| 1♠ | 3♠ |
| 4♠ | |

**Plancher = 26 HLD
Plafond = 27 HLD**

*Après les débuts de séquence
d'enchères suivantes, quelles sont les
forces combinées de votre camp ?
Quelles sont vos 3^{ème} enchères ?*

Exercice

♠ A V 8 2
♥ V 7 4
♦ R D 7
♣ R 7 5

♠ A R D 5
♥ V 8 4
♦ R 2
♣ A D 9 5

♠ A 9 7 2
♥ 7
♦ A R 8 6 2
♣ R D 8

Les débuts de séquence d'enchères :

| | |
|-------|----|
| 1♣ | 1♥ |
| 1♠ | 4♠ |
| Passe | |

Plancher = 27 HLD
Plafond = 28 HLD

| | |
|----|----|
| 1♣ | 1♥ |
| 1♠ | 4♠ |
| 6♠ | |

Plancher = 33 HLD
Plafond = 34 HLD

| | |
|----|----|
| 1♦ | 1♥ |
| 1♠ | 4♠ |
| 5♠ | |

Plancher = 32 HLD
Plafond = 33 HLD