

Cours Initiation

Leçon 19

Ouverture en mineure

Ouvertures précises et ouvertures ambiguës

Ouvertures précises : dès la première enchère, votre partenaire connaît :

- ✓ votre force à 1 ou 2 points près
- ✓ le type de votre distribution

Quelles enchères précises connaissez vous ?

Ouverture	Force	Type de distribution
1SA	15 - 17 H	Régulière
2SA	20 - 21 H	Régulière

Ouvertures précises et ouvertures ambiguës

Ouvertures ambiguës : à la première enchère, votre partenaire :

- ✓ a une idée vague de votre force : de 12 à 22 points H
- ✓ Ne sait rien ou a une vague idée de votre distribution

L'ouverture en mineure est la plus imprécise. L'ouverture en majeure vous garantit au moins 5 cartes dans la couleur

Ouverture	Force	Type de distribution
1♣ / 1♦	12 - 22 H	Pas de majeure, au moins 3 cartes dans la couleur
1♥ / 1♠	13 - 22 HL	Au moins 5 cartes dans la couleur

Ouvertures précises et ouvertures ambiguës

Ouvertures ambiguës : à la première enchère, votre partenaire :

- ✓ a une idée vague de votre force : de 12 à 22 points H
- ✓ Et ne sait rien de votre distribution

Une remarque :

- L'ouverture de 1♣ : garantit 3 cartes à trèfle et nie 4 cartes à carreau
- L'ouverture de 1♦ ne garantit pas 4 cartes mais la probabilité que l'ouvreur ait 4 cartes est forte (96%)

Le seul cas où l'ouvreur annonce 1♦ avec 3 cartes est la répartition 4 cartes à pique, 4 à cœur, 3 à carreau et 2 à trèfle

Objectifs à partir d'une ouverture en mineure

Rappel de la priorité dans le choix des contrats :

1. en majeure dès qu'un fit est identifié
2. à sans-atout
3. en mineure

Exemple : Votre partenaire a ouvert de 1♦ , vous êtes répondant avec cette main.

♠ D 10 5 2

♥ 10 7 6

♦ R 10 4 2

♣ V 9

Pouvez-vous passer ?

Vous avez 6 points H, votre partenaire pourrait en avoir jusqu'à 22. Un contrat de manche est possible

Est-il possible qu'un fit existe à pique ?

Oui, votre partenaire peut avoir 4 cartes à pique

Quelle doit être votre enchère ?

1♠

Le répondant a fait un changement de couleur

Objectifs à partir d'une ouverture en mineure

Les règles :

- Sur une ouverture mineure, le répondant doit annoncer une majeure d'au moins 4 cartes dès qu'il possède 5-6 points HL ou un As
- Le changement de couleur est illimité.
- Tout changement de couleur du répondant est forcing
- S'il a deux couleurs d'inégale longueur, il annonce la plus longue
- Si le répondant a 4 cartes à cœur et 4 à pique, il annonce la plus économique (cœur)
- Si le répondant a 5 cartes à cœur et 5 à pique, il annonce la plus chère (pique)

Exercice

Votre partenaire ouvre de 1♣, quelle est votre réponse ?

♠ A V 7 4
♥ 6 2
♦ V 8 3
♣ 9 7 5 4

♠ A 6 5 3 2
♥ R D 9 4
♦ 8
♣ 9 4 3

♠ A R D 5
♥ V 6 5 2
♦ A R 8
♣ R 3

♠ A V 9 4
♥ 4 2
♦ R 2
♣ V 10 8 7 3

Points HL = 6
(6H+0L)
4 cartes à pique
Un As
Suffisant pour

1♠

Points HL = 10
(9H+1L)
5 cartes à pique et
4 à cœur
La plus longue

1♠

Points HL = 20
(20H + 0L)
4 cartes à cœur, 4
cartes à pique
La plus
économique

1♥

Points HL = 10
(9H + 1L)
Fit à trèfle
Points HLD = 12
4 cartes à pique

1♠

Quelques bons exemples de l'ambiguïté de la réponse de 1 en majeur. La réponse étant forcing, le répondant pourra reparler et préciser sa main au 2^{ème} tour

Découverte d'un fit dans la majeure du répondant

Rappel des soutiens du répondant à l'ouverture de 1 en majeure

- ✓ Soutien simple : palier de 2 avec 6-10 points HLD
- ✓ Soutien avec simple saut : palier de 3 avec 11-12 points HLD
- ✓ Soutien avec double saut : palier de 4 avec 13-15 points HLD

Vous avez ouvert de **1♣/1♦**. Votre partenaire vous répond **1♥/1♠**

Vous avez 4 cartes dans cette couleur. *Etes-vous fitté ?*

OUI puisqu'il vous a promis au moins 4 cartes

Vous allez donc le lui dire en répondant à un palier qui correspond à la force de votre main

La force de votre main	Force minimale du camp	Votre réponse
13 – 16 HLD	19-20 à 22 HLD	Soutien simple : 2♥/2♠
17-19 HLD	22-23 à 27 HLD	Soutien avec simple saut : 3♥/3♠
20-23 HLD	25-26 à 29HLD	Soutien avec double saut : 4♥/4♠

Découverte d'un fit dans la majeure du répondant

La force de votre main	Force minimale du camp	Votre réponse
13 – 16 HLD	19-20 à 22 HLD	Soutien simple : 2 ♥ / 2 ♠
17-19 HLD	22-23 à 27 HLD	Soutien avec simple saut : 3 ♥ / 3 ♠
20-23 HLD	25-26 à 29HLD	Soutien avec double saut : 4 ♥ / 4 ♠

Remarques :

1. Le soutien avec simple saut montre un jeu irrégulier

Puisque avec ces points, vous n'avez pas ouvert de 1SA

2. Vous n'avez pas « théoriquement » la certitude d'avoir les points du palier de 3 ou de la manche

L'expérience montre que votre partenaire apportera un point de plus de distribution qu'il n'a pas pris en compte car il ignorait le fit.

En cas de fit, la main du répondant vaut toujours au moins 7 points

Exercice

Vous avez ces mains en Sud. Quelle est votre ouverture et votre 2^{ème} enchère après la réponse de votre partenaire ?

♠ A 8 6 2
♥ A D 3
♦ R V 6 4
♣ 5 3

Ouverture	1♦
Réponse	1♠
2 ^{ème} enchère	2♠
Votre force	15
La force minimale de votre camp HLD	22

♠ R D V 7
♥ R V 9 4
♦ A D 3
♣ R 3

Ouverture	1♦
Réponse	1♠
2 ^{ème} enchère	4♠
Votre force	20
La force minimale de votre camp HLD	27

♠ A V 3
♥ A R 8 4
♦ 2
♣ R V 10 9 5

Ouverture	1♣
Réponse	1♥
2 ^{ème} enchère	3♥
Votre force	19
La force minimale de votre camp HLD	26

Et ensuite, le répondant peut faire une deuxième enchère ...

Il connaît de façon plus précise la force de la main de l'ouvreur

13-16 HLD

17-19 HLD

20-23 HLD

Il calcule la force **plancher** et **plafond** de son camp et en déduit la **zone** dans laquelle est le camp

Ses points + les points mini et maxi de l'ouvreur

Il en conclue sa deuxième enchère









Exercice

*Votre partenaire a ouvert et vous a soutenu lors de sa 2^{ème} enchère.
Quelle est votre 2^{ème} enchère après sa réponse?*

	♠ A 9 6 2 ♥ 7 5 ♦ 7 5 4 ♣ A 6 5 3	♠ A D 8 7 ♥ R 7 5 ♦ D V 5 2 ♣ 7 5	♠ A V 6 2 ♥ V 4 3 ♦ 7 5 2 ♣ 9 6 3
Redemande ouvreure	2♠	4♠	3♠
Sa force en points HLD	13 à 16	20 à 23	17 à 19
Votre force	9	13	6
Plancher de votre camp HLD	22	33	23
Plafond de votre camp HLD	25	36	25
Votre 2^{ème} enchère ?	Passe	6♠	Passe

Exercice

*Votre partenaire a ouvert et vous a soutenu lors de sa 2^{ème} enchère.
Quelle est votre 2^{ème} enchère après sa réponse?*

	 R V 9 6	 A R 8 2
	 D 2	 A 8
	 9 6 3	 D 8 5
	 V 4 3 2	 9 6 5 4
Redemande ouvreur	4♠	2♠
Sa force en points HLD	20 à 23	13 à 16
Votre force	8	6
Plancher de votre camp HLD	28	27
Plafond de votre camp HLD	31	30
Votre 2^{ème} enchère ?	Passe	4♠

Cours Initiation

Leçon 19

Suite des impasses

**Réussir des levées avec des cartes non
maîtresses**

Exercice

Vous êtes le déclarant en Sud. Comment jouez-vous pour réaliser toutes les levées restantes ?

	♠ A D	
	♥ 3	
♠ R 9	N	♠ V 10
♥ 4	O E	♥ 5
	S	
	♠ 3 2	
	♥ A	

Le Roi de pique est dans la main d'un joueur de la défense

1. La main est en Sud

Vous jouez le 2 de pique vers La fourchette As-Dame du mort

- Si ouest fournit le roi, vous prenez de l'As et la Dame est devenu maîtresse
- Si ouest ne fournit pas le Roi, vous jouez la Dame et espérez que le Roi est en Est. L'impasse réussit

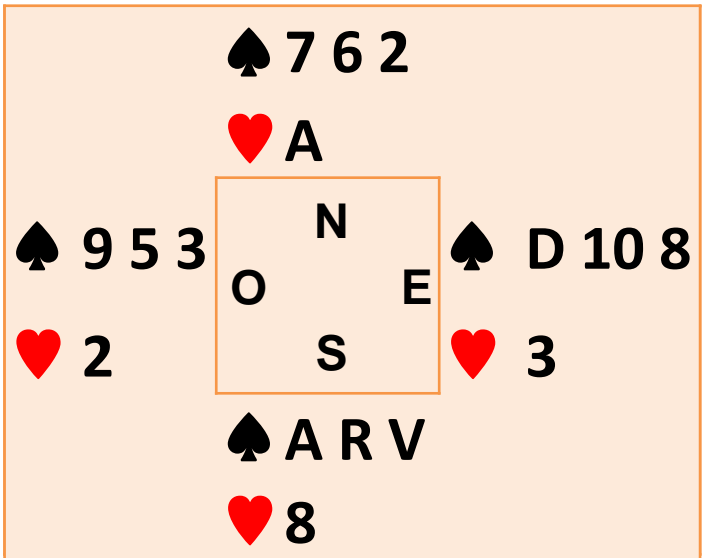
2. La main est au mort

Vous revenez en main par l'As de cœur et jouez le 2 de pique vers La fourchette As-Dame du mort

- Si Est fournit le roi, vous prenez de l'As et la Dame est devenu maîtresse
- Si Est ne fournit pas le Roi, vous jouez la Dame et espérez que le Roi est en Est. L'impasse réussit

Exercice

Vous êtes le déclarant en Sud. Comment jouez-vous pour réaliser toutes les levées restantes ?



La Dame de pique est dans la main d'un joueur de la défense

1. La main est en Nord

Vous jouez le 2 de pique vers La fourchette Valet de votre main

- Si Est fournit la Dame, vous prenez de l'As et le Valet est devenu carte maîtresse
- Si Est ne fournit pas la Dame, vous jouez le Valet et espérez que la Dame est en Est. L'impasse réussit

2. La main est en Sud

Vous revenez en main par l'As de cœur et jouez le 2 de pique vers la fourchette Roi-Valet

- Si Est fournit la Dame, vous prenez de l'As et le Valet est devenu carte maîtresse
- Si Est ne fournit pas la Dame, vous jouez le Valet et espérez que la Dame est en Est. L'impasse réussit

Impasse directe

Dans ces deux cas, l'impasse réussit

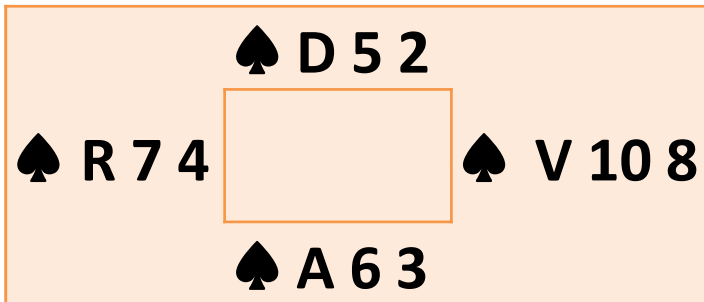
L'adversaire a-t-il eu une occasion de prendre la main?

*Non, c'est ce qu'on appelle une
IMPASSE DIRECTE*

*Toute impasse qui permet de réaliser une levée
avec une carte non maîtresse, sans que
l'adversaire ait eu la possibilité de prendre la
main, est appelé impasse directe*

Exercice

Vous êtes le déclarant en Sud. Comment jouez-vous pour réaliser le maximum de levées?



Le Roi de pique est dans la main d'un joueur de la défense

1. La main est en Sud

Vous jouez le 3 de pique vers la Dame du mort

- Si Ouest fournit le roi, la Dame devient carte maîtresse
- Si Ouest ne fournit pas le Roi, vous jouez la Dame et espérez que le Roi est en Ouest. L'impasse réussit

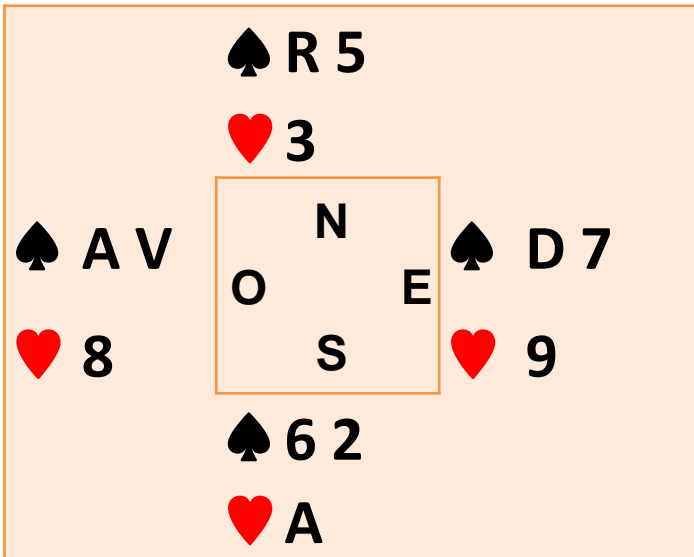
2. La main est au mort

Vous revenez en main par l'As de pique et jouez le 3 de pique vers la Dame du mort

- Si Est fournit le roi, la Dame est devenu maîtresse
- Si Est ne fournit pas le Roi, vous jouez la Dame et espérez que le Roi est en Est. L'impasse réussit

Exercice

Vous êtes le déclarant en Sud. Comment jouez-vous pour réaliser le maximum de levées?



L'As de pique est dans la main d'un joueur de la défense

1. La main est en Sud

Vous jouez le 2 de pique vers le Roi

- Si Ouest fournit l'As, le Roi est devenu carte maîtresse
- Si Ouest ne fournit pas l'As, Le Roi fait la levée. L'impasse réussit

2. La main est en Nord

Vous revenez en main par l'As de cœur et jouez le 2 de pique vers le Roi

- Si Ouest fournit l'As, le Roi est devenu carte maîtresse
- Si Ouest ne fournit pas le Roi, Le Roi fait la levée. L'impasse réussit

Exercice

Vous êtes le déclarant en Sud. Comment jouez-vous pour réaliser le maximum de levées?

	♠ R D 4	
	♥ 7 5	
♠ A V 6	N	♠ 10 9 5
♥ 9 3	O E	♥ V 8
	S	
	♠ 7 3 2	
	♥ A R	

L'As de pique est dans la main d'un joueur de la défense

1. La main est en Sud

Vous jouez le 2 de pique vers le Roi

- Si Ouest fournit l'As, le Roi et la dame sont devenus cartes maîtresses
- Si Ouest ne fournit pas l'As, la Dame fait la levée. L'impasse réussit
- Vous revenez en main par le Roi de cœur et renouveler l'impasse vers le Roi

2. La main est en Nord

Vous revenez en main par le Roi de cœur et jouez le 2 de pique vers le Roi

- Si Ouest fournit l'As, le Roi et la dame sont devenus cartes maîtresses
- Si Ouest ne fournit pas l'As, la Dame fait la levée. L'impasse réussit
- Vous revenez en main par l'As de cœur et renouveler l'impasse vers le Roi

Impasse indirecte







Dans ces trois cas, l'impasse réussit

L'adversaire a-t-il eu la possibilité de prendre la main?





*OUI, c'est ce qu'on appelle une
IMPASSE INDIRECTE*

Toute impasse qui, même en cas de réussite, permet à l'adversaire de prendre la main, est appelé impasse indirecte

Exercice

		9 7		R V 6		4 2
		A D		A 7 4		R 6
Quelle carte non maîtresse espérez-vous réaliser ?		La Dame de Carreau		Le Valet de Trèfle		Le Roi de Coeur
Quelle est la carte supérieure que les adversaires possèdent ?		Le Roi de carreau		La Dame de trèfle		L'As de Coeur
Dans quelle main doit elle se trouver pour réaliser la levée ?		En Est		En Ouest		En Est
L'impasse est-elle directe ou indirecte ?		Directe		Directe		Indirecte

Exercice


		D 7 4		V 7 6 2
		A 8 2		A R 5
Quelle carte non maîtresse espérez-vous réaliser ?		La dame de pique		Le Valet de trèfle
Quelle est la carte supérieure que les adversaires possèdent ?		Le Roi de pique		La Dame de trèfle
Dans quelle main doit elle se trouver pour réaliser la levée ?		En Ouest		En Ouest
L'impasse est-elle directe ou indirecte ?		Indirecte		Indirecte

DONNE 1

Donneur : Nord – Celui qui a le 3 de Trèfle

♠ V 5 2
 ♥ R 7 4 3
 ♦ A D V 10 3
 ♣ A

♠ 10 9 8
 ♥ V 9 5
 ♦ R 4 2
 ♣ D 10 8 4



♠ R D 4 3
 ♥ D 10
 ♦ 9 7 6
 ♣ R 9 7 2

♠ A 7 6
 ♥ A 8 6 2
 ♦ 8 5
 ♣ V 6 5 3

Entame :
 10 de
 pique

Sud	Ouest	Nord	Est
		1♦	passé
1♥	passé	3♥	passé
4♥	Fin		

Plan de jeu :

Sud recense 5 levées

Il peut espérer :

- deux levées de coupes à trèfle
- Une levée de coupe à pique après avoir défaussé un pique perdant de Sud sur les carreaux
- 3 levées supplémentaires de longueur à carreau et une 4^{ème} si le Roi est en Ouest

Sud devra tenter l'impasse au Roi deux ou trois fois. Mais il n'a que 2 communications. Il devra donc tenter une première impasse en priorité avant de capturer les atouts.

DONNE 1

Donneur : Nord – Celui qui a le 3 de Trèfle

♠ V 5 2
 ♥ R 7 4 3
 ♦ A D V 10 3
 ♣ A

♠ 10 9 8
 ♥ V 9 5
 ♦ R 4 2
 ♣ D 10 8 4

	N	
O		E
	S	

♠ R D 4 3
 ♥ D 10
 ♦ 9 7 6
 ♣ R 9 7 2

♠ A 7 6
 ♥ A 8 6 2
 ♦ 8 5
 ♣ V 6 5 3

Sud	Ouest	Nord	Est
		1♦	passé
1♥	passé	3♥	passé
4♥	Fin		

Minutage :

1. Sud prend l'entame de l'As
2. 5 de Carreau pour l'impasse au Roi
3. Atout pour l'As
4. 8 de Carreau pour l'impasse au Roi
5. Roi d'atout
6. Atout pris par le Valet d'Ouest
7. 9 et 8 de Pique pris par le Roi d'Est
8. Contre-attaque Trèfle pris par l'As
9. Trois levées à Carreau
10. Atout maître


Entame : 10 de pique

♠ A D V 6

♥ A 6 5 2

♦ A 10

♣ A 8 4



♠ 8 7 5 2

♥ R 10 3

♦ V 8 6

♣ R 7 5

♠ R 10 4

♥ D 7

♦ D 9 4 3

♣ D V 10 3

♠ 9 3

♥ V 9 8 4

♦ R 7 5 2

♣ 9 6 2

Sud	Ouest	Nord	Est
			passe
passe	passe	1♣	passe
1♠	passe	4♠	Fin

Plan de jeu :

Sud recense 6 levées

- Il peut espérer 2 levées en capturant tous les atouts si l'impasse du Roi réussit et que le résidu est 3-2
- Il fera deux levées par le dédoublement des atouts en coupant Carreau du Mort et Trèfle ou Cœur de sa main

Entame : Dame de trèfle

♠ A D V 6

♥ A 6 5 2

♦ A 10

♣ A 8 4

♠ R 10 4

♥ D 7

♦ D 9 4 3

♣ D V 10 3

	N	
O		E
	S	

♠ 9 3

♥ V 9 8 4

♦ R 7 5 2

♣ 9 6 2

♠ 8 7 5 2

♥ R 10 3

♦ V 8 6

♣ R 7 5

Sud	Ouest	Nord	Est
			passé
passé	passé	1♣	passé
1♠	passé	4♠	Fin

Minutage :

1. Sud prend l'entame du Roi
2. Atout pour l'impasse au Roi
3. Cœur pour le Roi de Sud
4. Atout pour renouveler l'impasse
5. As d'atout qui capture le Roi
6. As de Cœur
7. As de Trèfle
8. Cœur pris par le Valet d'Est
9. Trèfle pour la Dame d'Ouest
10. Trèfle coupé puis Carreau coupé.

Entame : Dame de trèfle

DONNE 3

Donneur : Nord – Celui qui a le 3 de Carreau

♠ A 9 4 2

♥ A V 3

♦ A 6 5 3


♣ 8 4

♠ R V 10

♥ 10 9 8 5

♦ D 9

♣ 9 6 5 2



♠ D

♥ R D 2

♦ V 10 8 4 2

♣ R 10 7 3

♠ 8 7 6 5 3

♥ 7 6 4

♦ R 7

♣ A D V

Sud	Ouest	Nord	Est
		1♦	passé
1♠	passé	3♠	passé
4♠	Fin		

Plan de jeu :

L'entame affranchit deux levées de la défense

Sud recense 5 levées

Il peut espérer :

- deux levées à trèfle en cas de réussite de l'impasse au Roi de Trèfle. De plus, elle permettra la défausse d'un Cœur perdant
- La répartition 3-2 du résidu à l'atout permettrait de réaliser deux levées supplémentaires

Entame : 10 de Cœur

DONNE 3

Donneur : Nord – Celui qui a le 3 de Carreau

♠ A 9 4 2

♥ A V 3

♦ A 6 5 3


♣ 8 4

♠ R V 10

♥ 10 9 8 5

♦ D 9

♣ 9 6 5 2



♠ D

♥ R D 2

♦ V 10 8 4 2

♣ R 10 7 3

♠ 8 7 6 5 3

♥ 7 6 4

♦ R 7

♣ A D V

Sud	Ouest	Nord	Est
		1♦	passe
1♠	passe	3♠	passe
4♠	Fin		

Minutage :

1. Sud prend l'entame de l'As du Mort
2. 4 de Trèfle pour l'impasse au Roi
3. Atout pour l'As du Mort
4. Trèfle pour renouveler l'impasse du Roi
5. As de Trèfle, défausse du 3 de Cœur
6. Atout pris par le Valet d'ouest qui rejoue atout
7. La défense réalisera encore une levée à Cœur, le reste étant coupé par le déclarant et le Mort.


Entame : 10 de Cœur

DONNE 4

Donneur : Est – Celui qui a le 3 de Carreau

♠ 9 5
 ♥ A R V 10
 ♦ A 7 4
 ♣ A R 8 3

♠ V 8 7 3
 ♥ D 8 7 6
 ♦ R D V
 ♣ 10 5



♠ 10 6 4
 ♥ 2
 ♦ 9 6 5 3 2
 ♣ 9 7 6 4

♠ A R D 2
 ♥ 9 5 4 3
 ♦ 10 8
 ♣ D V 2

Sud	Ouest	Nord	Est
	passe	1 ♣	passe
1 ♥	passe	4 ♥	passe
6 ♥	Fin		

Plan de jeu :

Sud recense 12 levées si la Dame de Cœur est bien placée

- Il va devoir faire l'impasse à la dame autant de fois que nécessaire
- Il dispose des communications à Pique et Trèfle pour revenir dans sa main

Entame : Roi de Carreau

♠ 9 5

♥ A R V 10

♦ A 7 4

♣ A R 8 3

♠ V 8 7 3

♥ D 8 7 6

♦ R D V

♣ 10 5

	N	
O		E
	S	

♠ 10 6 4

♥ 2

♦ 9 6 5 3 2

♣ 9 7 6 4

♠ A R D 2

♥ 9 5 4 3

♦ 10 8

♣ D V 2

Entame :
Roi de
Carreau

Sud	Ouest	Nord	Est
	passé	1 ♣	passé
1 ♥	passé	4 ♥	passé
6 ♥	Fin		

Minutage :

1. Sud prend l'entame de l'As au Mort
2. Pique pour l'As de sa main
3. Atout pour l'impasse à la Dame
4. Pique pour le Roi de sa main
5. Atout pour renouveler l'impasse. Il constate la répartition 4-1 du résidu et devra donc renouveler l'impasse deux fois

6. Trèfle pour la Dame de sa main
7. Atout pour renouveler l'impasse. As de Cœur, il capture la Dame
8. As et Roi de Trèfle, défusse du Carreau perdant
9. Il devra donner une levée à Pique

Cours Initiation

Leçon 19

**Ouverture en mineure, proposition de
manche**

Suite impasses

Exercices pour la maison

Exercice

Quelle est votre ouverture avec les mains suivantes.

Précisez :

- Si votre enchère est précise ou ambiguë*
- Le nombre promis de cartes dans la couleur annoncée*

♠ A V 9 5 3
♥ 3
♦ A R D 9 3
♣ 10 4

♠ R 10 8 5
♥ R 9 7 2
♦ A D 3
♣ V 7

♠ R 4
♥ A D 6
♦ A D 10 8 3
♣ R D 5

Exercice

Quelle est votre ouverture avec les mains suivantes.

Précisez :

- Si votre enchère est précise ou ambiguë*
- Le nombre promis de cartes dans la couleur annoncée*

♠ R 10 8 5
♥ 3
♦ A D 10 5
♣ R D V 4

♠ R 9 8 3
♥ R 9 7 5
♦ A 3
♣ R 10 4

♠ A D 6
♥ R D 10 3
♦ A D 5
♣ D 8 5

Exercice

Avec les mains suivantes, vous avez ouvert de 1♣ et votre partenaire a répondu 1♥.

Quelle est votre deuxième enchère ?

♠ D 10 4
♥ R 9 7 4
♦ R 9 2
♣ A V 3

♠ R 5 3
♥ R V 9 6
♦ 3
♣ A V 8 7 4

♠ 3
♥ A V 10 4
♦ V 7 3
♣ A R D 10 5

Exercice

Avec les mains suivantes, vous avez ouvert de 1♣ et votre partenaire a répondu 1♥.

- Quelle sont les limites de forces de votre camp ?*
- Quelle est votre enchère ?*

♠ R D 9 6
♥ A D 7 3
♦ A 4
♣ R V 5

♠ A D 5 4
♥ R 10 8 3
♦ -
♣ A R V 8 5

♠ A R V 5
♥ 9 8 5 2
♦ R 5
♣ D V 8

Exercice

Sur l'ouverture de 1♦ de votre partenaire, vous avez répondu 1♠, et votre partenaire vous soutient à 2♠.

Quelle est votre deuxième enchère ?

♠ R V 7 2
♥ V 3
♦ V 9 7 4 3
♣ 8 5

♠ A 9 7 4 3
♥ A D 5
♦ 3
♣ V 10 8 2

♠ A V 7 3
♥ R 10 5
♦ 7 4
♣ R 9 7 2

Exercice

Sur l'ouverture de 1♦ de votre partenaire, vous avez répondu 1♠, et votre partenaire vous soutient à 2♠.







Quelle est votre deuxième enchère ?

♠ D 10 9 7 6
♥ A V 5 2
♦ 8 4
♣ 10 7

♠ D V 9 3
♥ A 7 2
♦ R 6 2
♣ R 7 3

♠ A R 7 6 3
♥ 3
♦ A V 6
♣ A 10 8 4

Exercice

		A D		R 6		D 5 4
		4 2		5 4		A 3 2
Comment jouer pour réaliser le maximum de levées ?						
Quelle carte non maîtresse espérez-vous réaliser ?						
Quelle est la carte supérieure que les adversaires possèdent ?						
Dans quelle main doit elle se trouver pour réaliser la levée ?						
L'impasse est-elle directe ou indirecte ?						

Exercice

	♦	A R V	♣	R D 8
	♦	4 3 2	♣	7 5 3
Comment jouer pour réaliser le maximum de levées ?				
Quelle carte non maîtresse espérez-vous réaliser ?				
Quelle est la carte supérieure que les adversaires possèdent ?				
Dans quelle main doit elle se trouver pour réaliser la levée ?				
L'impasse est-elle directe ou indirecte ?				

Exercice

Quelle est votre ouverture avec les mains suivantes.

Précisez :

- Si votre enchère est précise ou ambiguë*
- Le nombre promis de cartes dans la couleur annoncée*

♠ A V 9 5 3
♥ 3
♦ A R D 9 3
♣ 10 4

1♠

**Enchère ambiguë
5 cartes minimum**

♠ R 10 8 5
♥ R 9 7 2
♦ A D 3
♣ V 7

1♦

**Enchère ambiguë
3 cartes minimum**

♠ R 4
♥ A D 6
♦ A D 10 8 3
♣ R D 5

2SA

**Enchère précise
20-21 points**

Exercice

Quelle est votre ouverture avec les mains suivantes.

Précisez :

- Si votre enchère est précise ou ambiguë*
- Le nombre promis de cartes dans la couleur annoncée*

♠ R 10 8 5
♥ 3
♦ A D 10 5
♣ R D V 4

1♦

**Enchère ambiguë
3 cartes minimum**

♠ R 9 8 3
♥ R 9 7 5
♦ A 3
♣ R 10 4

1♣

**Enchère ambiguë
3 cartes minimum**

♠ A D 6
♥ R D 10 3
♦ A D 5
♣ D 8 5

1♣

**Enchère
ambiguë
3 cartes minimum**

Exercice

Avec les mains suivantes, vous avez ouvert de 1♣ et votre partenaire a répondu 1♥.

Quelle est votre deuxième enchère ?

♠ D 10 4
♥ R 9 7 4
♦ R 9 2
♣ A V 3

Fit à cœur

13 HLD

Plancher du camp :

19 HLD

2♥

♠ R 5 3
♥ R V 9 6
♦ 3
♣ A V 8 7 4

Fit à cœur

15 HLD

Plancher du camp :

21 HLD

2♥

♠ 3
♥ A V 10 4
♦ V 7 3
♣ A R D 10 5

Fit à cœur

18 HLD

Plancher du camp :

24 HLD

3♥

Exercice

Avec les mains suivantes, vous avez ouvert de 1♣ et votre partenaire a répondu 1♥.

- Quelle sont les limites de forces de votre camp ?*
- Quelle est votre enchère ?*

♠ R D 9 6
♥ A D 7 3
♦ A 4
♣ R V 5

Fit à cœur

20 HLD

Plancher du camp :

26 HLD

4♥

♠ A D 5 4
♥ R 10 8 3
♦ -
♣ A R V 8 5

Fit à cœur

21 HLD

Plancher du camp :

27 HLD

4♥

♠ A R V 5
♥ 9 8 5 2
♦ R 5
♣ D V 8

Fit à cœur

15 HLD

Plancher du camp :

21 HLD

2♥

Exercice

Sur l'ouverture de 1♦ de votre partenaire, vous avez répondu 1♠, et votre partenaire vous soutient à 2♠.

Quelle est votre deuxième enchère ?

♠ R V 7 2
♥ V 3
♦ V 9 7 4 3
♣ 8 5

Vous : 9 HLD

Le partenaire :

13-16 HLD

Votre camp :

22-25 HLD

PASSE

♠ A 9 7 4 3
♥ A D 5
♦ 3
♣ V 10 8 2

Vous : 16 HLD

Le partenaire :

13-16 HLD

Votre camp :

29-32 HLD

4♠

♠ A V 7 3
♥ R 10 5
♦ 7 4
♣ R 9 7 2

Vous : 12 HLD

Le partenaire :

13-16 HLD

Votre camp :

25-28 HLD

4♠

(vous ne voulez pas rater la manche)

Exercice

Sur l'ouverture de 1♦ de votre partenaire, vous avez répondu 1♠, et votre partenaire vous soutient à 2♠.

Quelle est votre deuxième enchère ?

♠ D 10 9 7 6
♥ A V 5 2
♦ 8 4
♣ 10 7

Vous : 11 HLD

Le partenaire :

13-16 HLD

Votre camp :

24-27 HLD

3♠

♠ D V 9 3
♥ A 7 2
♦ R 6 2
♣ R 7 3

Vous : 13 HLD

Le partenaire :

13-16 HLD

Votre camp :

26-29 HLD

4♠

♠ A R 7 6 3
♥ 3
♦ A V 6
♣ A 10 8 4

Vous : 21 HLD

Le partenaire :

13-16 HLD

Votre camp :

34-37 HLD

6♠

Exercice

	♦	A D	♣	R 6	♥	D 5 4
	♦	4 2	♣	5 4	♥	A 3 2
Comment jouer pour réaliser le maximum de levées ?		Impasse au Roi		Impasse à l'As		Impasse au Roi
Quelle carte non maîtresse espérez-vous réaliser ?		La Dame de carreau		Le Roi de trèfle		La Dame de Cœur
Quelle est la carte supérieure que les adversaires possèdent ?		Le Roi de carreau		L'As de trèfle		Le Roi de Cœur
Dans quelle main doit elle se trouver pour réaliser la levée ?		En Ouest		En Ouest		En Ouest
L'impasse est-elle directe ou indirecte ?		Directe		Indirecte		Indirecte

Exercice

	♦	A R V	♣	R D 8
	♦	4 3 2	♣	7 5 3
Comment jouer pour réaliser le maximum de levées ?		Impasse à la Dame		Impasse à l'As
Quelle carte non maîtresse espérez-vous réaliser ?		Le Valet de carreau		Le Roi de trèfle
Quelle est la carte supérieure que les adversaires possèdent ?		La Dame de carreau		L'As de trèfle
Dans quelle main doit elle se trouver pour réaliser la levée ?		En Ouest		En Ouest
L'impasse est-elle directe ou indirecte ?		Directe		Indirecte